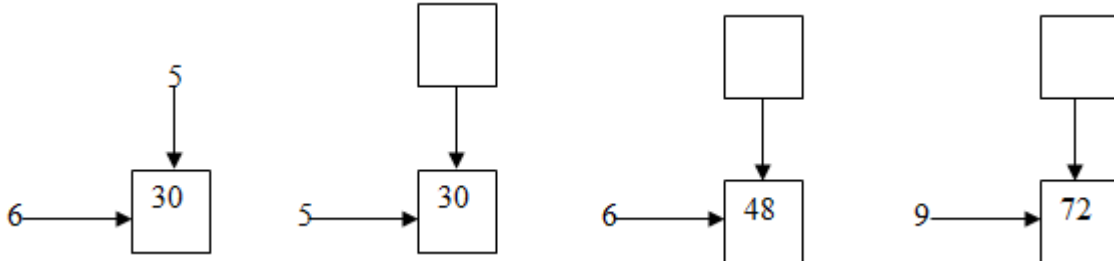


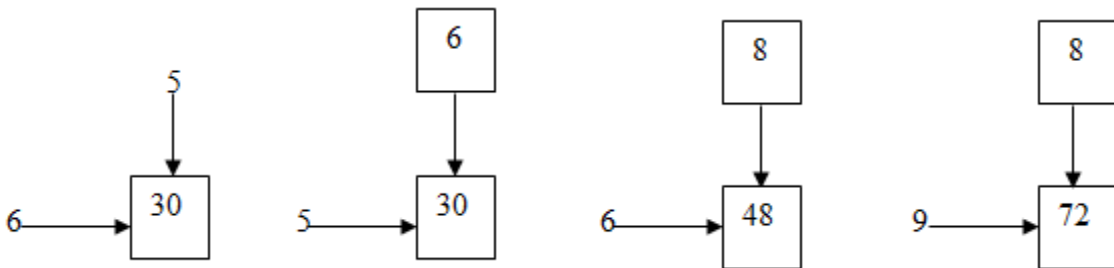
*Giải bài 72 trang 82, 83 VBT Toán lớp 3 tập 1*

Bài 1 trang 82 Vở bài tập Toán lớp 3 Tập 1:

Dùng bảng chia để tìm số thích hợp ở ô trống (theo mẫu):



**Lời giải:**



Bài 2 trang 82 Vở bài tập Toán lớp 3 Tập 1:

Số?

Số bị chia	35	35		24	24		36	36	
Số chia	5		5	3	3		4	9	4
Thương		7	7		8	8	9		

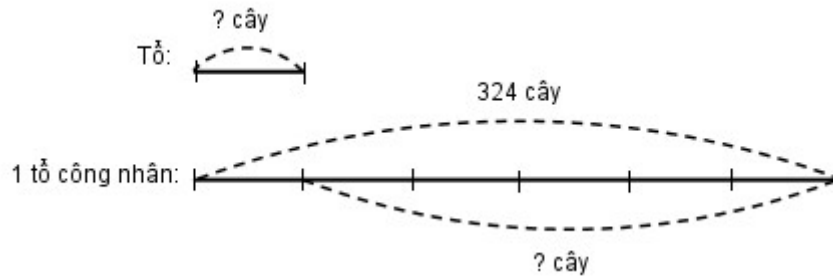
**Lời giải:**

Số bị chia	35	35	35	24	24	24	36	36	36
Số chia	5	5	5	3	3	3	4	9	4
Thương	7	7	7	8	8	8	9	4	9

Bài 3 trang 82 vở bài tập Toán lớp 3 Tập 1:

Một tổ công nhân phải trồng 324 cây và tổ đã trồng được  $\frac{1}{6}$  số cây đó. Hỏi tổ đó còn phải trồng bao nhiêu cây nữa?

*Tóm tắt*



**Lời giải:**

Số cây tổ công nhân đã trồng được là:

$$324 : 6 = 54 \text{ (cây)}$$

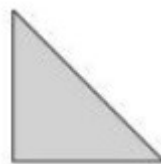
Số cây mà tổ đó còn phải trồng là:

$$324 - 54 = 270 \text{ (cây)}$$

Đáp số: 270 cây

Bài 4 trang 83 vở bài tập Toán lớp 3 Tập 1:

Cho 8 hình tam giác, mỗi hình như hình sau:



Hãy xếp thành hình bên

**Lời giải:**

