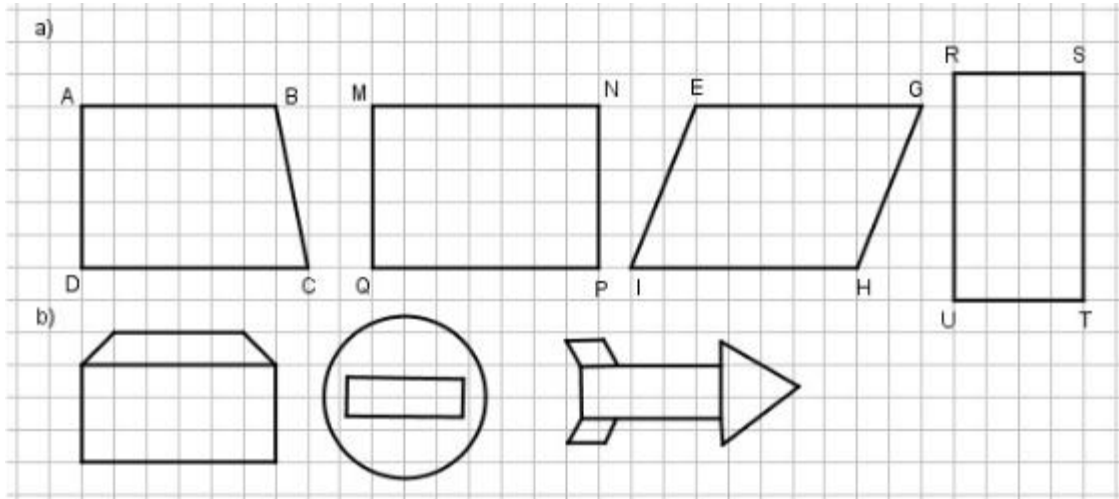


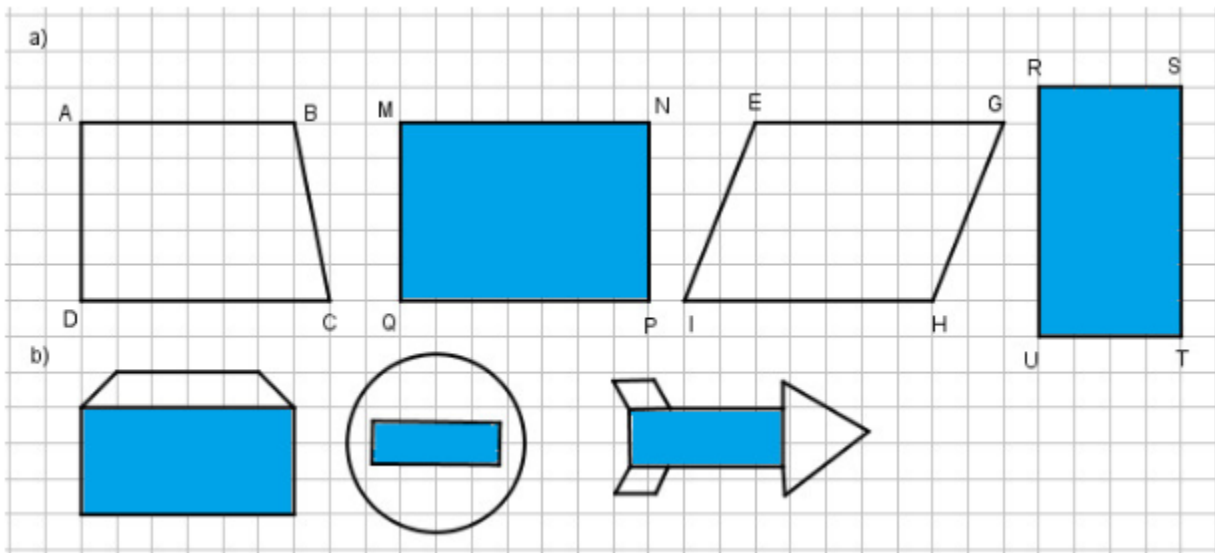
Giải bài 82 trang 93, 94 VBT Toán lớp 3 tập 1

Bài 1 trang 93 Vở bài tập Toán lớp 3 Tập 1:

Tô màu hình chữ nhật trong các hình sau:

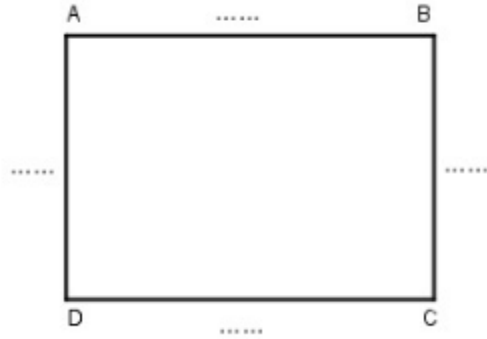


Lời giải:



Bài 2 trang 93 Vở bài tập Toán lớp 3 Tập 1:

a) Đo rồi ghi số đo độ dài các cạnh của hình chữ nhật vào chỗ chấm:

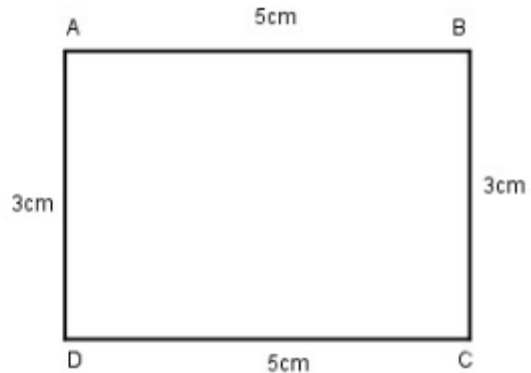
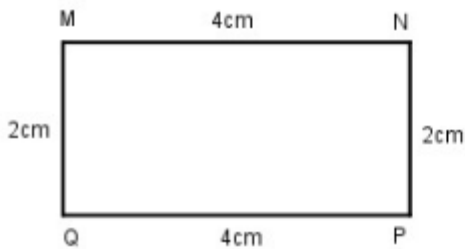


b) Viết tên cạnh thích hợp vào chỗ chấm:

MN =; MQ =; AB =; AD =

Lời giải:

a) Đo rồi ghi số đo độ dài các cạnh của hình chữ nhật vào chỗ chấm:

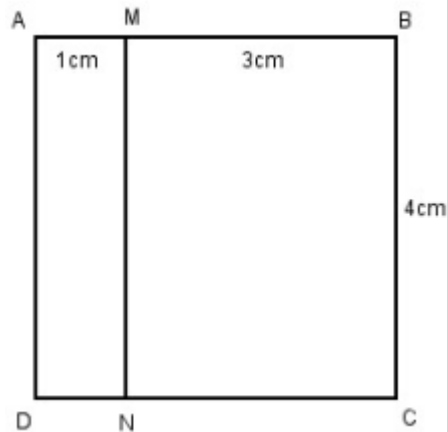


b) Viết tên cạnh thích hợp vào chỗ chấm:

MN = QP; MQ = NP; AB = DC; AD = BC.

Bài 3 trang 94 vở bài tập Toán lớp 3 Tập 1:

Viết tiếp vào chỗ chấm (theo mẫu):



a) Các hình chữ nhật có trong hình trên là:

AMND;;

b) Độ dài các cạnh của mỗi hình chữ nhật là:

AM = 1cm; MN =; DN =; AD =

MB = 3cm; BC =; CN =; MN =

BC = 4cm; CD =; AD =; AB =

Lời giải:

a) Các hình chữ nhật có trong hình trên là:

AMND; MBCN; ABCD.

b) Độ dài các cạnh của mỗi hình chữ nhật là:

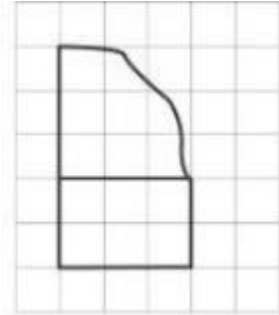
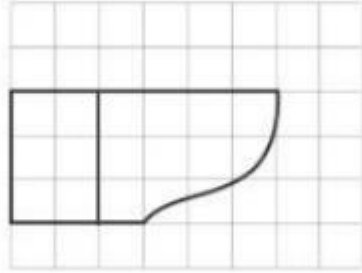
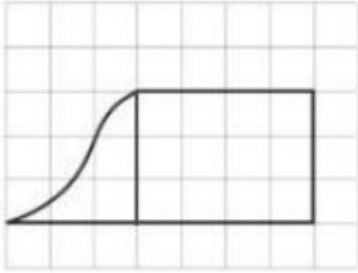
AM = 1cm; MN = 4cm; DN = 1cm; AD = 4cm

MB = 3cm; BC = 4cm; CN = 3cm; MN = 4cm

BC = 4cm; CD = 4cm; AD = 4cm; AB = 4cm

Bài 4 trang 94 vở bài tập Toán lớp 3 Tập 1:

Kẻ thêm một đoạn thẳng vào mỗi hình sau để được hình chữ nhật:



Lời giải:

