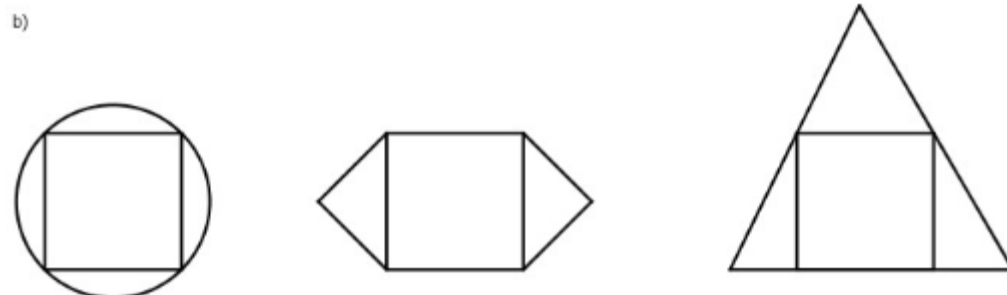
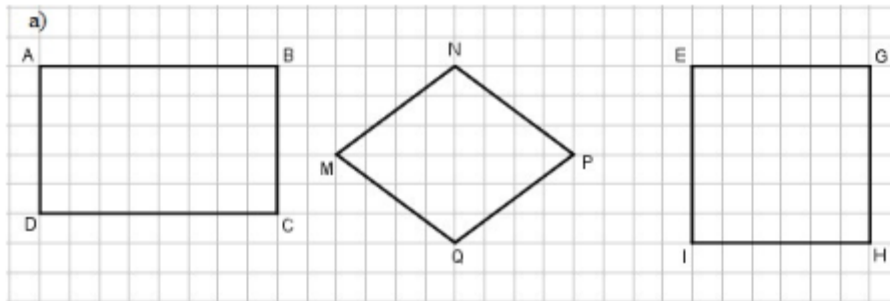


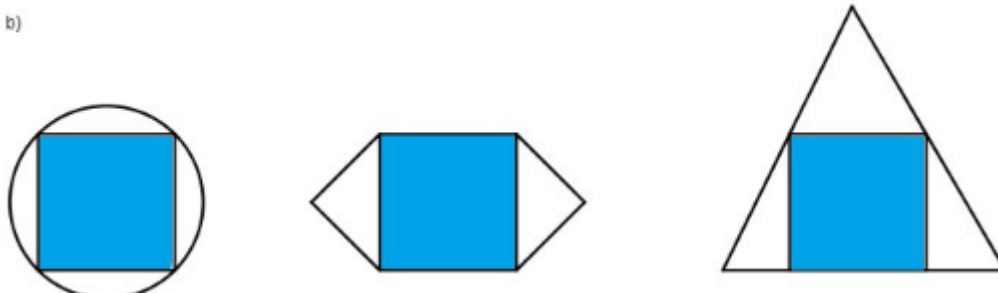
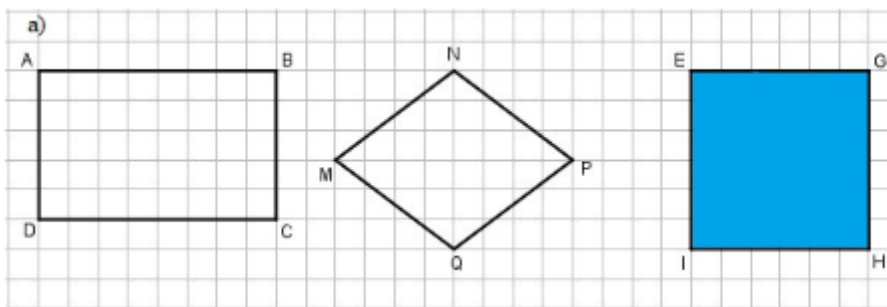
Giải bài 83 trang 95, 96 VBT Toán lớp 3 tập 1

Bài 1 trang 95 vở bài tập Toán lớp 3 Tập 1:

Tô màu hình vuông trong các hình sau:

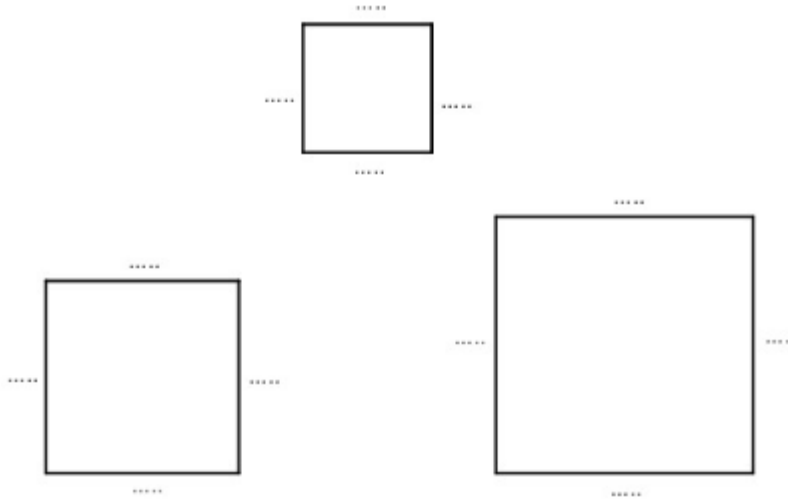


Lời giải:

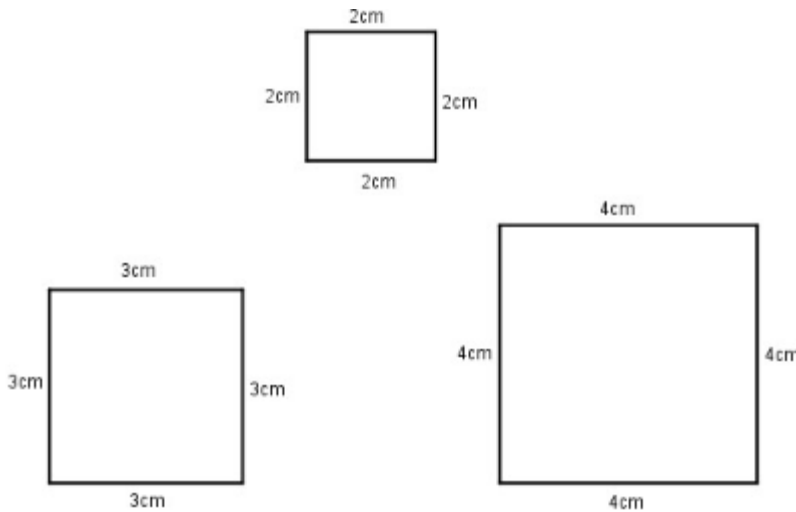


Bài 2 trang 95 Vở bài tập Toán lớp 3 Tập 1:

Đo rồi ghi số đo độ dài mỗi cạnh hình vuông:

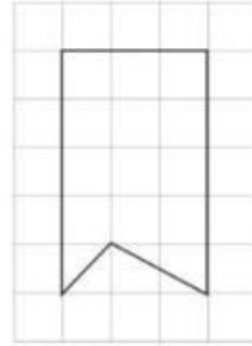

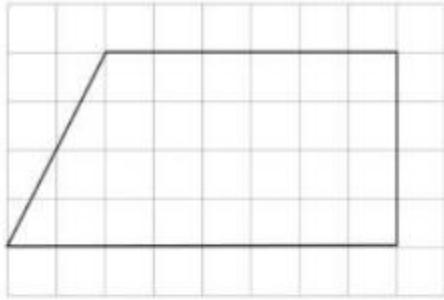


Lời giải:

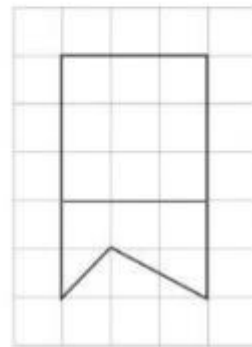
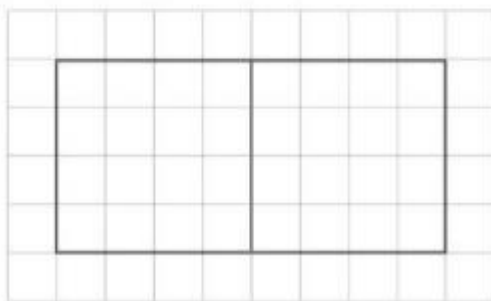
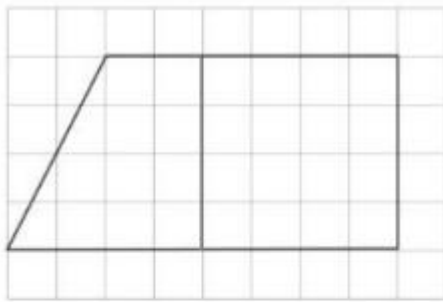


Bài 3 trang 96 Vở bài tập Toán lớp 3 Tập 1:

Kẻ thêm một đoạn thẳng vào mỗi hình sau để được hình vuông:

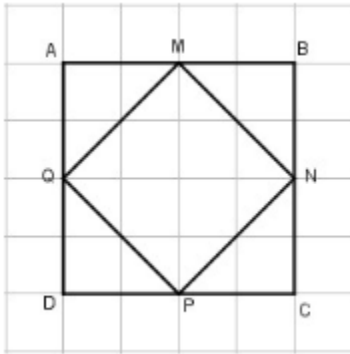


Lời giải:



Bài 4 trang 96 vở bài tập Toán lớp 3 Tập 1:

a) Vẽ hình theo mẫu



b) Dùng ê ke để kiểm tra các góc vuông có trong hình mẫu, rồi ghi tên các góc vuông đó vào chỗ chấm:

Các góc vuông đó là: Góc đỉnh A; cạnh AM, AQ.....

Lời giải:

a) (Học sinh tự vẽ)

b) Các góc vuông đó là:

Góc đỉnh A; cạnh AM, AQ.

Góc đỉnh B; cạnh BM, BN.

Góc đỉnh C; cạnh CP, CN.

Góc đỉnh D; cạnh DP, DQ.

Góc đỉnh M; cạnh MQ, MN.

Góc đỉnh N; cạnh NM, NP.

Góc đỉnh P; cạnh PN, PQ.

Góc đỉnh Q; cạnh QP, QM.