

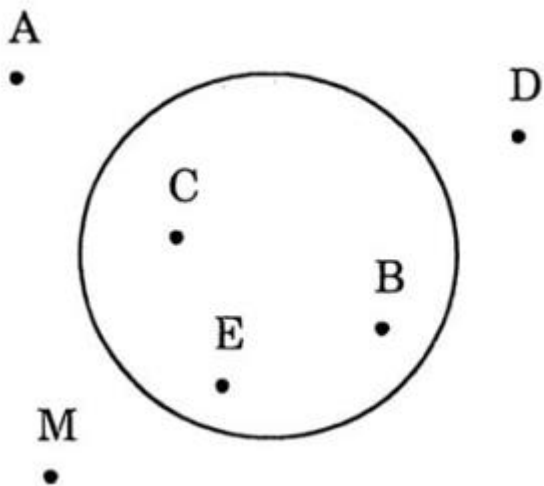
Nội dung bài viết

1. [Giải Bài 1 trang 29 VBT Toán lớp 1 tập 2](#)
2. [Giải Bài 2 trang 29 VBT Toán lớp 1 tập 2](#)
3. [Giải Bài 3 trang 29 VBT Toán lớp 1 tập 2](#)
4. [Giải Bài 4 trang 29 VBT Toán lớp 1 tập 2](#)

Mời các em học sinh và quý thầy cô tham khảo ngay hướng dẫn giải **Vở bài tập Toán lớp 1 trang 29 Bài 95 tập 2: Điểm ở trong điểm ở ngoài một hình** (chính xác nhất) được đội ngũ chuyên gia biên soạn ngắn gọn và đầy đủ, có đáp án chi tiết cho từng bài tập giúp các em học sinh ôn tập những dạng bài để học tốt được môn Toán lớp 1. Mời các em cùng tham khảo chi tiết dưới đây.

Giải Bài 1 trang 29 VBT Toán lớp 1 tập 2

Đúng ghi đ, sai ghi s:



Điểm A trong hình tròn

Điểm B trong hình tròn

Điểm M ở ngoài hình tròn

Điểm D ở ngoài hình tròn

Điểm C ở ngoài hình tròn

Điểm E ở trong hình tròn

Lời giải chi tiết:

Điểm A trong hình tròn

s

Điểm B trong hình tròn

đ

Điểm M ở ngoài hình tròn

đ

Điểm D ở ngoài hình tròn

đ

Điểm C ở ngoài hình tròn

s

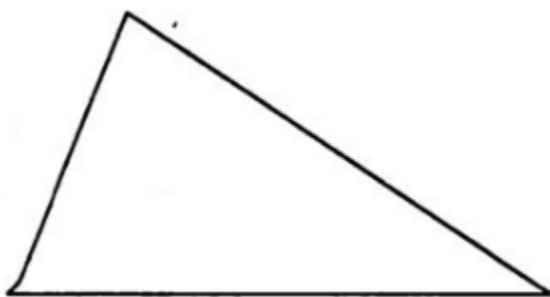
Điểm E ở trong hình tròn

đ

Giải Bài 2 trang 29 VBT Toán lớp 1 tập 2


a) Vẽ 2 điểm ở trong hình tam giác

Vẽ 3 điểm ở ngoài hình tam giác.



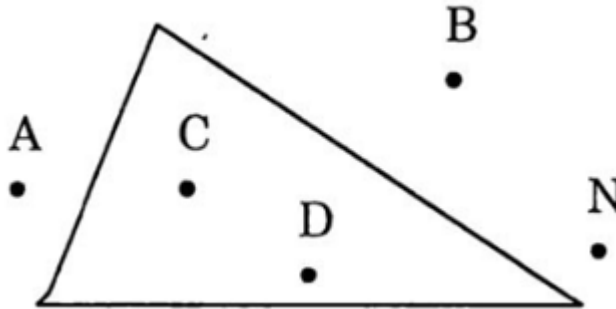
b) Vẽ 4 điểm ở trong hình vuông.

Vẽ 2 điểm ở ngoài hình vuông.

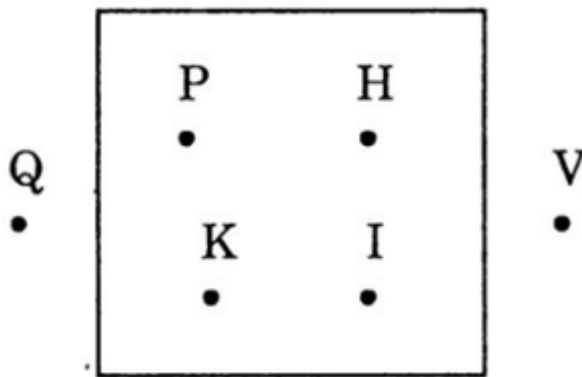


Lời giải chi tiết:

a)



b)



Giải Bài 3 trang 29 VBT Toán lớp 1 tập 2

Tính:

$$10 + 20 + 40 = \dots \quad 70 - 20 - 10 = \dots \quad 80 - 50 - 20 = \dots$$

$$30 + 10 + 50 = \dots \quad 70 - 10 - 20 = \dots \quad 20 + 40 - 60 = \dots$$

Lời giải chi tiết:

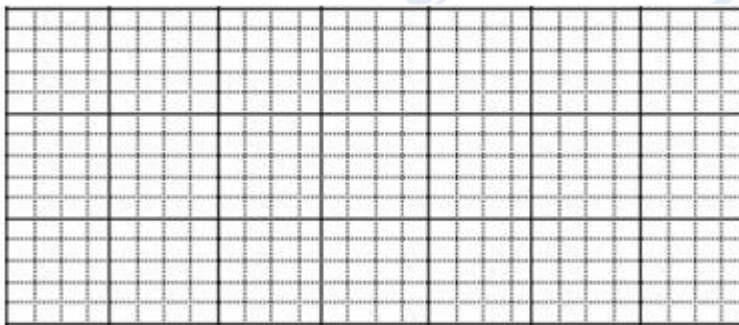
$$10 + 20 + 40 = 70 \quad 70 - 20 - 10 = 40 \quad 80 - 50 - 20 = 10$$

$$30 + 10 + 50 = 90 \quad 70 - 10 - 20 = 40 \quad 20 + 40 - 60 = 0$$

Giải Bài 4 trang 29 VBT Toán lớp 1 tập 2

Băng giấy màu đỏ dài 30cm, băng giấy màu xanh dài 50cm. Hỏi cả hai băng giấy dài bao nhiêu xăng – ti – mét?

Bài giải



Lời giải chi tiết:

Tóm tắt

Băng giấy đỏ : 30cm

Băng giấy xanh : 50cm

Cả hai băng giấy : ... cm?

Bài giải

Cả hai băng giấy dài là:

$$30 + 50 = 80 \text{ (cm)}$$

Đáp số: 80 cm.

►► **CLICK NGAY** vào nút **TẢI VỀ** dưới đây để tải về **Giải VBT Toán 1 tập 2 trang 29 Bài 95: Điểm ở trong điểm ở ngoài một hình** (đầy đủ nhất) file PDF hoàn toàn miễn phí. Hy vọng với bộ tài liệu này thì các em học sinh sẽ học tốt môn Toán lớp 1 nhé!