

Nội dung bài viết

1. [Giải Bài 1 trang 32 VBT Toán lớp 1 tập 2](#)
2. [Giải Bài 2 trang 32 VBT Toán lớp 1 tập 2](#)
3. [Giải Bài 3 trang 32 VBT Toán lớp 1 tập 2](#)
4. [Giải Bài 4 trang 32 VBT Toán lớp 1 tập 2](#)

Mời các em học sinh và quý thầy cô tham khảo ngay hướng dẫn giải **Vở bài tập Toán lớp 1 tập 2 Tự kiểm tra, trang 32** (chính xác nhất) được đội ngũ chuyên gia biên soạn ngắn gọn và đầy đủ, có đáp án chi tiết cho từng bài tập giúp các em học sinh ôn tập những dạng bài để học tốt được môn Toán lớp 1. Mời các em cùng tham khảo chi tiết dưới đây.

Giải Bài 1 trang 32 VBT Toán lớp 1 tập 2

Tính:

$$\begin{array}{r}
 20 \\
 + 40 \\
 \hline
 \dots
 \end{array}
 \qquad
 \begin{array}{r}
 50 \\
 + 30 \\
 \hline
 \dots
 \end{array}
 \qquad
 \begin{array}{r}
 70 \\
 - 40 \\
 \hline
 \dots
 \end{array}$$

$$\begin{array}{r}
 10 \\
 + 80 \\
 \hline
 \dots
 \end{array}
 \qquad
 \begin{array}{r}
 60 \\
 - 30 \\
 \hline
 \dots
 \end{array}$$

Lời giải chi tiết:

$$\begin{array}{r} 20 \\ + 40 \\ \hline 60 \end{array}$$

$$\begin{array}{r} 50 \\ + 30 \\ \hline 80 \end{array}$$

$$\begin{array}{r} 70 \\ - 40 \\ \hline 30 \end{array}$$

$$\begin{array}{r} 10 \\ + 80 \\ \hline 90 \end{array}$$

$$\begin{array}{r} 60 \\ - 30 \\ \hline 30 \end{array}$$

Giải Bài 2 trang 32 VBT Toán lớp 1 tập 2

Tính nhẩm:

$$40 + 30 = \dots \quad 30\text{cm} + 20\text{cm} = \dots$$

$$80 - 40 = \dots \quad 70 + 10 - 20 = \dots$$

Lời giải chi tiết:


$$40 + 30 = 70 \quad 30\text{cm} + 20\text{cm} = 50\text{cm}$$

$$80 - 40 = 40 \quad 70 + 10 - 20 = 60$$

Giải Bài 3 trang 32 VBT Toán lớp 1 tập 2

Bác Thanh trồng được 10 cây bưởi và 30 cây chuối. Hỏi bác Thanh đã trồng được tất cả bao nhiêu cây?

Bài giải



Lời giải chi tiết:

Tóm tắt

Bác Thanh trồng : 10 cây bưởi

Bác Thanh trồng : 30 cây chuối

Bác Thanh trồng : ... cây?

Bài giải

Bác Thanh trồng được số cây là:

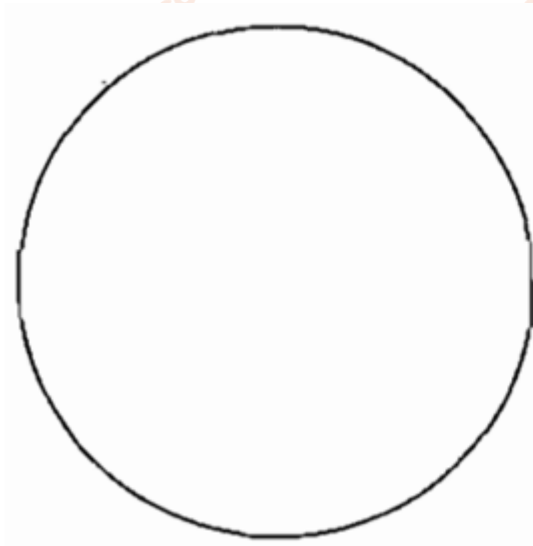
$$10 + 30 = 40 \text{ (cây)}$$

Đáp số: 40 cây.

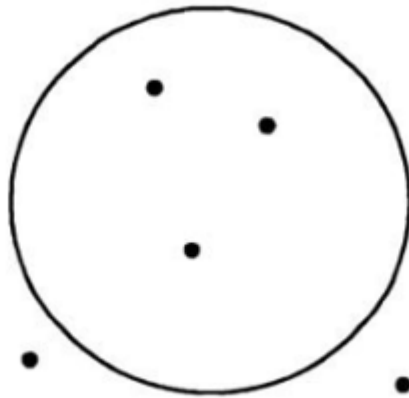
Giải Bài 4 trang 32 VBT Toán lớp 1 tập 2

Vẽ 3 điểm ở trong hình tròn.

Vẽ 4 điểm ở ngoài hình tròn.



Lời giải chi tiết:



►► **CLICK NGAY** vào nút **TẢI VỀ** dưới đây để tải về **Giải VBT Toán 1 tập 2 Tự kiểm tra, trang 32** (đầy đủ nhất) file PDF hoàn toàn miễn phí. Hy vọng với bộ tài liệu này thì các em học sinh sẽ học tốt môn Toán lớp 1 nhé!