

Nội dung bài viết

1. [Giải Bài 1 trang 45 VBT Toán lớp 1 tập 2](#)
2. [Giải Bài 2 trang 45 VBT Toán lớp 1 tập 2](#)
3. [Giải Bài 3 trang 46 VBT Toán lớp 1 tập 2](#)
4. [Giải Bài 4 trang 46 VBT Toán lớp 1 tập 2](#)

Mời các em học sinh và quý thầy cô tham khảo ngay hướng dẫn giải **Vở bài tập Toán lớp 1 trang 45 - 46 Bài 107 tập 2: Luyện tập** (chính xác nhất) được đội ngũ chuyên gia biên soạn ngắn gọn và đầy đủ, có đáp án chi tiết cho từng bài tập giúp các em học sinh ôn tập những dạng bài để học tốt được môn Toán lớp 1. Mời các em cùng tham khảo chi tiết dưới đây.

***Giải Bài 1 trang 45 VBT Toán lớp 1 tập 2***

Hà vẽ được 7 hình vuông và đã tô màu được 4 hình vuông. Hỏi còn lại mấy hình vuông chưa tô màu?

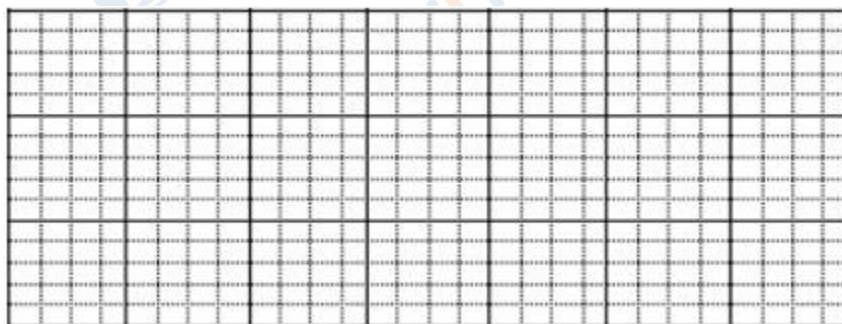
*Tóm tắt*

Có tất cả : ... hình vuông

Đã tô màu : ... hình vuông

Còn lại : ... hình vuông

*Bài giải*



**Lời giải chi tiết:**

*Tóm tắt*

Có tất cả : 7 hình vuông

Đã tô màu : 4 hình vuông

Còn lại : ... hình vuông

*Bài giải*

Còn lại số hình vuông chưa tô là:

$$7 - 4 = 3 \text{ (hình vuông)}$$

Đáp số: 3 hình vuông.

***Giải Bài 2 trang 45 VBT Toán lớp 1 tập 2***

Tổ em có 10 bạn, trong đó có 6 bạn gái. Hỏi tổ em có mấy bạn trai?

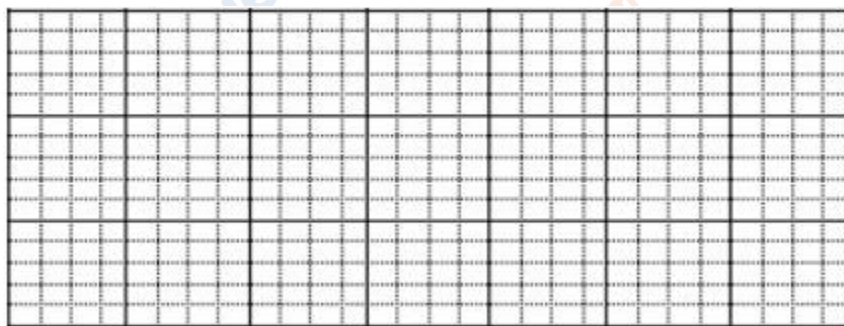
*Tóm tắt*

Có tất cả : ... bạn

Gái : ... bạn

Trai : ... bạn

*Lời giải*



**Lời giải chi tiết:**

*Tóm tắt*

Có tất cả : 10 bạn

Gái : 6 bạn

Trai : ... bạn

*Lời giải*

Số bạn trai trong tổ là:

$$10 - 6 = 4 \text{ (bạn)}$$

Đáp số: 4 bạn.

### ***Giải Bài 3 trang 46 VBT Toán lớp 1 tập 2***

Trong vườn có 16 cây chanh và cây cam, trong đó có 6 cây chanh. Hỏi trong vườn có bao nhiêu cây cam?

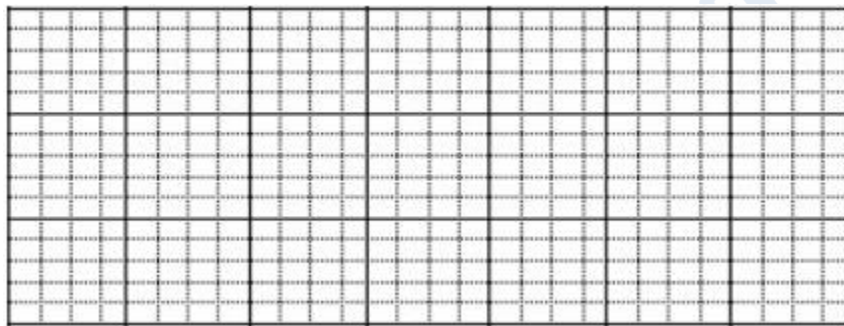
*Tóm tắt:*

Có tất cả : ... cây

Chanh : ... cây

Cam : ... cây?

*Bài giải*



**Lời giải chi tiết:**

*Tóm tắt:*

Có tất cả : 16 cây

Chanh : 6 cây

Cam : ... cây?

*Bài giải*

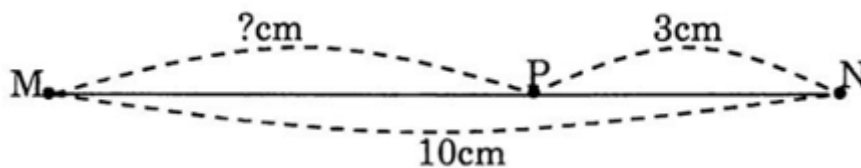
Cây cam có trong vườn là:

$$16 - 6 = 10 \text{ (cây)}$$

Đáp số: 10 cây.

**Giải Bài 4 trang 46 VBT Toán lớp 1 tập 2**

Giải bài toán theo tóm tắt (bằng hình vẽ) như sau:



**Lời giải chi tiết:**

Đoạn thẳng MP dài là:

$$MN - PN = 10 - 3 = 7 \text{ (cm)}$$

Đáp án: 7cm.

►► **CLICK NGAY** vào nút **TẢI VỀ** dưới đây để tải về **Giải VBT Toán 1 tập 2 trang 45 - 46 Bài 107: Luyện tập** (đầy đủ nhất) file PDF hoàn toàn miễn phí. Hy vọng với bộ tài liệu này thì các em học sinh sẽ học tốt môn Toán lớp 1 nhé!