

Nội dung bài viết

1. [Giải Bài 1 trang 49 VBT Toán lớp 1 tập 2](#)
2. [Giải Bài 2 trang 49 VBT Toán lớp 1 tập 2](#)
3. [Giải Bài 3 trang 49 VBT Toán lớp 1 tập 2](#)
4. [Giải Bài 4 trang 49 VBT Toán lớp 1 tập 2](#)

Mời các em học sinh và quý thầy cô tham khảo ngay hướng dẫn giải **Vở bài tập Toán lớp 1 trang 49 Bài 109 tập 2: Phép cộng trong phạm vi 100 (cộng không nhớ)** (chính xác nhất) được đội ngũ chuyên gia biên soạn ngắn gọn và đầy đủ, có đáp án chi tiết cho từng bài tập giúp các em học sinh ôn tập những dạng bài để học tốt được môn Toán lớp 1. Mời các em cùng tham khảo chi tiết dưới đây.

***Giải Bài 1 trang 49 VBT Toán lớp 1 tập 2***

**Tính:**

$\begin{array}{r} 25 \\ + 63 \\ \hline \end{array}$	$\begin{array}{r} 28 \\ + 41 \\ \hline \end{array}$	$\begin{array}{r} 34 \\ + 51 \\ \hline \end{array}$
...	...	...
$\begin{array}{r} 67 \\ + 20 \\ \hline \end{array}$	$\begin{array}{r} 3 \\ + 5 \\ \hline \end{array}$	$\begin{array}{r} 8 \\ + 10 \\ \hline \end{array}$
...	...	...

**Lời giải chi tiết:**

$$\begin{array}{r} 25 \\ + 63 \\ \hline 88 \end{array} \quad \begin{array}{r} 28 \\ + 41 \\ \hline 69 \end{array} \quad \begin{array}{r} 34 \\ + 51 \\ \hline 85 \end{array}$$

$$\begin{array}{r} 67 \\ + 20 \\ \hline 87 \end{array} \quad \begin{array}{r} 3 \\ + 5 \\ \hline 8 \end{array} \quad \begin{array}{r} 8 \\ + 10 \\ \hline 18 \end{array}$$

**Giải Bài 2 trang 49 VBT Toán lớp 1 tập 2**

Đặt tính rồi tính (theo mẫu):

$61 + 32$	$15 + 44$	$30 + 28$
$\begin{array}{r} 61 \\ + 32 \\ \hline 93 \end{array}$	$\begin{array}{r} ..... \\ ..... \\ \hline ..... \end{array}$	$\begin{array}{r} ..... \\ ..... \\ \hline ..... \end{array}$
$52 + 40$	$7 + 31$	
$\begin{array}{r} ..... \\ ..... \\ \hline ..... \end{array}$	$\begin{array}{r} ..... \\ ..... \\ \hline ..... \end{array}$	

**Lời giải chi tiết:**


$$\begin{array}{r} 15 \\ + 44 \\ \hline 59 \end{array} \quad \begin{array}{r} 30 \\ + 28 \\ \hline 58 \end{array}$$

$$\begin{array}{r} 52 \\ + 40 \\ \hline 92 \end{array} \quad \begin{array}{r} 7 \\ + 31 \\ \hline 38 \end{array}$$

**Giải Bài 3 trang 49 VBT Toán lớp 1 tập 2**

Bác Nam trồng được 38 cây cam và 20 cây bưởi. Hỏi bác Nam trồng được tất cả bao nhiêu cây?

**Bài giải:**



**Lời giải chi tiết:**

Tóm tắt

Bác Nam trồng : 38 cây cam

Bác Nam trồng : 20 cây bưởi

Bác Nam trồng : ... cây?

*Bài giải*

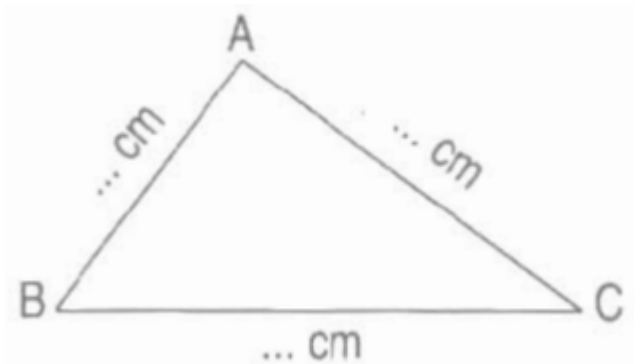
Bác Nam trồng được số cây là:

$$38 + 20 = 58 \text{ (cây)}$$

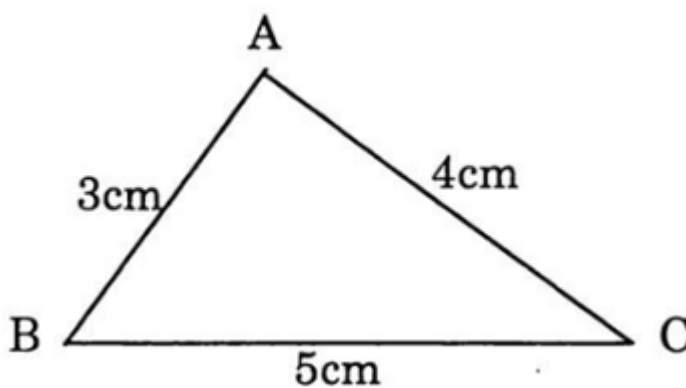
Đáp số: 58 cây.

**Giải Bài 4 trang 49 VBT Toán lớp 1 tập 2**

Đo độ dài các đoạn thẳng rồi viết số thích hợp vào chỗ chấm:



Lời giải chi tiết:



►► **CLICK NGAY** vào nút **TẢI VỀ** dưới đây để tải về **Giải VBT Toán 1 tập 2 trang 49 Bài 109: Phép cộng trong phạm vi 100 (cộng không nhớ)** (đầy đủ nhất) file PDF hoàn toàn miễn phí. Hy vọng với bộ tài liệu này thì các em học sinh sẽ học tốt môn Toán lớp 1 nhé!