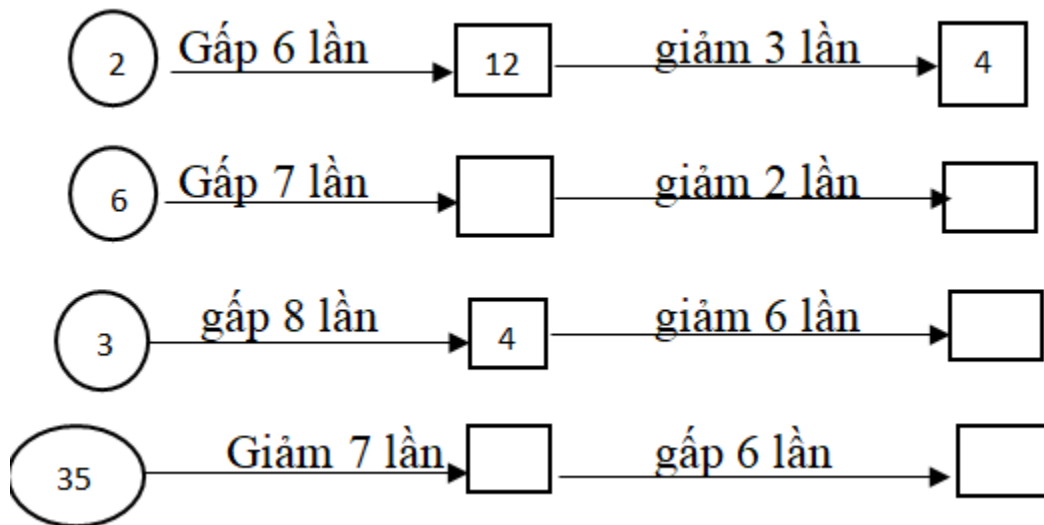


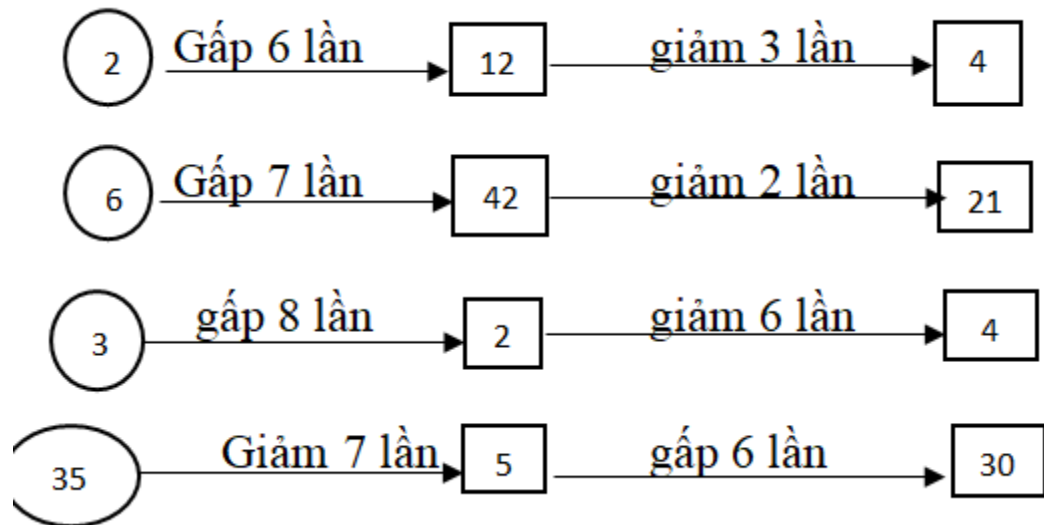
Giải bài 37 trang 46 VBT Toán lớp 3 tập 1

Bài 1 trang 46 vở bài tập Toán lớp 3 Tập 1:

Viết số thích hợp vào ô trống (theo mẫu):



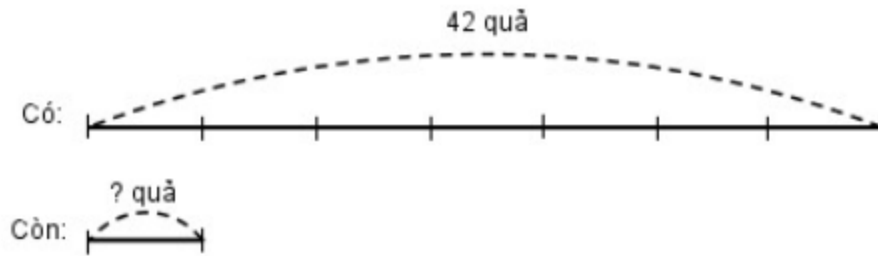
Lời giải:



Bài 2 trang 46 vở bài tập Toán lớp 3 Tập 1:

Bác Liên có 42 quả gấc, sau khi bán số quả gấc đã giảm đi 7 lần. Hỏi bác Liên còn lại bao nhiêu quả gấc?

Tóm tắt



Lời giải:


Số quả gấc bác Liên còn lại là:

$$42 : 7 = 6 \text{ (quả)}$$

Đáp số: 6 quả

Bài 3 trang 46 Vở bài tập Toán lớp 3 Tập 1:

Điền số thích hợp vào chỗ chấm rồi giải bài toán:



Trong hình vẽ bên có quả cam.

- a) $\frac{1}{5}$ số cam đó có bao nhiêu quả ?

b) $\frac{1}{7}$ số cam đó có bao nhiêu quả ?

Lời giải:

Trong hình vẽ bên có 35 quả cam.

a) $\frac{1}{5}$ số quả cam là:

$$35 : 5 = 7 \text{ (quả)}$$

Đáp số: 7 quả

b) $\frac{1}{7}$ số quả cam là:

$$35 : 7 = 5 \text{ (quả)}$$

Đáp số: 5 quả

Bài 4 trang 46 Vở bài tập Toán lớp 3 Tập 1:

a) Đo rồi viết số đo độ dài đoạn thẳng MN



b) Chấm một điểm O trên đoạn thẳng MN sao cho độ dài đoạn thẳng ON bằng $\frac{1}{4}$ độ dài đoạn thẳng MN.

Lời giải:

a) Dùng thước đo độ dài đoạn thẳng MN được 12cm hay $MN = 12\text{cm}$.

b) Độ dài đoạn thẳng ON là: $12 : 4 = 3 \text{ (cm)}$

