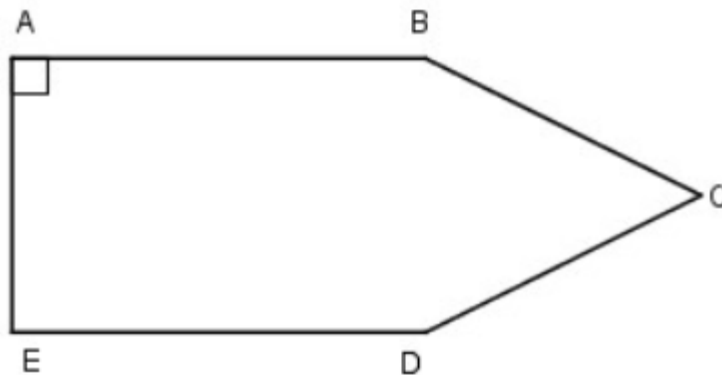


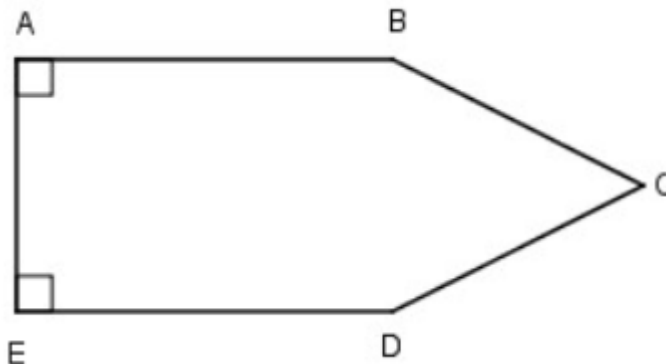
Giải bài 40 trang 49, 50 VBT Toán lớp 3 tập 1

Bài 1 trang 49 Vở bài tập Toán lớp 3 Tập 1:

Dùng ê ke để nhận biết góc vuông của hình bên rồi đánh dấu góc vuông (theo mẫu):



**Lời giải:**



Góc vuông có đỉnh E, cạnh EA và ED.

Góc vuông có đỉnh A, cạnh AE và AB.

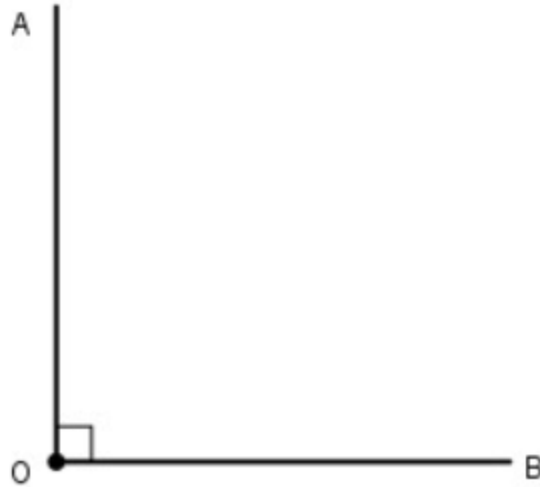
Bài 2 trang 49 Vở bài tập Toán lớp 3 Tập 1:

Dùng ê ke để vẽ góc vuông có:

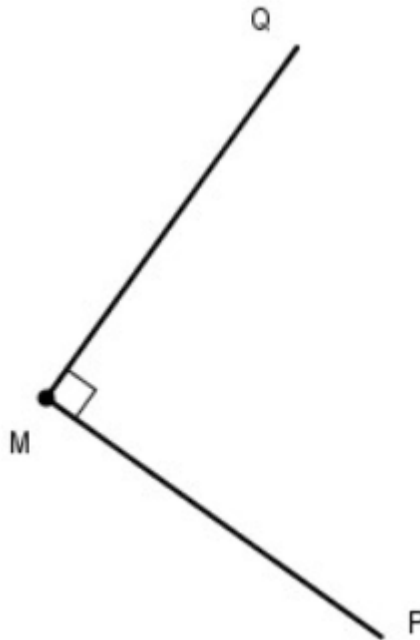
- a) Đỉnh O; cạnh OA , OB
- b) Đỉnh M, cạnh MP ; MQ

**Lời giải:**

a) Đỉnh O; cạnh OA , OB

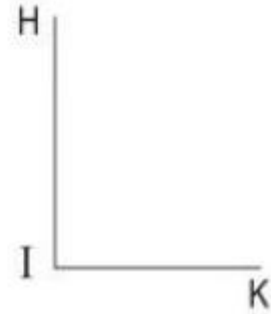
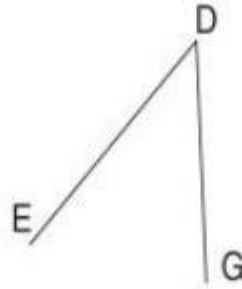
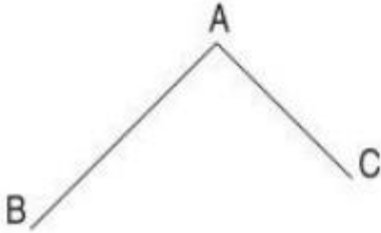
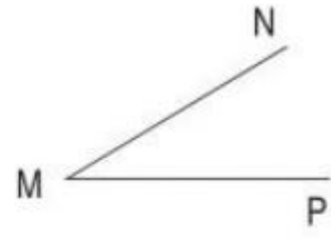
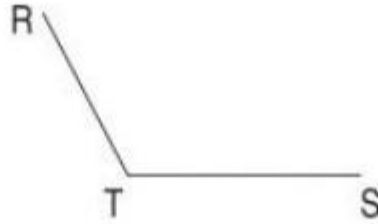
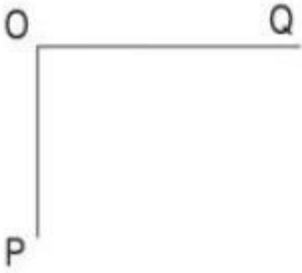


b) Đỉnh M, cạnh MP ; MQ



Bài 3 trang 49 vở bài tập Toán lớp 3 Tập 1:

Viết tiếp vào chỗ chấm theo mẫu:

**Lời giải:**

a) Các góc vuông: Đỉnh O, cạnh OP, OQ.

Đỉnh A, cạnh AB, AC

Đỉnh I, cạnh IH, IK.

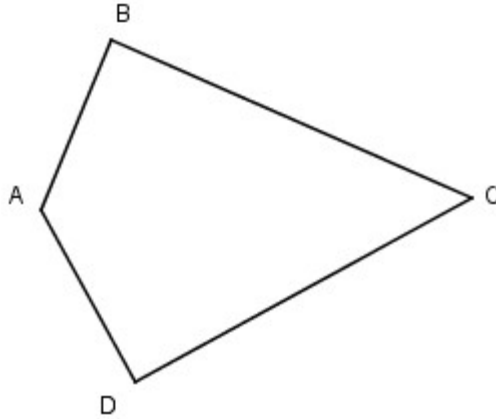
b) Các góc không vuông: Đỉnh là T; cạnh TR, TS.

Đỉnh là M; cạnh MN, MP.

Đỉnh là D; cạnh DE, DG.

Bài 4 trang 50 vở bài tập Toán lớp 3 Tập 1:

Trong hình tứ giác ABCD có:

**Lời giải:**

a) Các góc vuông là:

Đỉnh B; cạnh BA; BC.

Đỉnh D; cạnh DA, DC.

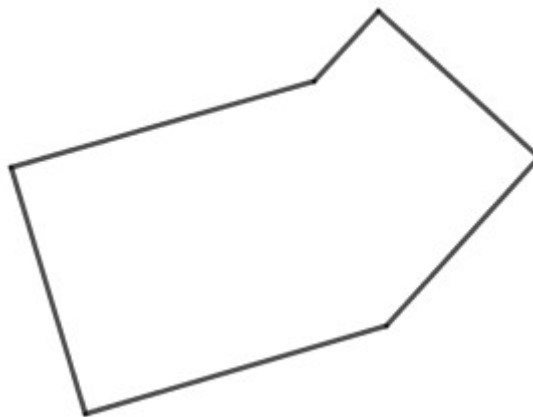
b) Các góc không vuông là:

Đỉnh A; cạnh AB, AD.

Đỉnh C; cạnh CD, CB.

Bài 5 trang 50 vở bài tập Toán lớp 3 Tập 1:

Khoanh vào chữ đặt trước câu trước câu trả lời đúng



Số góc vuông trong hình bên là:

A. 1    B. 2    C. 3    D. 4

**Lời giải:**

Số góc vuông trong hình bên là: 4

Chọn đáp án D