

Giải bài 41 trang 50, 51 VBT Toán lớp 3 tập 1

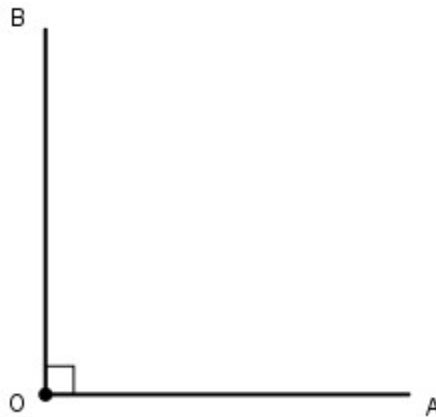
Bài 1 trang 50 Vở bài tập Toán lớp 3 Tập 1:

Dùng ê ke để vẽ góc vuông có:

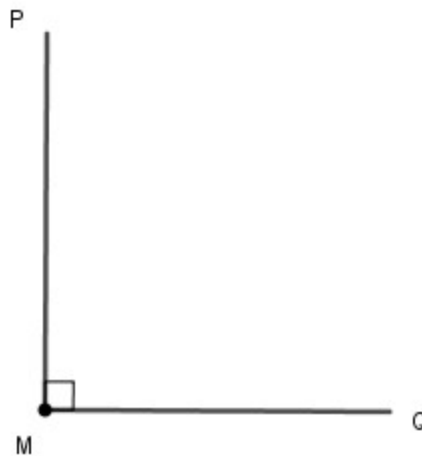
- a) Đỉnh O, cạnh OA, OB
- b) Đỉnh M; cạnh MP, MQ

Lời giải:

- a) Đỉnh O, cạnh OA, OB

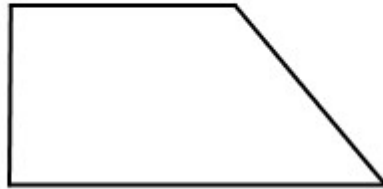
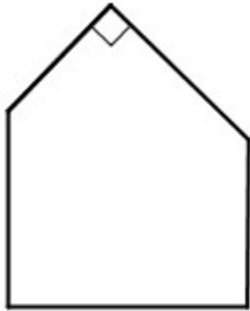


- b) Đỉnh M; cạnh MP, MQ

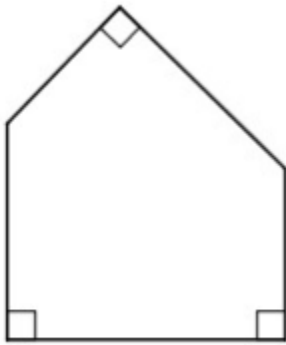


Bài 2 trang 50 Vở bài tập Toán lớp 3 Tập 1:

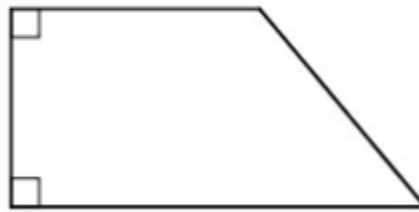
Số? (Dùng ê ke kiểm tra số góc vuông trong mỗi hình)



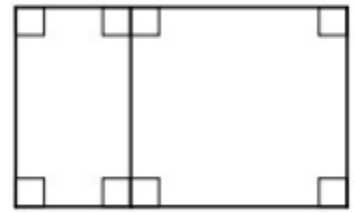
Lời giải:



Có 3 góc vuông



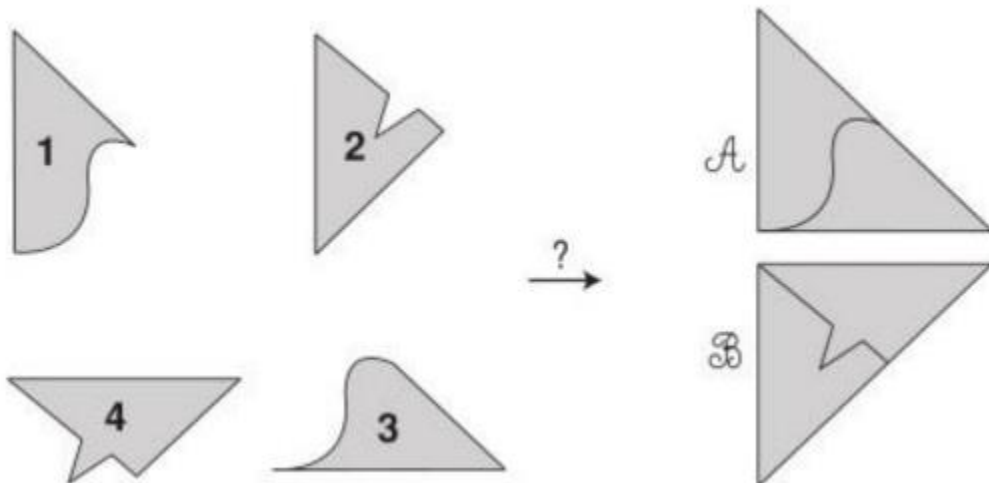
Có 2 góc vuông




Có 8 góc vuông

Bài 3 trang 51 Vở bài tập Toán lớp 3 Tập 1:

Nối hai miếng bìa để ghép thành một góc vuông:



Lời giải:



Bài 4 trang 51 vở bài tập Toán lớp 3 Tập 1:

Thực hành: Gấp tờ giấy theo hình sau để được góc vuông

