

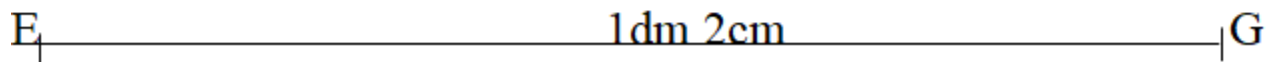
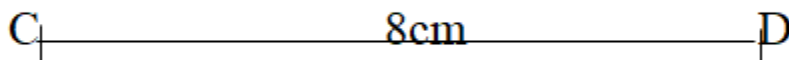
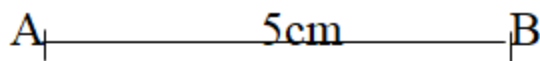
Giải bài 45 trang 54 VBT Toán lớp 3 tập 1

Bài 1 trang 54 vở bài tập Toán lớp 3 Tập 1:

Hãy vẽ các đoạn thẳng có độ dài ở bảng sau:


Đoạn thẳng	Độ dài
AB	5cm
CD	8cm
EG	1dm 2cm

Lời giải:



Bài 2 trang 54 vở bài tập Toán lớp 3 Tập 1:

Đo độ dài đoạn thẳng rồi viết số thích hợp vào chỗ chấm:



Độ dài đoạn thẳng AB làcm hay làmm.




Độ dài đoạn thẳng CD làcmmm hay làmm.




Độ dài đoạn thẳng EG là 2cmmm hay làmm.


Lời giải:



Độ dài đoạn thẳng AB là 2cm hay là 20mm.



Độ dài đoạn thẳng CD là 2cm 5mm hay là 25mm.



Độ dài đoạn thẳng EG là 2cm 8mm hay là 28mm.

Bài 3 trang 54 vở bài tập Toán lớp 3 Tập 1:

Ước lượng chiều dài của các đồ vật, đo độ dài của chúng rồi điền vào bảng sau:

Đồ vật	Ước lượng độ dài	Độ dài đo được
Bút chì của em		
Chiều dài mép bàn học		
Chiều cao chân bàn học		

Lời giải:

(Học sinh có thể tham khảo bảng dưới đây)

Đồ vật	Ước lượng độ dài	Độ dài đo được
Bút chì của em	15cm	19cm
Chiều dài mép bàn học	20dm	20dm
Chiều cao chân bàn học	60cm	65cm