

Giải bài 51 trang 61 VBT Toán lớp 3 tập 1

Bài 1 trang 61 Vở bài tập Toán lớp 3 Tập 1:

Tính.....

$$8 \times 1 = \dots \quad 8 \times 3 = \dots \quad 8 \times 5 = \dots \quad 8 \times 7 = \dots \quad 8 \times 9 = \dots$$

$$8 \times 2 = \dots \quad 8 \times 4 = \dots \quad 8 \times 6 = \dots \quad 8 \times 8 = \dots \quad 8 \times 10 = \dots$$

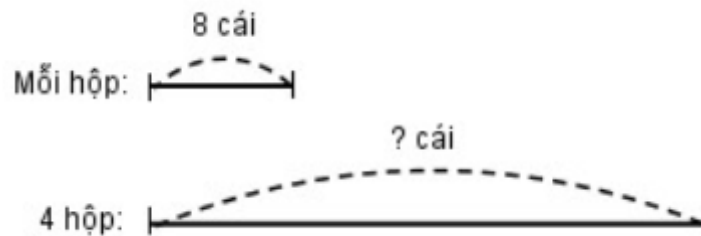
Lời giải:

$$8 \times 1 = 8 \quad 8 \times 3 = 24 \quad 8 \times 5 = 40 \quad 8 \times 7 = 56 \quad 8 \times 9 = 72$$

$$8 \times 2 = 16 \quad 8 \times 4 = 32 \quad 8 \times 6 = 48 \quad 8 \times 8 = 64 \quad 8 \times 10 = 80$$

Bài 2 trang 61 Vở bài tập Toán lớp 3 Tập 1:

Mỗi hộp có 8 cái bánh. Hỏi 7 hộp như thế có bao nhiêu cái bánh?



Lời giải:

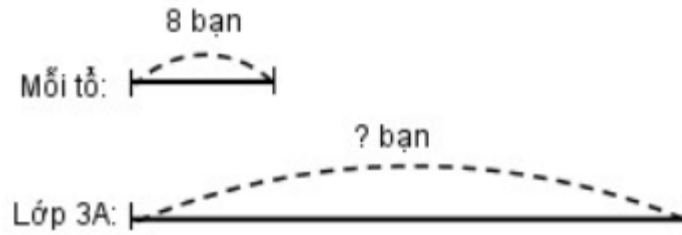
Số bánh có trong 7 hộp là:

$$8 \times 7 = 56 \text{ (cái)}$$

Đáp số: 56 cái

Bài 3 trang 61 Vở bài tập Toán lớp 3 Tập 1:

Lớp 3A có 3 tổ, mỗi tổ có 8 bạn. Hỏi lớp 3A có bao nhiêu bạn?

**Lời giải:**

Lớp 3A có số bạn là:

$$8 \times 3 = 24 \text{ (bạn)}$$

Đáp số: 24 bạn

Bài 4 trang 61 vở bài tập Toán lớp 3 Tập 1:

Tính nhẩm

$$8 + 8 = \dots \quad 32 + 8 = \dots \quad 56 + 8 = \dots$$

$$16 + 8 = \dots \quad 40 + 8 = \dots \quad 64 + 8 = \dots$$

$$24 + 8 = \dots \quad 48 + 8 = \dots \quad 72 + 8 = \dots$$

Lời giải:


$$8 + 8 = 16 \quad 32 + 8 = 40 \quad 56 + 8 = 64$$

$$16 + 8 = 24 \quad 40 + 8 = 48 \quad 64 + 8 = 72$$

$$24 + 8 = 32 \quad 48 + 8 = 56 \quad 72 + 8 = 80$$

Bài 5 trang 61 vở bài tập Toán lớp 3 Tập 1:

Cho 6 hình tam giác, mỗi hình như hình bên:



Hãy xếp thành hình:

Lời giải:

