


Giải bài 55 trang 65 VBT Toán lớp 3 tập 1

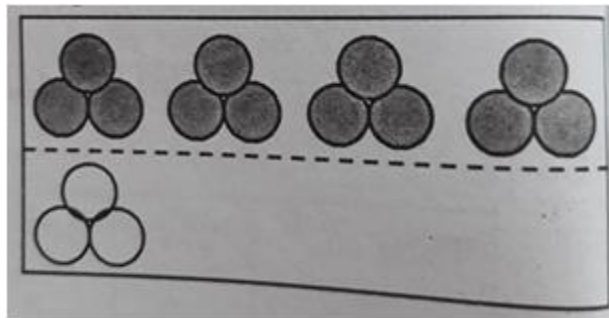
Bài 1 trang 65 Vở bài tập Toán lớp 3 Tập 1:

Viết tiếp vào chỗ chấm cho thích hợp:

a) Số hình tròn ở hàng trên gấp ..... lần số hình tròn ở hàng dưới



b) Số hình tròn ở hàng trên gấp ..... lần số hình tròn ở hàng dưới



**Lời giải:**

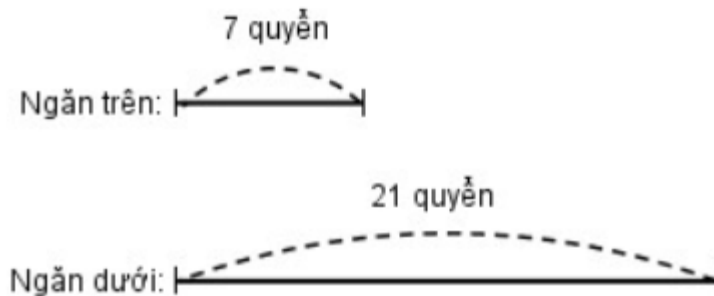
a) Số hình tròn ở hàng trên gấp 3 lần số hình tròn ở hàng dưới

b) Số hình tròn ở hàng trên gấp 4 lần số hình tròn ở hàng dưới

Bài 2 trang 65 Vở bài tập Toán lớp 3 Tập 1:

Ngăn trên có 7 quyển sách, ngăn dưới có 21 quyển sách. Hỏi ngăn dưới có số sách gấp mấy lần ngăn trên?

*Tóm tắt*

**Lời giải:**

Số sách ngăn dưới gấp số sách ngăn trên số lần là:

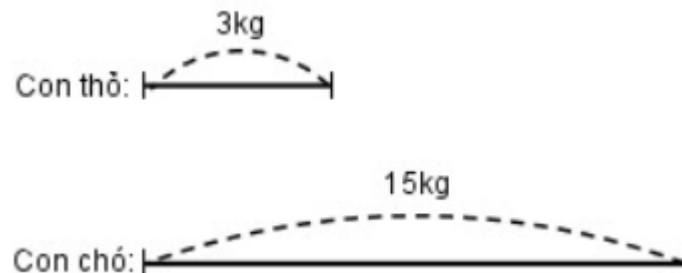
$$21 : 7 = 3 \text{ (lần)}$$

Đáp số: 3 lần

**Bài 3 trang 65 vở bài tập Toán lớp 3 Tập 1:**

Một con chó cân nặng 15kg, một con thỏ nặng 3kg. Hỏi con chó cân nặng gấp mấy lần con thỏ?

*Tóm tắt*

**Lời giải:**

Con chó cân nặng gấp con thỏ số lần là:

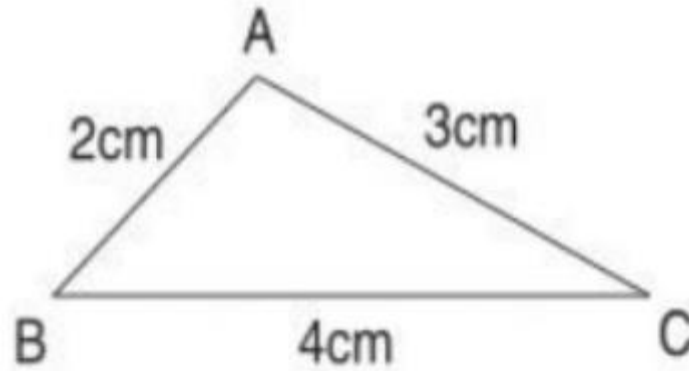
$$15 : 3 = 5 \text{ (lần)}$$

Đáp số: 5 lần.

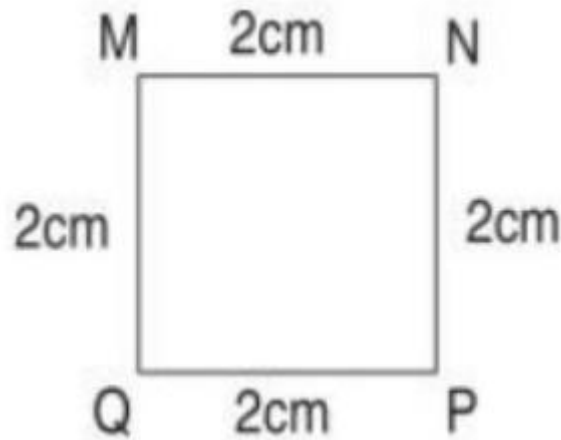
**Bài 4 trang 65 vở bài tập Toán lớp 3 Tập 1:**

Tính

a) Chu vi tam giác ABC:



b) Chu vi hình vuông MNPQ:



**Lời giải:**

a) Chu vi tam giác ABC:

$$AC + CB + BA = 3 + 4 + 2 = 9 \text{ (cm)}$$

Đáp số: 9cm

b) Chu vi hình vuông MNPQ:

$$MN + NP + PQ + QM = 2 + 2 + 2 + 2 = 8 \text{ (cm)}$$

Đáp số: 8cm