

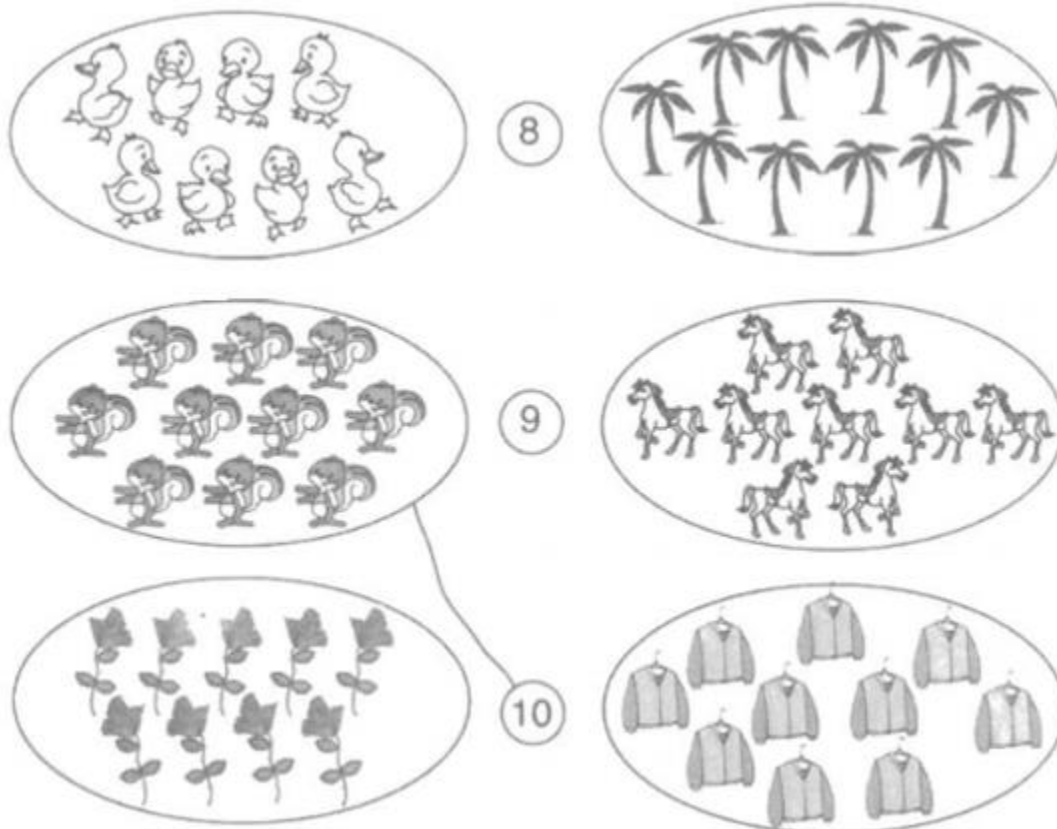
Nội dung bài viết

1. [Giải Bài 1 trang 24 VBT Toán lớp 1 tập 1](#)
2. [Giải Bài 2 trang 24 VBT Toán lớp 1 tập 1](#)
3. [Giải Bài 3 trang 25 VBT Toán lớp 1 tập 1](#)
4. [Giải Bài 4 trang 25 VBT Toán lớp 1 tập 1](#)
5. [Giải Bài 5 trang 25 VBT Toán lớp 1 tập 1](#)

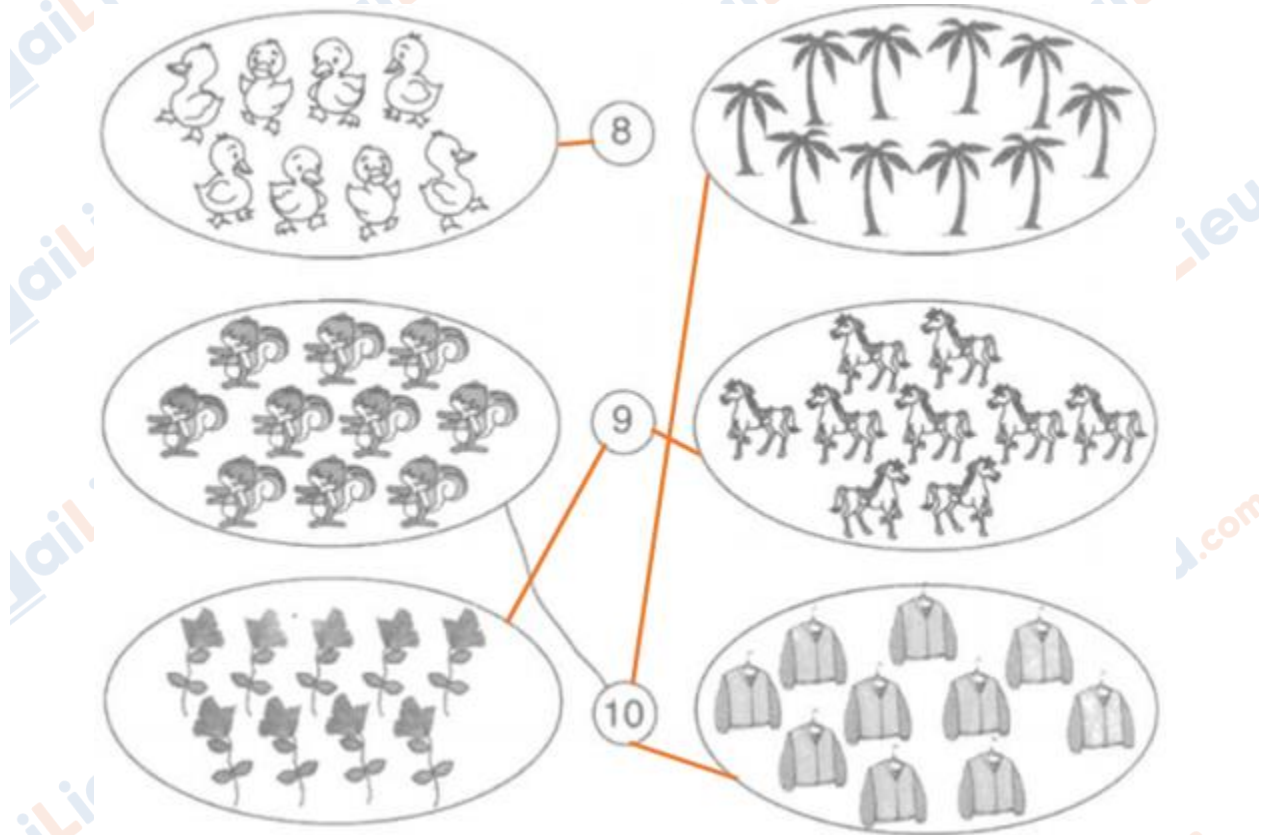
Mời các em học sinh và quý thầy cô tham khảo ngay hướng dẫn giải **Vở bài tập Toán lớp 1 Bài 22 tập 1: Luyện tập, trang 24 - 25** (chính xác nhất) được đội ngũ chuyên gia biên soạn ngắn gọn và đầy đủ, có đáp án chi tiết cho từng bài tập giúp các em học sinh ôn tập những dạng bài để học tốt được môn Toán lớp 1. Mời các em cùng tham khảo chi tiết dưới đây.

Giải Bài 1 trang 24 VBT Toán lớp 1 tập 1

Nói (theo mẫu):



Lời giải chi tiết:

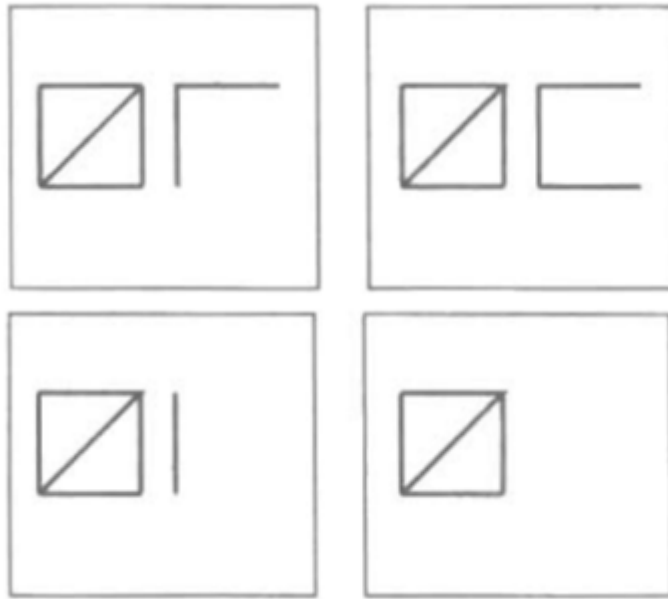


Giải Bài 2 trang 24 VBT Toán lớp 1 tập 1

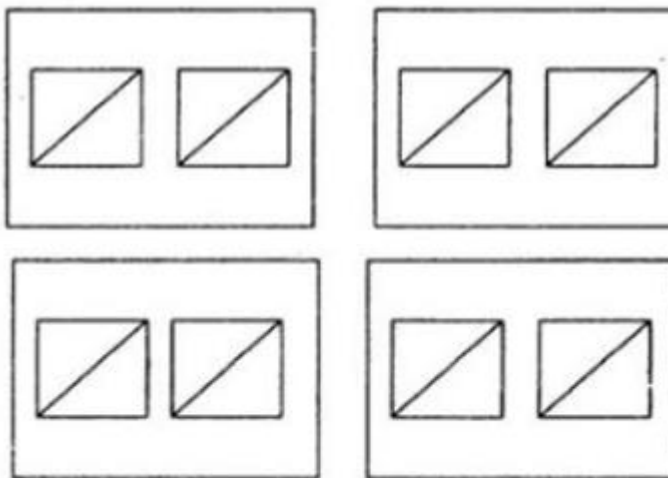
Vẽ thêm cho đủ 10 (theo mẫu):

Mẫu:





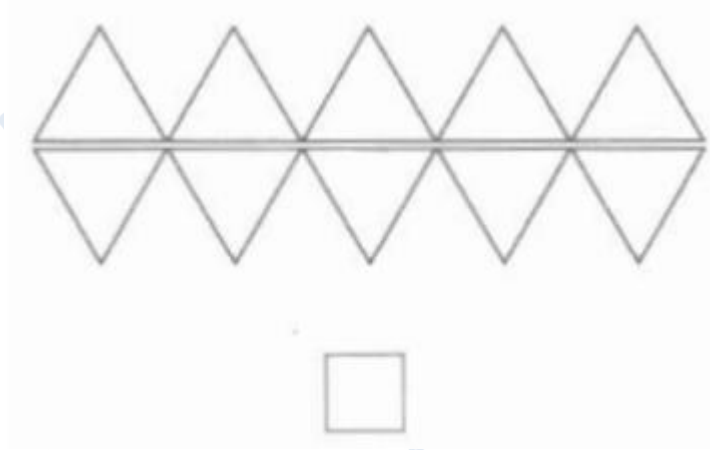
Lời giải chi tiết:



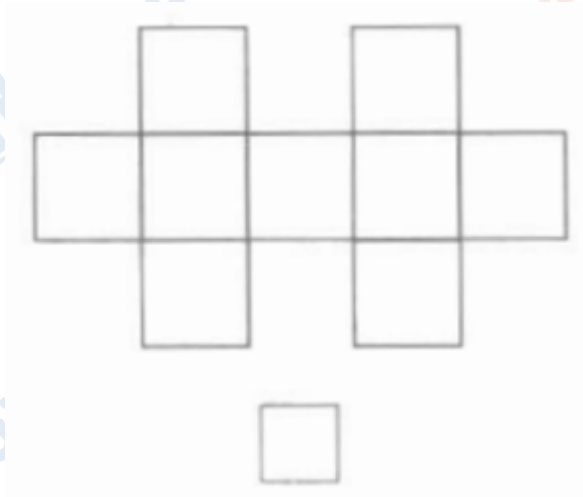
Giải Bài 3 trang 25 VBT Toán lớp 1 tập 1

Điền số thích hợp vào ô trống:

a) Có mấy hình tam giác?

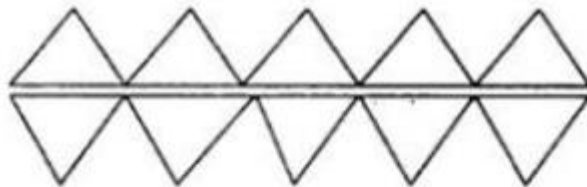


b) Có mấy hình vuông?



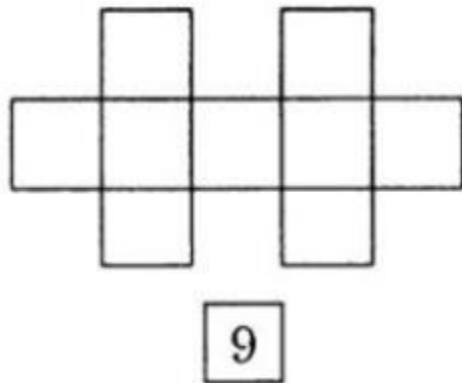
Lời giải chi tiết:

a) Có 10 hình tam giác



10

b) Có 9 hình vuông



Giải Bài 4 trang 25 VBT Toán lớp 1 tập 1

a) $>$, $<$, $=$?

$0 \dots 9$ $8 \dots 5$ $6 \dots 9$ $10 \dots 9$

$0 \dots 8$ $5 \dots 0$ $9 \dots 6$ $9 \dots 10$

$0 \dots 7$ $8 \dots 0$ $9 \dots 9$ $10 \dots 10$

b) Trong các số từ 0 đến 10:

Số bé nhất là:...

Số lớn nhất là:.....

Lời giải chi tiết:

a)

$0 < 9$ $8 > 5$ $6 < 9$ $10 > 9$

$0 < 8$ $5 > 0$ $9 > 6$ $9 < 10$

$0 < 7$ $8 > 0$ $9 = 9$ $10 = 10$

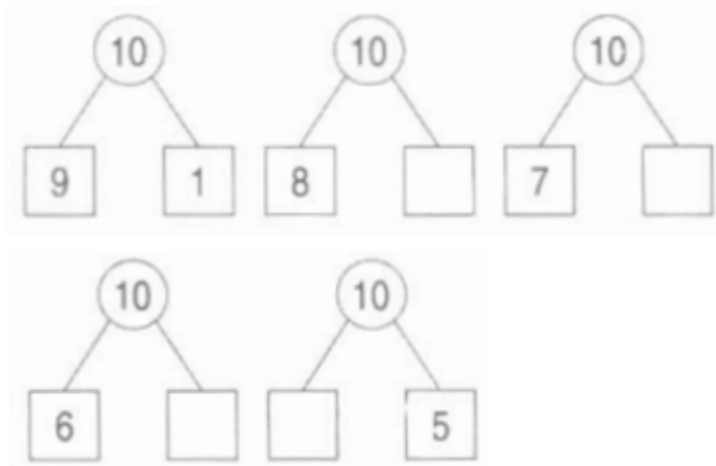
b) Trong các số từ 0 đến 10:

Số bé nhất là : 0

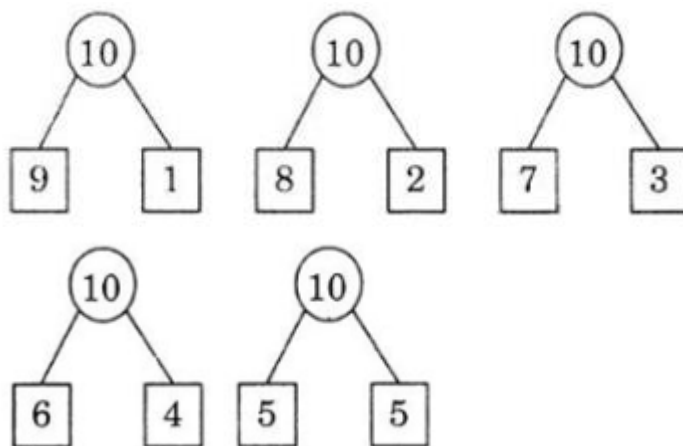
Số lớn nhất là : 10

Giải Bài 5 trang 25 VBT Toán lớp 1 tập 1

Số ?



Lời giải chi tiết :



►►CLICK NGAY vào nút **TẢI VỀ** dưới đây để tải về **Giải VBT Toán 1 tập 1 Bài 22: Luyện tập, trang 24 - 25** (đầy đủ nhất) file PDF hoàn toàn miễn phí. Hy vọng với bộ tài liệu này thì các em học sinh sẽ học tốt môn Toán lớp 1 nhé!