

Nội dung bài viết

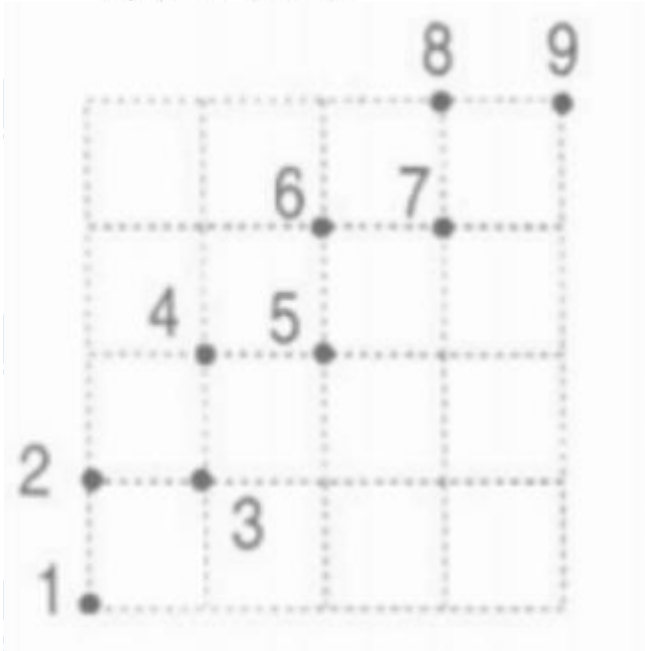
1. [Giải Bài 1 trang 70 VBT Toán lớp 1 tập 1](#)
2. [Giải Bài 2 trang 70 VBT Toán lớp 1 tập 1](#)
3. [Giải Bài 3 trang 70 VBT Toán lớp 1 tập 1](#)
4. [Giải Bài 4 trang 70 VBT Toán lớp 1 tập 1](#)
5. [Giải Bài 5 trang 70 VBT Toán lớp 1 tập 1](#)

Mời các em học sinh và quý thầy cô tham khảo ngay hướng dẫn giải **Vở bài tập Toán lớp 1 Bài 64 tập 1: Luyện tập chung, trang 70** (chính xác nhất) được đội ngũ chuyên gia biên soạn ngắn gọn và đầy đủ, có đáp án chi tiết cho từng bài tập giúp các em học sinh ôn tập những dạng bài để học tốt được môn Toán lớp 1. Mời các em cùng tham khảo chi tiết dưới đây.

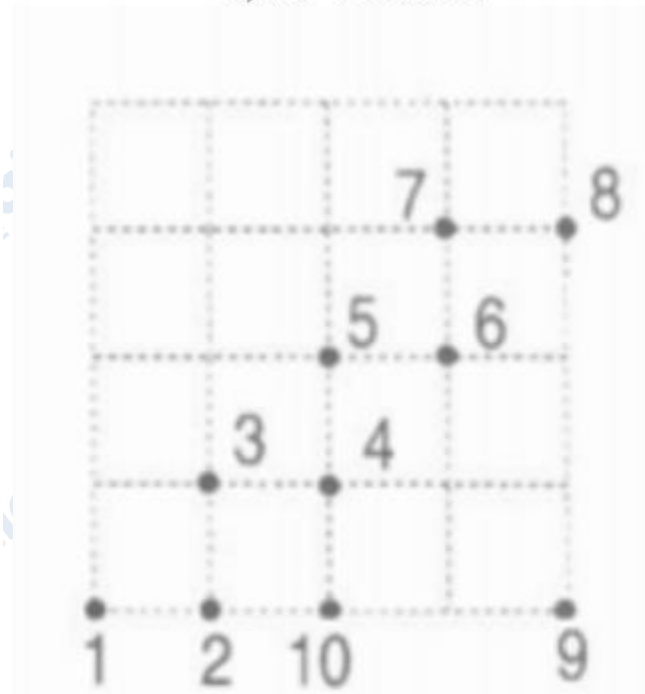
Giải Bài 1 trang 70 VBT Toán lớp 1 tập 1

Nói các chấm theo thứ tự:

a) Từ 1 đến 9:

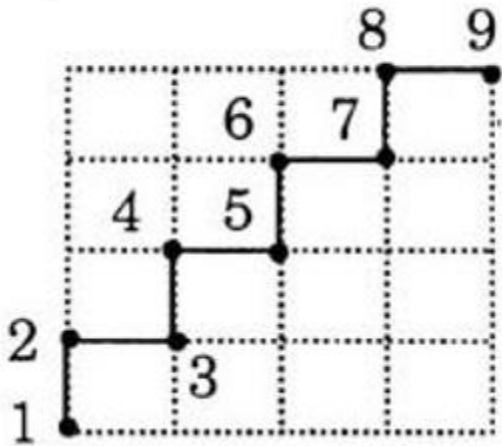


b) Từ 1 đến 10:

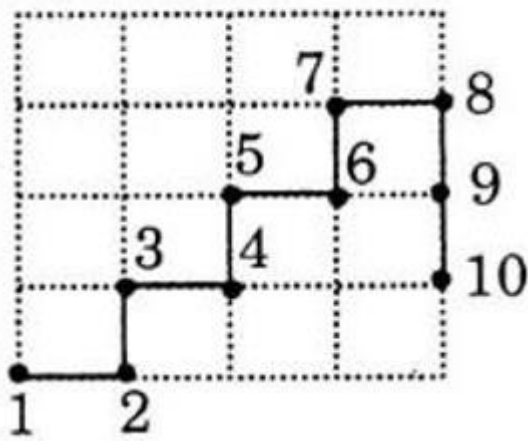


Lời giải chi tiết:

a)



b)



Giải Bài 2 trang 70 VBT Toán lớp 1 tập 1

Tính:

a)

$$\begin{array}{r} + 8 \\ - 2 \\ \hline \dots \end{array} \quad \begin{array}{r} - 9 \\ - 7 \\ \hline \dots \end{array} \quad \begin{array}{r} - 10 \\ - 2 \\ \hline \dots \end{array} \quad \begin{array}{r} + 3 \\ + 6 \\ \hline \dots \end{array}$$

$$\begin{array}{r} - 7 \\ - 5 \\ \hline \dots \end{array} \quad \begin{array}{r} + 4 \\ + 6 \\ \hline \dots \end{array} \quad \begin{array}{r} + 5 \\ + 3 \\ \hline \dots \end{array}$$

b)

$$3 + 4 - 5 = \dots \quad 8 - 6 + 3 = \dots \quad 10 - 3 - 2 = \dots$$

$$5 + 1 + 2 = \dots \quad 4 + 4 - 6 = \dots \quad 5 + 5 - 7 = \dots$$

$$6 - 4 + 8 = \dots \quad 9 - 6 + 5 = \dots \quad 4 + 3 - 3 = \dots$$

Lời giải chi tiết:

a)

$$\begin{array}{r} + 8 \\ + 2 \\ \hline 10 \end{array} \quad \begin{array}{r} - 9 \\ - 7 \\ \hline 2 \end{array} \quad \begin{array}{r} - 10 \\ - 2 \\ \hline 8 \end{array} \quad \begin{array}{r} + 3 \\ + 6 \\ \hline 9 \end{array}$$

$$\begin{array}{r} - 7 \\ - 5 \\ \hline 2 \end{array} \quad \begin{array}{r} + 4 \\ + 6 \\ \hline 10 \end{array} \quad \begin{array}{r} + 5 \\ + 3 \\ \hline 8 \end{array}$$

b)

$$3 + 4 - 5 = 2 \quad 8 - 6 + 3 = 5 \quad 10 - 3 - 2 = 5$$

$$5 + 1 + 2 = 8 \quad 4 + 4 - 6 = 2 \quad 5 + 5 - 7 = 3$$

$$6 - 4 + 8 = 10 \quad 9 - 6 + 5 = 8 \quad 4 + 3 - 3 = 4$$

Giải Bài 3 trang 70 VBT Toán lớp 1 tập 1

>, <, = ?

$$0 \dots 5 \quad 4 + 2 \dots 2 + 4 \quad 8 - 5 \dots 9 - 5$$

$$9 \dots 6 \quad 8 - 6 \dots 3 + 3 \quad 9 - 3 \dots 10 - 4$$

Lời giải chi tiết:

$$0 < 5 \quad 4 + 2 = 2 + 4 \quad 8 - 5 < 9 - 5$$

$$9 > 6 \quad 8 - 6 < 3 + 3 \quad 9 - 3 = 10 - 4$$

Giải Bài 4 trang 70 VBT Toán lớp 1 tập 1

Viết phép tính thích hợp:

a)

Có: 8 con chim

Bay đi: 3 con chim

Còn lại: ... con chim?

--	--	--	--	--

b)

Có: 6 con vịt

Mua thêm: 2 con vịt

Có tất cả: ... con vịt?

--	--	--	--	--

Lời giải chi tiết:

a)

Còn lại: 5 con chim

8	-	3	=	5
---	---	---	---	---


b)

Có tất cả: 8 con vịt

6	+	2	=	8
---	---	---	---	---


Giải Bài 5 trang 70 VBT Toán lớp 1 tập 1

Vẽ hình thích hợp vào ô trống:



Lời giải chi tiết:

Nhìn vào hình vẽ ta có thể thấy các hình được sắp xếp theo quy luật cứ hai hình tròn màu đen, kế tiếp là một hình tròn màu trắng và tương tự.



►► **CLICK NGAY** vào nút **TẢI VỀ** dưới đây để tải về **Giải VBT Toán 1 tập 1 Bài 64: Luyện tập chung, trang 70** (đầy đủ nhất) file PDF hoàn toàn miễn phí. Hy vọng với bộ tài liệu này thì các em học sinh sẽ học tốt môn Toán lớp 1 nhé!