

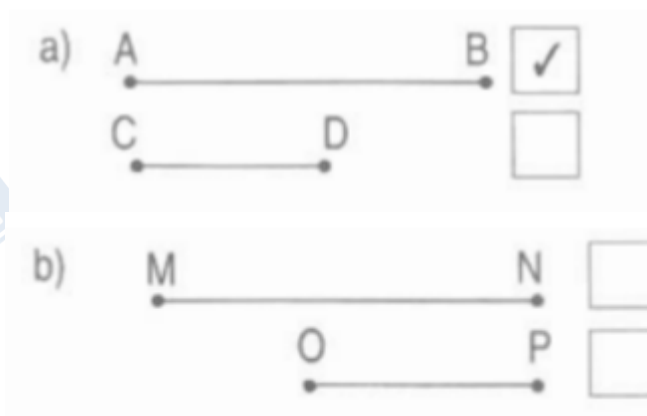
Nội dung bài viết

1. [Giải Bài 1 trang 74 VBT Toán lớp 1 tập 1](#)
2. [Giải Bài 2 trang 74 VBT Toán lớp 1 tập 1](#)
3. [Giải Bài 3 trang 74 VBT Toán lớp 1 tập 1](#)

Mời các em học sinh và quý thầy cô tham khảo ngay hướng dẫn giải **Vở bài tập Toán lớp 1 Bài 67 tập 1: Độ dài đoạn thẳng**, trang 74 (chính xác nhất) được đội ngũ chuyên gia biên soạn ngắn gọn và đầy đủ, có đáp án chi tiết cho từng bài tập giúp các em học sinh ôn tập những dạng bài để học tốt được môn Toán lớp 1. Mời các em cùng tham khảo chi tiết dưới đây.

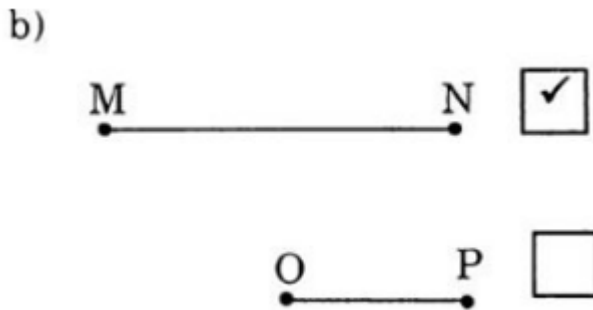
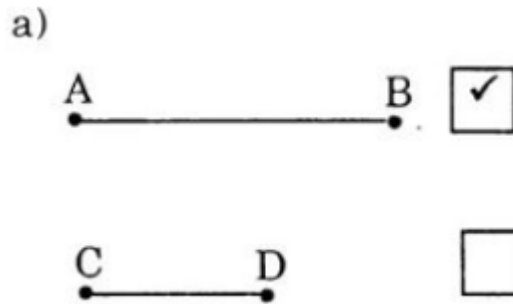
Giải Bài 1 trang 74 VBT Toán lớp 1 tập 1

Ghi dấu vào ô trống cạnh đoạn thẳng dài hơn (theo mẫu):

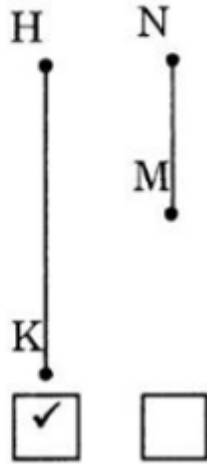




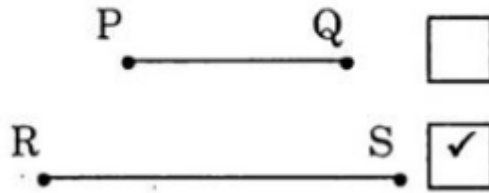
Lời giải chi tiết:



c)




d)

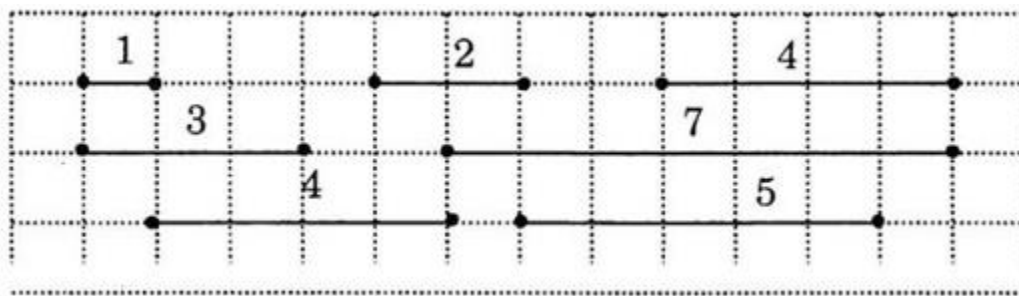


Giải Bài 2 trang 74 VBT Toán lớp 1 tập 1

Ghi số thích hợp vào mỗi đoạn thẳng (theo mẫu):

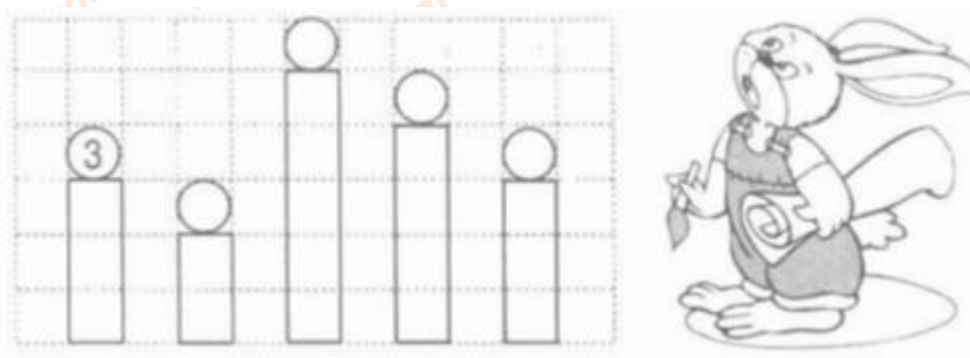


Lời giải chi tiết:



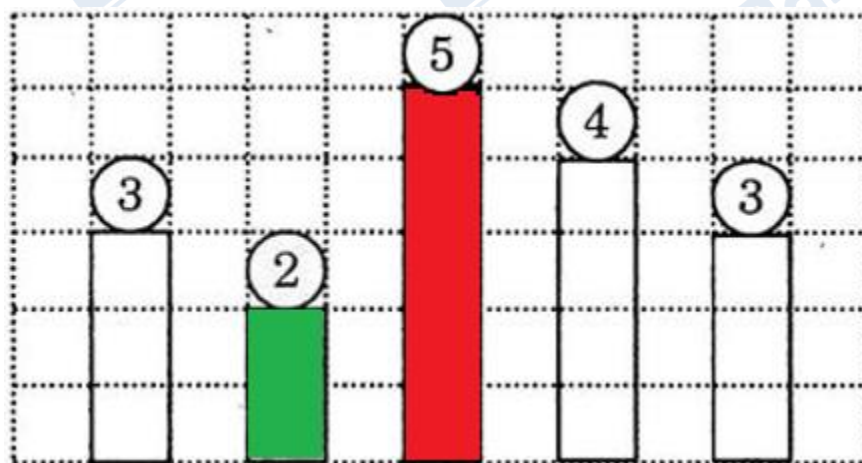
Giải Bài 3 trang 74 VBT Toán lớp 1 tập 1

a) Tô màu đỏ vào cột cao nhất, tô màu xanh vào cột thấp nhất:



b) Ghi số thích hợp vào mỗi cột (theo mẫu).

Lời giải chi tiết:



►► **CLICK NGAY** vào nút **TẢI VỀ** dưới đây để tải về **Giải VBT Toán 1 tập 1 Bài 67: Độ dài đoạn thẳng, trang 74** (đầy đủ nhất) file PDF hoàn toàn miễn phí. Hy vọng với bộ tài liệu này thì các em học sinh sẽ học tốt môn Toán lớp 1 nhé!

