

*Giải bài bài 23 trang 30 VBT Toán lớp 3 tập 1*

Bài 1 trang 30 Vở bài tập Toán lớp 3 Tập 1:

Tính nhẩm

$48 : 6 = \dots$      $42 : 6 = \dots$      $6 : 6 = \dots$      $18 : 6 = \dots$

$24 : 6 = \dots$      $36 : 6 = \dots$      $30 : 6 = \dots$      $18 : 3 = \dots$

$12 : 6 = \dots$      $54 : 6 = \dots$      $60 : 6 = \dots$      $18 : 2 = \dots$

**Lời giải:**

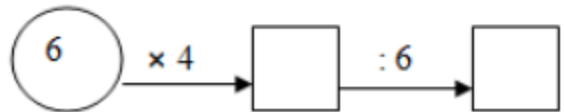
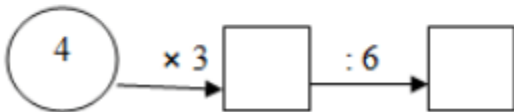
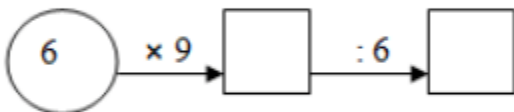
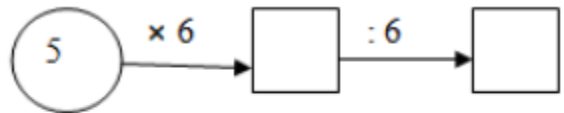
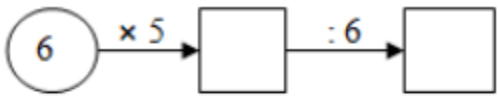
$48 : 6 = 8$      $42 : 6 = 7$      $6 : 6 = 1$      $18 : 6 = 3$

$24 : 6 = 4$      $36 : 6 = 6$      $30 : 6 = 5$      $18 : 3 = 6$

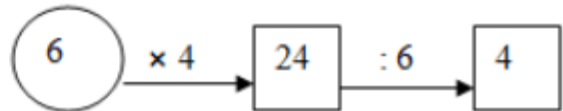
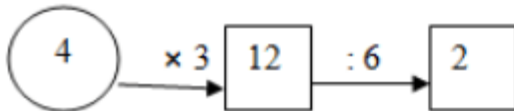
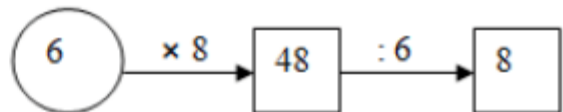
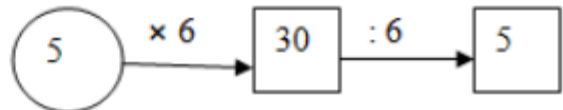
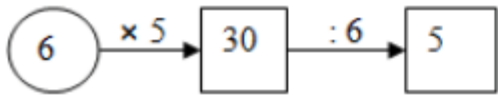
$12 : 6 = 2$      $54 : 6 = 9$      $60 : 6 = 10$      $18 : 2 = 9$

Bài 2 trang 30 Vở bài tập Toán lớp 3 Tập 1:

Viết số thích hợp vào ô trống:



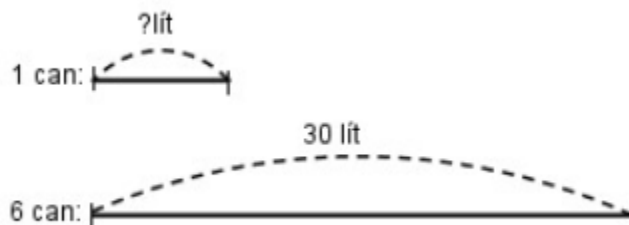
**Lời giải:**



Bài 3 trang 30 Vở bài tập Toán lớp 3 Tập 1:

Có 30l dầu lạc, đựng đều vào 6 can. Hỏi mỗi can có bao nhiêu lít dầu lạc?

Tóm tắt



**Lời giải:**

Số lít dầu lạc có trong mỗi can là:

$$30 : 6 = 5 \text{ (lít)}$$

Đáp số: 5 lít

Bài 4 trang 30 Vở bài tập Toán lớp 3 Tập 1:

Tô màu  $\frac{1}{6}$  mỗi hình sau :

**Lời giải:**

