

Giải bài bài 25 trang 32 VBT Toán lớp 3 tập 1

Bài 1 trang 32 Vở bài tập Toán lớp 3 Tập 1:

Viết tiếp vào chỗ chấm (theo mẫu):

a) $\frac{1}{5}$ của 25km là:.....

b) $\frac{1}{3}$ của 18l là:

c) $\frac{1}{4}$ của 32kg là:.....

d) $\frac{1}{6}$ của 54m là:

e) $\frac{1}{6}$ của 48 phút là:

f) $\frac{1}{2}$ của 16 giờ là:

Lời giải:

a) $\frac{1}{5}$ của 25km là: $25 : 5 = 5$ (km)

b) $\frac{1}{3}$ của 18l là: $18 : 3 = 6$ (l)

c) $\frac{1}{4}$ của 32kg là: $32 : 4 = 8$ (kg)

d) $\frac{1}{6}$ của 54m là: $54 : 6 = 9$ (m)

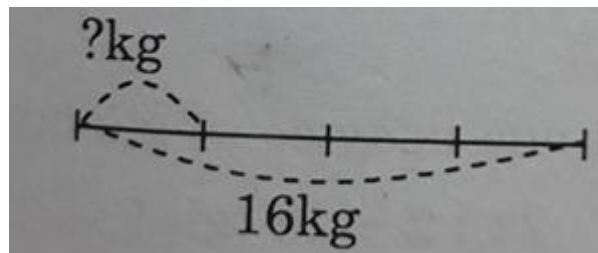
e) $\frac{1}{6}$ của 48 phút là: $48 : 6 = 8$ (phút)

f) $\frac{1}{2}$ của 16 giờ là: $16 : 2 = 8$ (giờ)

Bài 2 trang 32 Vở bài tập Toán lớp 3 Tập 1:

Tóm tắt bài toán bằng sơ đồ đường thẳng rồi giải bài toán:

Tóm tắt



Lời giải:


Số ki-lô-gam nho quây bán được là:

$$16 : 4 = 4 \text{ (kg)}$$

Đáp số: 4kg

Bài 3 trang 33 Vở bài tập Toán lớp 3 Tập 1:

Viết số thích hợp vào chỗ chấm rồi giải bài toán:



Trong hình vẽ trên có con gà.

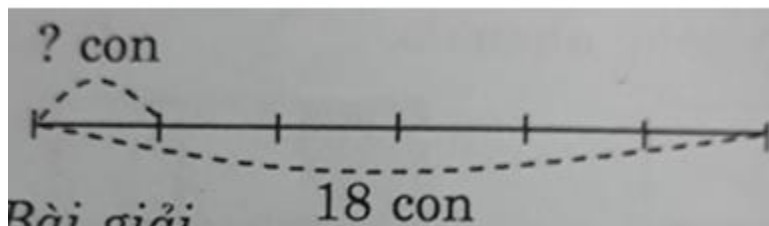
a) Tìm $\frac{1}{6}$ số gà con trong hình trên

b) Tìm $\frac{1}{3}$ số con gà trong hình trên.

Lời giải:

a) Tìm $\frac{1}{6}$ số gà con trong hình trên

Tóm tắt



Bài giải

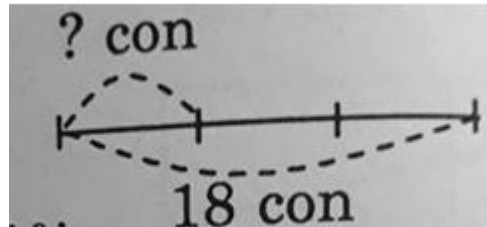
$\frac{1}{6}$ Số con gà là:

$18 : 6 = 3$ (con)

Đáp số: 3 con gà

b) Tìm $\frac{1}{3}$ số con gà trong hình trên.

Tóm tắt



Bài giải

$\frac{1}{3}$ số con gà là:

$$18 : 3 = 6 \text{ (con)}$$

Đáp số: 6 con gà