

Giải bài 10 trang 12 VBT Toán lớp 3 tập

Bài 1 trang 12 Vở bài tập Toán lớp 3 Tập 1:

Tính

a) $4 \times 7 + 222$

=

=

b) $40 : 5 + 405$

=

=

c) $200 \times 2 : 2$

=

=

Lời giải:

a) $4 \times 7 + 222 = 28 + 222$

$$= 250$$

b) $40 : 5 + 405 = 8 + 405$

$$= 413$$

c) $200 \times 2 : 2 = 400 : 2$

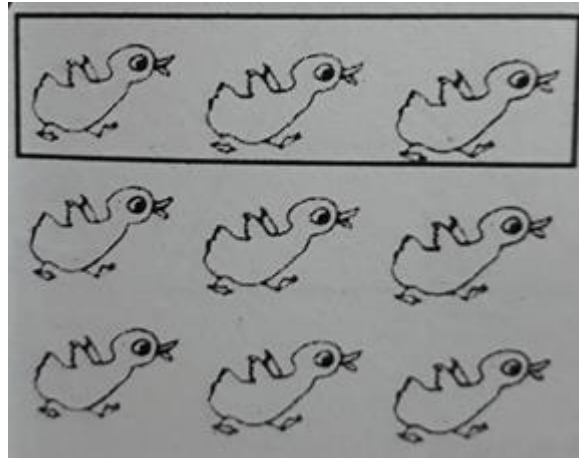
$$= 200$$

Bài 2 trang 12 Vở bài tập Toán lớp 3 Tập 1:


Tô màu $\frac{1}{3}$ số con vịt:

Lời giải:

a)



b)



Bài 3 trang 12 vở bài tập Toán lớp 3 Tập 1:

Mỗi con thỏ có 2 cái tai và 4 cái chân. Hỏi 5 con thỏ có?

a) Bao nhiêu cái tai?

b) Bao nhiêu cái chân?



Lời giải:

a) Số tai của 5 con thỏ có:

$$2 \times 5 = 10 \text{ (tai)}$$

b) Số chân của 5 con thỏ có:

$$4 \times 5 = 20 \text{ (chân)}$$

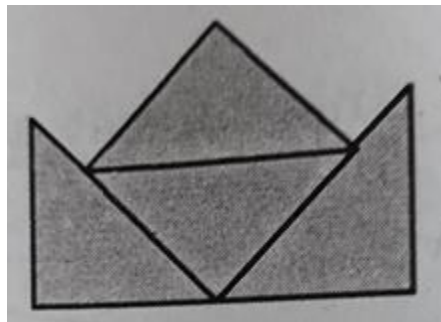
Đáp số: 10 tai thỏ

20 chân thỏ

Bài 4 trang 12 vở bài tập Toán lớp 3 Tập 1:

Xếp 4 hình tam giác thành hình “cái mũ”:

Lời giải:



Bài 5 trang 12 vở bài tập Toán lớp 3 Tập 1:

Với các số 2, 4, 8 và dấu x, :, =, em viết được các phép tính đúng là:

Lời giải:

$2 \times 4 = 8$

$8 : 2 = 4$

$4 \times 2 = 8$

$8 : 4 = 2$