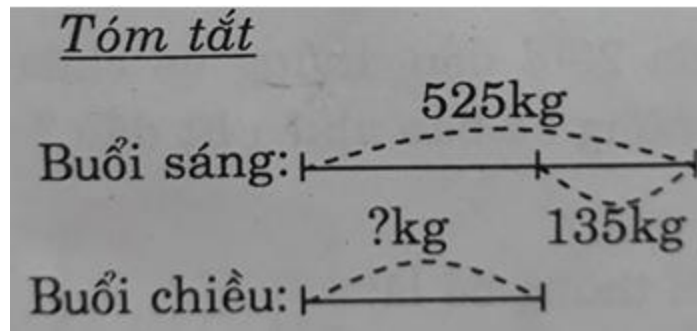


Giải bài 12 trang 15, 16 VBT Toán lớp 3 tập 1

Bài 1 trang 15 vở bài tập Toán lớp 3 Tập 1:

Một cửa hàng buổi sáng bán được 525kg gạo, buổi chiều bán được ít hơn buổi sáng 135kg. Hỏi buổi chiều của hàng đó bán được bao nhiêu ki-lô-gam gạo?



Lời giải:

Buổi chiều của hàng đó bán được số ki-lô-gam gạo là:

$$525 - 135 = 390 \text{ (kg)}$$

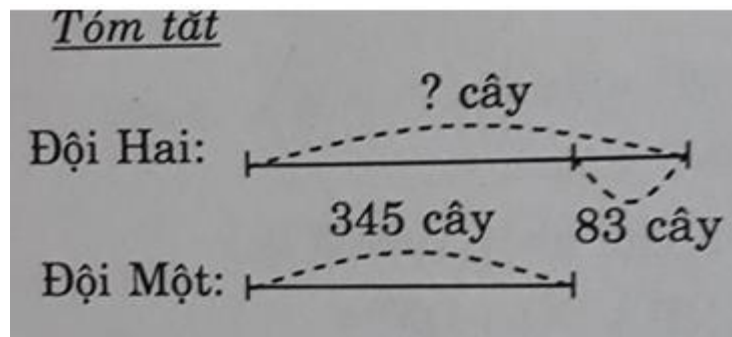
Đáp số : 390kg.

Bài 2 trang 15 vở bài tập Toán lớp 3 Tập 1:

Đội Một trồng được 345 cây, đội hai trồng được nhiều hơn đội Một 83 cây. Hỏi:

a) Đội Hai trồng được bao nhiêu cây?

b) Hai đội trồng tất cả được bao nhiêu cây?



Lời giải:

a) Đội Hai trồng được số cây là:

$$345 + 83 = 428 \text{ (cây)}$$

b) Cả hai đội trồng được số cây là:

$$428 + 345 = 773 \text{ (cây)}$$

Đáp số: a) 428 cây

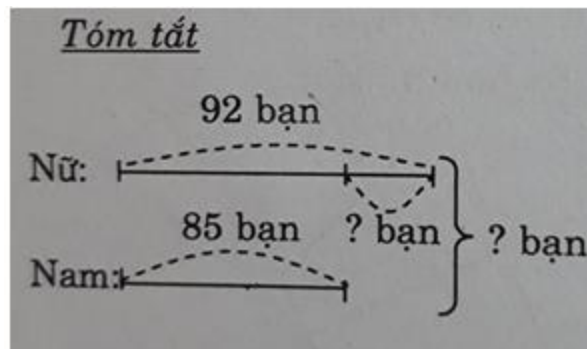
b) 773 cây

Bài 3 trang 16 vở bài tập Toán lớp 3 Tập 1:

Khối lớp Ba có 85 bạn nam và 92 bạn nữ. Hỏi:

a) Khối lớp Ba có tất cả bao nhiêu bạn?

b) Số bạn nữ nhiều hơn số bạn nam là bao nhiêu?



Lời giải:

a) Số học sinh trong khối lớp Ba là:

$$92 + 85 = 177 \text{ (bạn)}$$

b) Số học sinh nữ nhiều hơn số học sinh nam là:

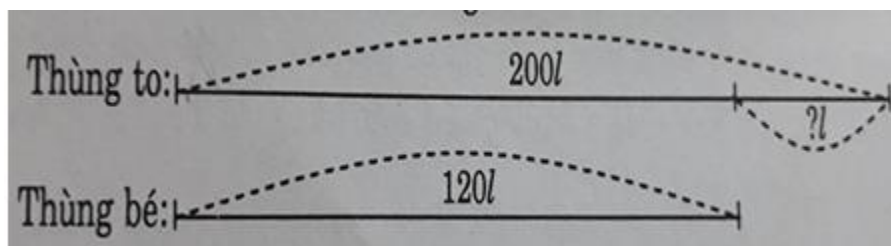
$$92 - 85 = 7 \text{ (bạn)}$$

Đáp số: a) 177 bạn

b) 7 bạn

Bài 4 trang 16 vở bài tập Toán lớp 3 Tập 1:

Lập bài toán theo tóm tắt rồi giải bài toán đó:

**Lời giải:**

Bài toán

Có 2 thùng dầu, thùng to chứa 200l dầu, thùng bé chứa 120l dầu. Hỏi thùng to chứa nhiều hơn thùng bé bao nhiêu lít dầu?

Bài giải

Số lít dầu thùng to nhiều hơn thùng bé là:

$$200 - 120 = 80 \text{ (l)}$$

Đáp số: 80l