

Giải bài 14 trang 18, 19 VBT Toán lớp 3 tập 1

Bài 1 trang 18 vở bài tập Toán lớp 3 Tập 1:

Viết vào chỗ chấm (theo mẫu)



6 giờ 50 phút hoặc  
7 giờ kém 10 phút



.....  
.....



.....  
.....



.....  
.....



.....  
.....



.....  
.....

**Lời giải:**



6 giờ 50 phút hoặc  
7 giờ kém 10 phút



2 giờ 35 phút hoặc  
3 giờ kém 25 phút



5 giờ 40 phút hoặc  
6 giờ kém 20 phút



3 giờ 45 phút hoặc  
4 giờ kém 15 phút



12 giờ 50 phút hoặc  
1 giờ kém 10 phút




8 giờ 55 phút hoặc  
9 giờ kém 5 phút

Bài 2 trang 18 vở bài tập Toán lớp 3 Tập 1:

Vẽ thêm kim phút để đồng hồ chỉ thời gian tương ứng.



1 giờ 30 phút



.....



.....

Lời giải:



1 giờ 30 phút



10 giờ kém 10 phút

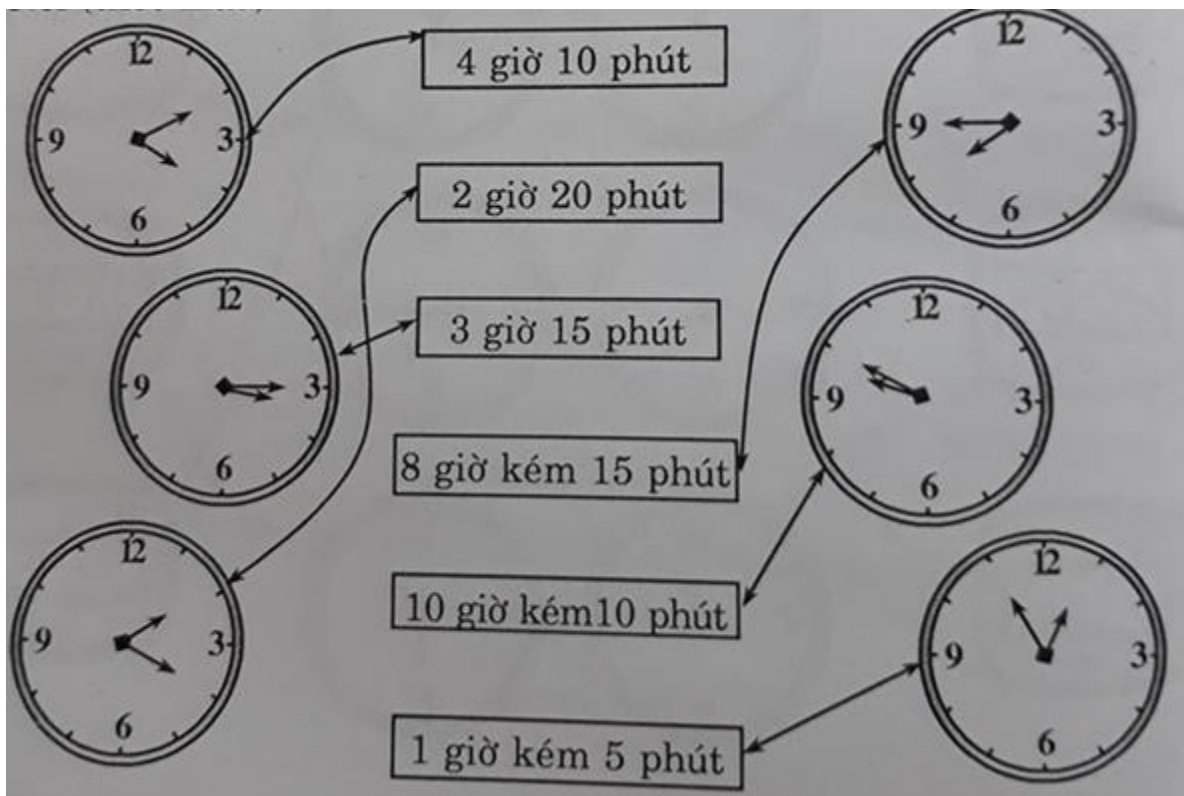


12 giờ kém 15 phút

Bài 3 trang 18 Vở bài tập Toán lớp 3 Tập 1:

Nói (theo mẫu):

Lời giải:



Bài 4 trang 19 Vở bài tập Toán lớp 3 Tập 1:

Xem đồng hồ rồi viết số thích hợp vào chỗ chấm:



Lúc ... giờ ... phút e tới trường



Lúc ...giờ ... phút e đang học môn Toán



Lúc ... giờ ... phút cô giáo đang giảng bài môn Tự nhiên và Xã hội.



Lúc ... giờ ... phút em bắt đầu ăn trưa tại lớp bán trú



Lúc ... giờ ... phút e đang ngủ trưa





Lúc ... giờ... phút e đang tự học bài buổi chiều


**Lời giải:**



7 giờ 25 phút e tới trường



8 giờ 30 phút e đang học môn Toán



9 giờ 45 phút cô giáo đang giảng bài môn Tự nhiên và Xã hội.



11 giờ 0 phút em bắt đầu ăn trưa tại lớp bán trú



12 giờ 15 phút e đang ngủ trưa





1 giờ 25 phút e đang tự học bài buổi chiều