

*Giải bài tự kiểm tra trang 23 VBT Toán lớp 3 tập 1*

Bài 1 trang 23 Vở bài tập Toán lớp 3 Tập 1:

Đặt tính rồi tính

416 + 208      692 - 235

.....  
 .....  
 .....

271 + 444      527 - 363

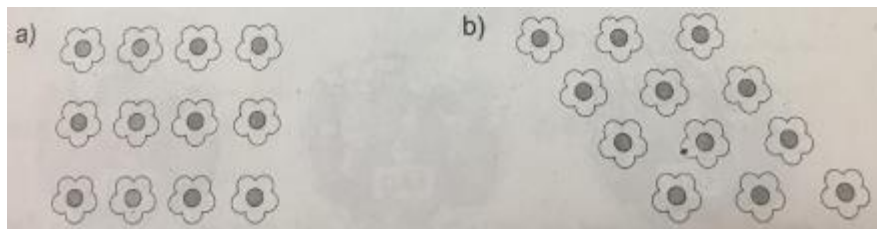
.....  
 .....  
 .....

**Lời giải:**


$$\begin{array}{r}
 416 \\
 + 208 \\
 \hline
 624
 \end{array}
 \qquad
 \begin{array}{r}
 692 \\
 - 235 \\
 \hline
 457
 \end{array}
 \qquad
 \begin{array}{r}
 271 \\
 + 444 \\
 \hline
 715
 \end{array}
 \qquad
 \begin{array}{r}
 527 \\
 - 363 \\
 \hline
 164
 \end{array}$$

Bài 2 trang 23 Vở bài tập Toán lớp 3 Tập 1:

Tô màu  $\frac{1}{4}$  số bông hoa có trong mỗi bình

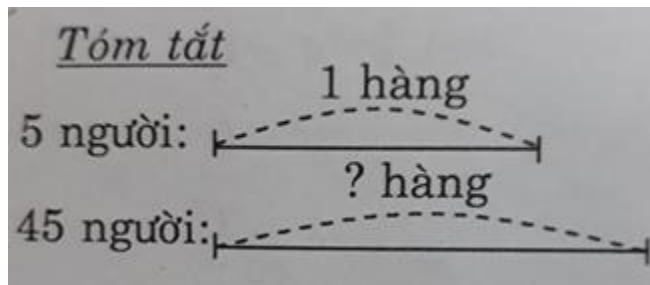


**Lời giải:**



Bài 3 trang 23 vở bài tập Toán lớp 3 Tập 1:

Một đội đồng diễn thể dục có 45 người xếp thành các hàng, mỗi hàng có 5 người. Hỏi đội đó xếp được bao nhiêu hàng?



**Lời giải:**

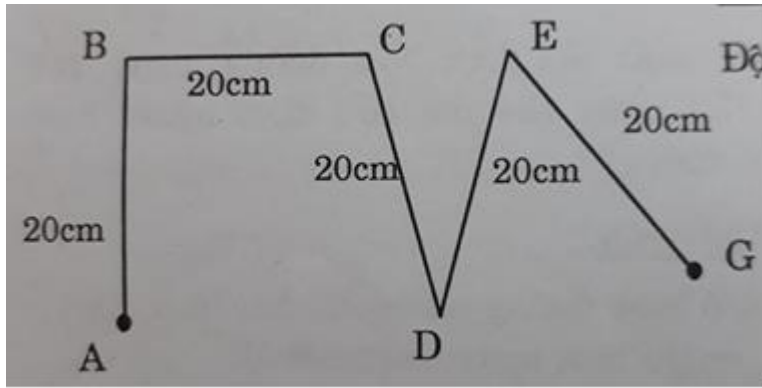
Số hàng đội đồng diễn xếp được là:

$$45 : 5 = 9 \text{ (hàng)}$$

Đáp số: 9 hàng

Bài 4 trang 23 vở bài tập Toán lớp 3 Tập 1:

Tính độ dài gấp khúc ABCDEG:



b) Đường gấp khúc trên có độ dài mấy mét ?

**Lời giải:**

a) Độ dài đường gấp khúc ABCDEG là:

$$AB + BC + CD + DE + EG = 20 + 20 + 20 + 20 + 20 = 100 \text{ (cm)}$$

Đáp số: 100cm

b) Đường gấp khúc trên có độ dài là 1m vì  $100\text{cm} = 1\text{m}$ .