

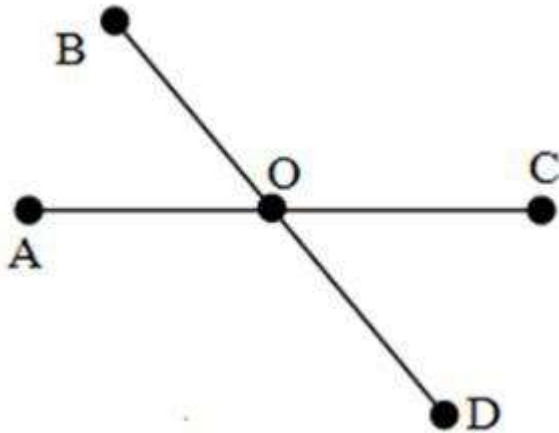
**Bộ câu hỏi trắc nghiệm Toán 6 Ba điểm thẳng hàng** được chúng tôi sưu tầm và tổng hợp bao gồm những dạng câu hỏi trọng tâm và thường xuất hiện trong bài kiểm tra quan trọng. Mời các em học sinh và quý thầy cô giáo theo dõi chi tiết dưới đây.

**Bộ 11 bài tập trắc nghiệm Toán lớp 6: Ba điểm thẳng hàng**

**Câu 1:** Chọn câu đúng

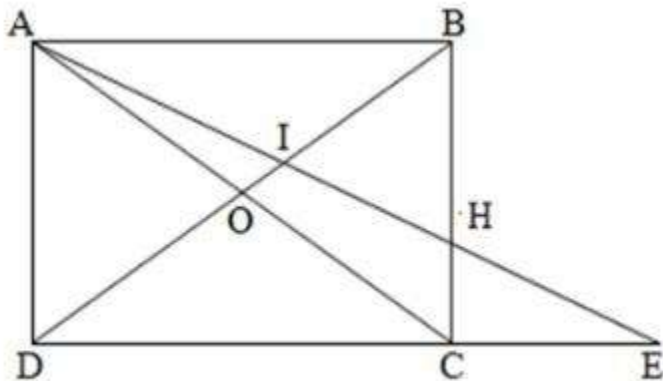
- A. Nếu ba điểm cùng thuộc một đường thẳng thì ba điểm đó không thẳng hàng
- B. Nếu ba điểm không cùng thuộc một đường thẳng thì ba điểm đó thẳng hàng
- C. Nếu ba điểm cùng thuộc một đường thẳng thì ba điểm đó thẳng hàng
- D. Cả ba đáp án trên đều sai

**Câu 2:** Kể tên bộ ba điểm thẳng hàng trong hình vẽ dưới



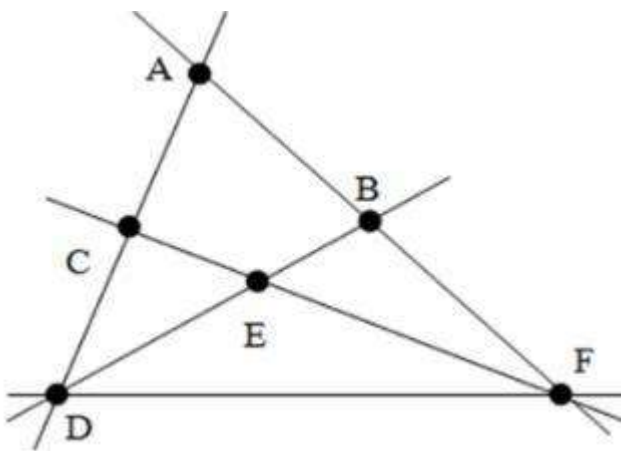
- A. A, O, D và B, O, C
- B. A, O, B và C, O, D
- C. A, O, C và B, O, D
- D. A, O, C và B, O, A

**Câu 3:** Có bao nhiêu bộ ba điểm thẳng hàng trên hình vẽ sau:



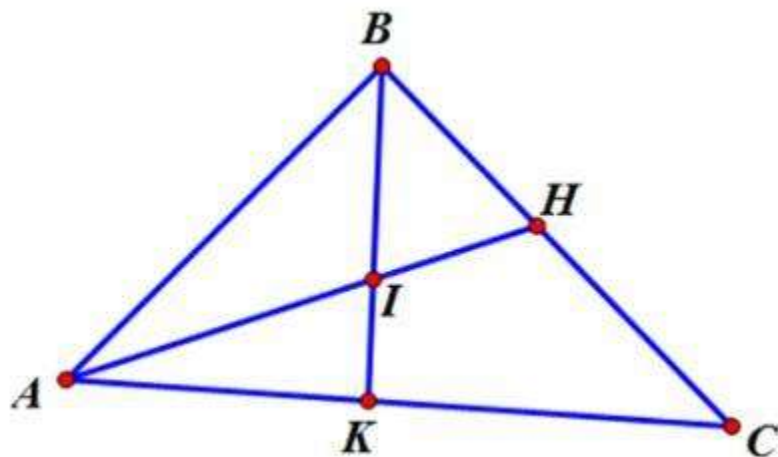
- A. 10
- B. 11
- C. 12
- D. 13

**Câu 4:** Cho hình vẽ sau. Chọn phát biểu sai



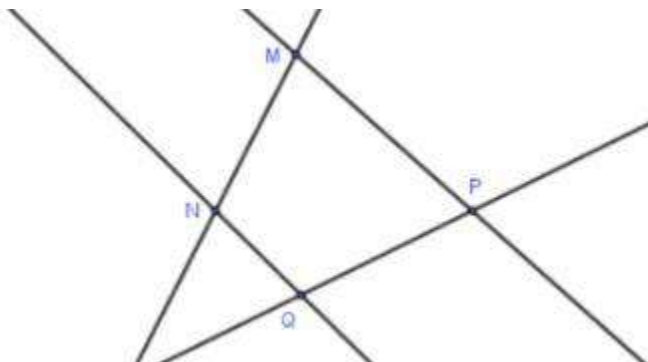
- A. Ba điểm D, E, B thẳng hàng
- B. Ba điểm C, E, A không thẳng hàng
- C. Ba điểm A, B, F thẳng hàng
- D. Ba điểm D, E, F thẳng hàng

**Câu 5:** Có bao nhiêu bộ điểm thẳng hàng trong hình vẽ dưới đây?



- A. 7
- B. 4
- C. 5
- D. 6

**Câu 6:** Có bao nhiêu bộ ba điểm không thẳng hàng trong hình vẽ sau:



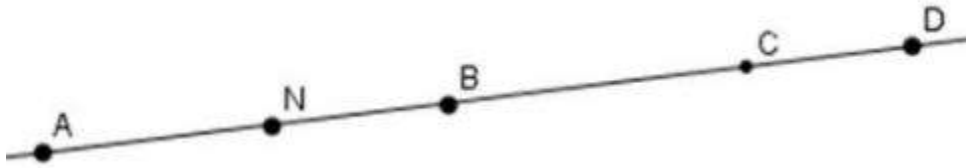
- A. 3
- B. 4
- C. 5
- D. 6

**Câu 7:** Cho 5 điểm A, B, C, D sao cho 3 điểm A, B, C cũng thuộc đường thẳng d, 3 điểm B, C, D thẳng hàng và 3 điểm C, D, O không thẳng hàng. Hỏi điểm nào nằm ngoài đường thẳng d?

- A. O, A
- B. O
- C. D

D. C, D

**Câu 8:** Cho hình vẽ sau:



Kể tên các điểm nằm giữa A và D

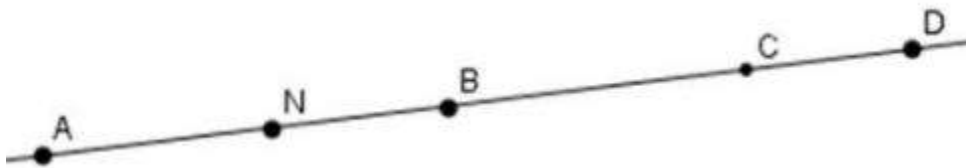
A. N, B, C

B. B, C, D

C. N

D. B, C

**Câu 9:** Có bao nhiêu điểm nằm giữa N và D?



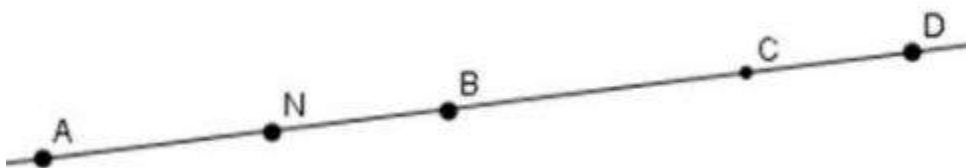
A. 3

B. 2

C. 1

D. 0

**Câu 10:** Số cặp điểm nằm cùng phía với điểm A là



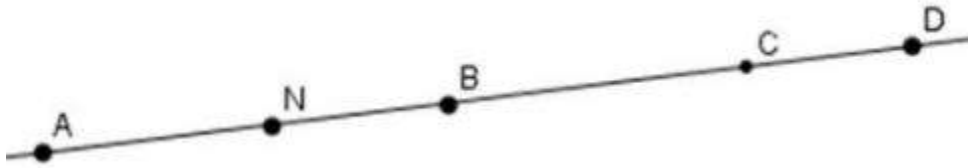
A. 9

B. 18

C. 12

D. 6

**Câu 11:** Trên hình vẽ, điểm B nằm giữa bao nhiêu cặp điểm?



A. 10

B. 8

C. 4

D. 6

**Đáp án bộ 11 câu hỏi trắc nghiệm Toán 6 Ba điểm thẳng hàng**

1.C 2.C 3.B 4.D 5.B 6.B 7.B 8.A 9.B 10.D 11.C