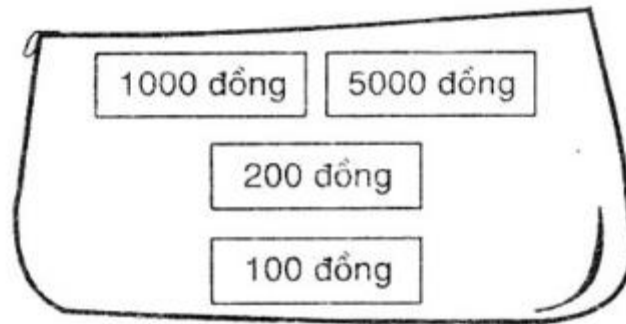


Mời các em học sinh cùng quý phụ huynh tham khảo ngay hướng dẫn giải các bài tập Toán trang 132 sách giáo khoa Toán lớp 3 Tập 2 Luyện tập tiền Việt Nam được chúng tôi trình bày chi tiết, dễ hiểu dưới đây.

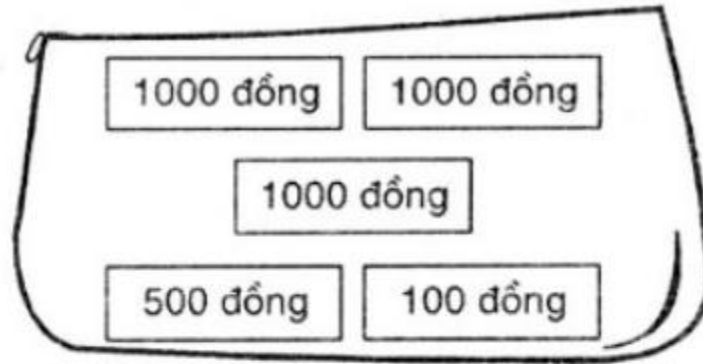
***Giải Bài 1 trang 132 SGK Toán lớp 3 Tập 2***

Chiếc ví nào có nhiều tiền nhất?

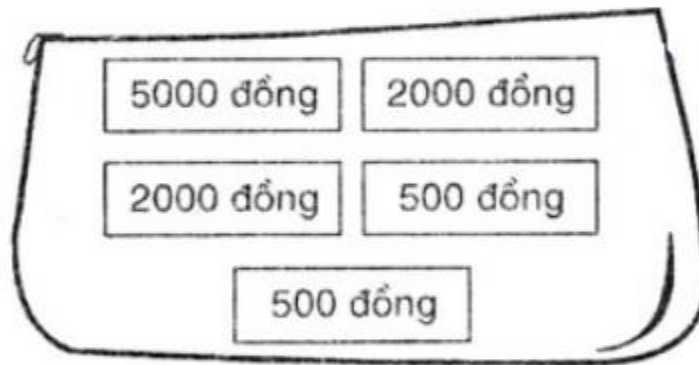
a)



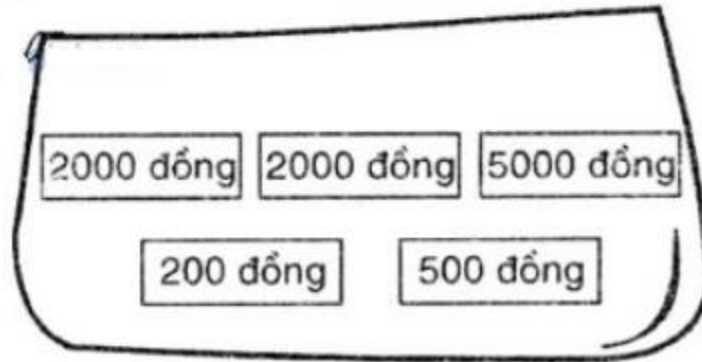
b)



c)



d)



**Lời giải:**

- Chiếc ví a) có 6300 đồng
- chiếc ví b) có 3600 đồng
- Chiếc ví c) có 10 000 đồng

- chiếc ví d) có 9700 đồng

Ta có: 3600 đồng < 6300 đồng < 9700 đồng < 10 000 đồng

Vậy chiếc ví c) có nhiều tiền nhất

***Giải Bài 2 trang 132 SGK Toán lớp 3 Tập 2***

Phải lấy ra các tờ giấy bạc nào để được số tiền ở bên phải?

a) 2000 đồng, 1000 đồng, 1000 đồng, 1000 đồng, 200 đồng, 500 đồng, 100 đồng → 3600 đồng

b) 5000 đồng, 1000 đồng, 2000 đồng, 200 đồng, 200 đồng, 500 đồng, 100 đồng → 7500 đồng

c) 1000 đồng, 2000 đồng, 2000 đồng, 5000 đồng, 500 đồng, 500 đồng, 1000 đồng → 3100 đồng

**Lời giải:**

- Phải lấy ra một tờ 2000 đồng, một tờ 1000 đồng, một tờ 500 đồng và một tờ 100 đồng để được 3600 đồng

Hoặc: Lấy ba tờ 1000 đồng, một tờ 500 đồng và một tờ 100 đồng để được 3600 đồng

- Phải lấy ra một tờ 5000 đồng, một tờ 2000 đồng và một tờ 500 đồng để được 7500 đồng

Hoặc: một tờ 5000 đồng, một tờ 2000 đồng và hai tờ 200 đồng và một tờ 100 đồng để được 7500 đồng.


- Lấy một tờ 2000 đồng, một tờ 1000 đồng và một tờ 100 đồng để được 3100 đồng

Hoặc : Một tờ 2000 đồng, hai tờ 500 đồng và một tờ 100 đồng để được 3100 đồng

***Giải Bài 3 trang 132 SGK Toán lớp 3 Tập 2***

Xem tranh rồi trả lời các câu hỏi sau:





a) Mai có 3000 đồng, Mai có vừa đủ tiền để mua một đồ vật nào?

b) Nam có 7000 đồng. Nam có vừa đủ tiền để mua những đồ vật nào?

**Lời giải:**

a) Mai có 3000 đồng, Mai có vừa đủ tiền để mua một cái kẹo

b) Nam có 7000 đồng. Nam có vừa đủ tiền để mua 1 hộp sáp màu và 1 cái thước kẻ, hoặc mua 1 cái bút máy và 1 cái kẹo

***Giải Bài 4 trang 132 SGK Toán lớp 3 Tập 2***

Mẹ mua một hộp sữa hết 6700 đồng và một gói kẹo hết 2300 đồng. Mẹ đưa cho cô bán hàng 10 000 đồng. hỏi cô bán hàng phải trả lại bao nhiêu tiền?

**Lời giải:**

Mẹ mua hết số tiền là:

$$6700 + 2300 = 9000 \text{ (đồng)}$$

Cô bán hàng phải trả lại số tiền là:

$$10\ 000 - 9000 = 1000 \text{ (đồng)}$$

Đáp số: 1000 đồng