


Mời các em học sinh cùng quý phụ huynh tham khảo ngay hướng dẫn giải các bài tập Toán trang 125, 126 sách giáo khoa Toán lớp 3 Tập 2 Thực hành xem đồng hồ (tiếp theo) được chúng tôi trình bày chi tiết, dễ hiểu dưới đây.

Giải Bài 1 trang 125 SGK Toán lớp 3 Tập 2

Xem tranh rồi trả lời câu hỏi sau:



a) An tập thể dục lúc mấy giờ ?




b) An đến trường lúc mấy giờ ?




c) An đang học bài lúc mấy giờ ?



d) An ăn cơm chiều lúc mấy giờ ?



e) An đang xem truyền hình lúc mấy giờ ?



g) An đang ngủ lúc mấy giờ ?

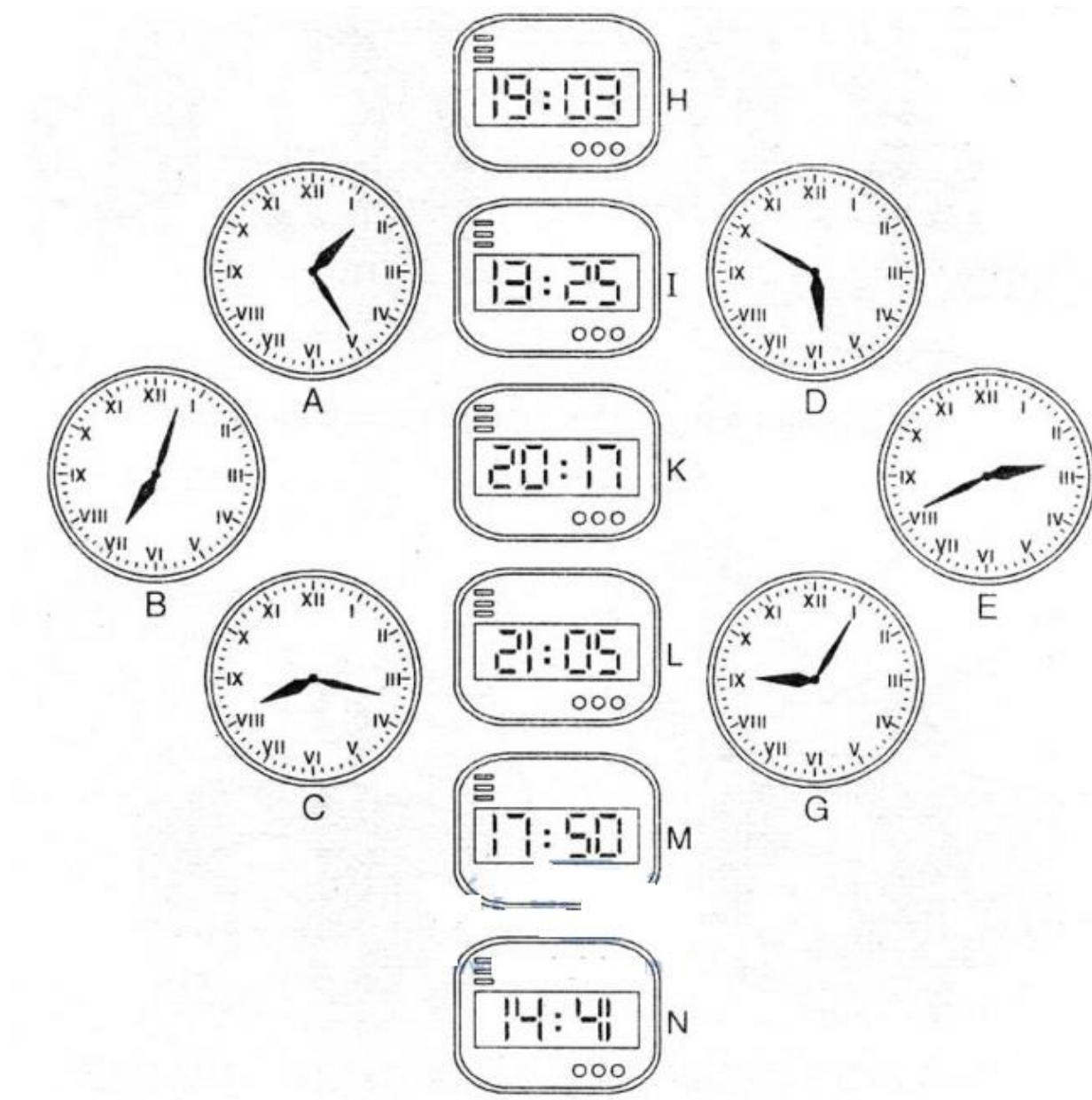
Lời giải:

- a) An tập thể dục lúc 6 giờ 10 phút
- b) An đến trường lúc 7 giờ 12 phút
- c) An đang học bài ở lớp lúc 10 giờ 24 phút
- d) An ăn cơm chiều lúc 6 giờ kém 15 phút
- e) An đang xem truyền hình lúc 8 giờ 7 phút tối
- g) An đang ngủ lúc 10 giờ kém 5 phút đêm

Có thể tổng hợp lại toàn bài, mô tả các hoạt động trong một ngày của bạn An như sau: 6 giờ 10 phút An tập thể dục buổi sáng. 7 giờ 12 phút An đến trường, 10 giờ 24 phút An đang học trong lớp, 6 giờ kém 15 phút An ăn cơm chiều, 8 giờ 7 phút tối An xem truyền hình, 10 giờ kém 5 phút đêm An đang ngủ.

Giải Bài 2 trang 126 SGK Toán lớp 3 Tập 2

Vào buổi chiều hoặc buổi tối hai đồng hồ nào chỉ cùng thời gian?



Lời giải:

Đồng hồ H và đồng hồ B

Đồng hồ I và đồng hồ A

Đồng hồ K và đồng hồ C

Đồng hồ L và đồng hồ G

Đồng hồ M và đồng hồ D


Đồng hồ N và đồng hồ E

Giải Bài 3 trang 126 SGK Toán lớp 3 Tập 2

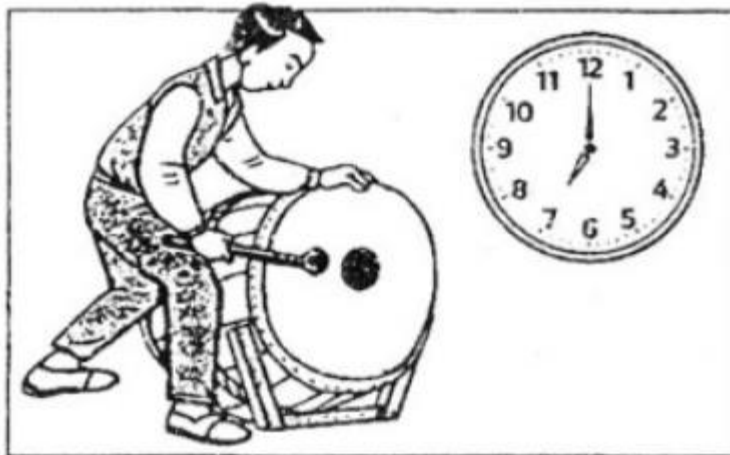

Trả lời các câu hỏi sau:

- a) Hà đánh răng và rửa mặt trong bao nhiêu phút?
- b) Từ 7 giờ kém 5 phút đến 7 giờ là bao nhiêu phút?
- c) Chương trình phim hoạt hình kéo dài trong bao nhiêu phút?






b)



c)



Lời giải:

a) Hà bắt đầu đánh răng và rửa mặt lúc 6 giờ sáng và xong lúc 6 giờ 10 phút. Vậy Hà đánh răng và rửa mặt trong 10 phút

b) Cậu bé đi học lúc 7 giờ kém 5 phút, vào học lúc 7 giờ. Từ 7 giờ kém 5 phút, vào học lúc 7 giờ. Từ 7 giờ kém 5 phút đến 7 giờ là 5 phút.

c) Chương trình phim Mời các em học sinh cùng quý phụ huynh tham khảo ngay hướng dẫn giải các bài tập Toán trang 128 sách giáo khoa Toán lớp 3 Tập 2 Bài toán liên quan đến rút về đơn vị được chúng tôi trình bày chi tiết, dễ hiểu dưới đây.

Giải Bài 1 trang 128 SGK Toán lớp 3 Tập 2

Có 24 viên thuốc chứa đều trong 4 vỉ. hỏi 3 vỉ thuốc có bao nhiêu viên thuốc?

Tóm tắt :

4 vỉ: 24 viên thuốc

3 vỉ: ...viên thuốc?

Lời giải:

Số viên thuốc trong mỗi vỉ là:

$$24 : 4 = 6 \text{ (viên thuốc)}$$

Số viên thuốc có trong 3 vỉ thuốc là:

$$6 \times 3 = 18 \text{ (viên thuốc)}$$

Đáp số: 18 viên thuốc

Giải Bài 2 trang 128 SGK Toán lớp 3 Tập 2

Có 28 kg gạo đựng đều trong 7 bao. Hỏi 5 bao đó có bao nhiêu kilogram gạo?

Tóm tắt:

7 bao: 28 kg

5 bao : ? kg

Lời giải:

Số gạo có trong mỗi bao là:

$$28 : 7 = 4 \text{ (kg)}$$

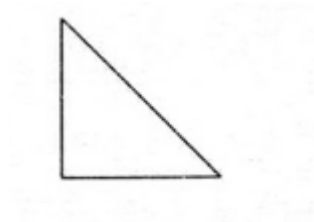
ố gạo trong 5 bao là:

$$4 \times 5 = 20 \text{ (kg)}$$

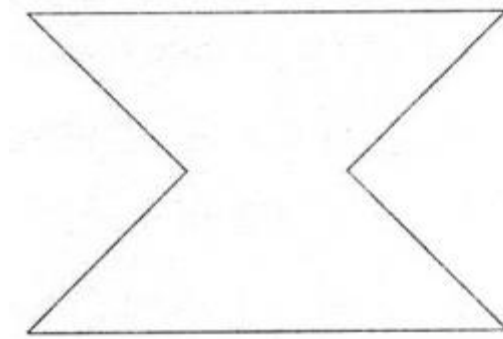
Đáp số: 20 kg gạo

Giải Bài 3 trang 128 SGK Toán lớp 3 Tập 2

Cho 8 hình tam giác. Mỗi hình như sau

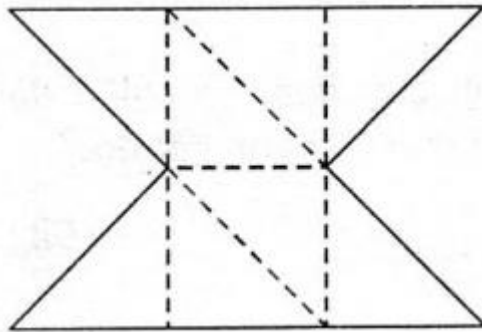


Hãy sắp xếp thành hình dưới đây:



Lời giải:

Có thể xếp hình như sau:



hoạt hình bắt đầu lúc 8 giờ và kết thúc lúc 8 giờ 30 phút. Chương trình phim hoạt hình kéo dài trong 30 phút

Mời các em học sinh cùng quý phụ huynh tham khảo ngay hướng dẫn giải các bài tập Toán trang 129 sách giáo khoa Toán lớp 3 Tập 2 Luyện tập (tiếp theo) được chúng tôi trình bày chi tiết, dễ hiểu dưới đây.

Giải Bài 1 trang 129 SGK Toán lớp 3 Tập 2

Mua 5 quả trứng hết 4500 đồng. Hỏi nếu mua 3 quả trứng như thế thì hết bao nhiêu tiền?

Lời giải:

Mua 1 quả trứng hết :

$$4500 : 5 = 900 \text{ (đồng)}$$

Mua 3 quả trứng hết :

$$900 * 3 = 2700 \text{ (đồng)}$$

Đáp số : 2700 (đồng)

Giải Bài 2 trang 129 SGK Toán lớp 3 Tập 2

Muốn lát nền 6 căn phòng như nhau cần 2550 viên gạch. Hỏi muốn lát nền 7 căn phòng như thế cần bao nhiêu viên gạch ?

Tóm tắt:

6 căn phòng: 2550 viên gạch

7 căn phòng: ... viên gạch

Lời giải:

Số viên gạch lát nền mỗi căn phòng là :

$$2250 : 6 = 425 \text{ (viên)}$$

ố viên gạch lát nền 7 căn phòng là :

$$425 \times 7 = 2975 \text{ (viên)}$$

Đáp số: 2975 viên

Giải Bài 3 trang 129 SGK Toán lớp 3 Tập 2

Một người đi bộ mỗi giờ đi được 4km

| | | | | | |
|----------------|-------|-------|-------|-------|-------|
| Thời gian đi | 1 giờ | 2 giờ | 4 giờ | 3 giờ | ..giờ |
| Quãng đường đi | 4 km | ..km | ..km | ...km | 20km |

Lời giải:

| | | | | | |
|----------------|-------|-------|-------|-------|-------|
| Thời gian đi | 1 giờ | 2 giờ | 4 giờ | 3 giờ | ..giờ |
| Quãng đường đi | 4 km | 8 km | 16 km | 12 km | 20km |

Giải Bài 4 trang 129 SGK Toán lớp 3 Tập 2

Viết biểu thức rồi tính giá trị của biểu thức

- a) 32 chia 8 nhân 3
- b) 45 nhân 2 nhân 5
- c) 49 nhân 4 chia 7
- d) 234 chia 6 chia 3

Lời giải:

- a) $32 : 8 \times 3 = 4 \times 3 = 12$
- b) $45 \times 2 \times 5 = 90 \times 5 = 450$
- c) $49 \times 4 : 7 = 196 : 7 = 28$
- d) $234 : 6 : 3 = 39 : 3 = 13$