


Mời các em học sinh cùng quý phụ huynh tham khảo ngay hướng dẫn giải các bài tập Toán trang 125, 126 sách giáo khoa Toán lớp 3 Tập 2 Thực hành xem đồng hồ (tiếp theo) được chúng tôi trình bày chi tiết, dễ hiểu dưới đây.

Giải Bài 1 trang 125 SGK Toán lớp 3 Tập 2

Xem tranh rồi trả lời câu hỏi sau:



a) An tập thể dục lúc mấy giờ ?




b) An đến trường lúc mấy giờ ?




c) An đang học bài lúc mấy giờ ?



d) An ăn cơm chiều lúc mấy giờ ?



e) An đang xem truyền hình lúc mấy giờ ?



g) An đang ngủ lúc mấy giờ ?

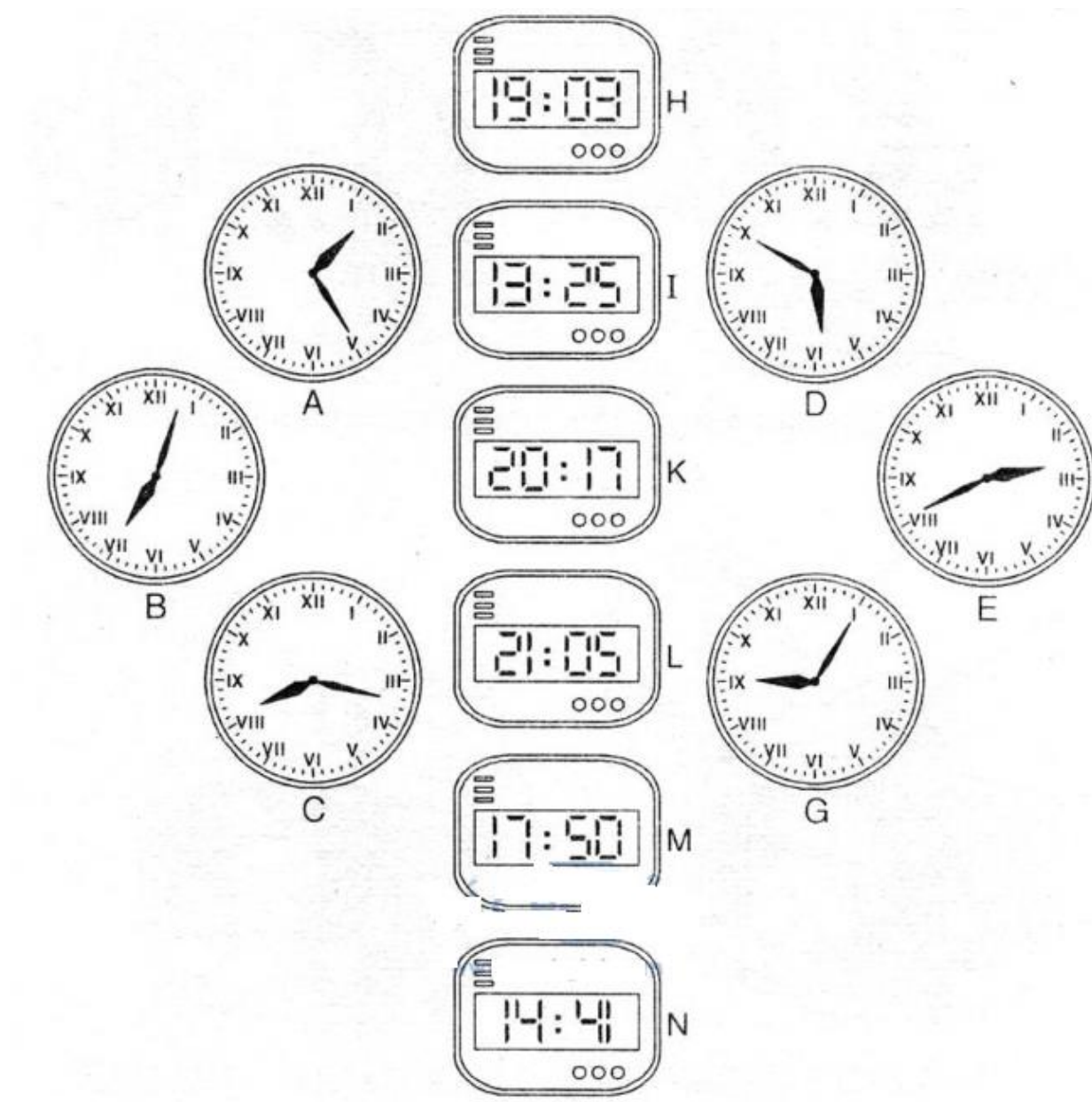
Lời giải:

- a) An tập thể dục lúc 6 giờ 10 phút
- b) An đến trường lúc 7 giờ 12 phút
- c) An đang học bài ở lớp lúc 10 giờ 24 phút
- d) An ăn cơm chiều lúc 6 giờ kém 15 phút
- e) An đang xem truyền hình lúc 8 giờ 7 phút tối
- g) An đang ngủ lúc 10 giờ kém 5 phút đêm

Có thể tổng hợp lại toàn bài, mô tả các hoạt động trong một ngày của bạn An như sau: 6 giờ 10 phút An tập thể dục buổi sáng. 7 giờ 12 phút An đến trường, 10 giờ 24 phút An đang học trong lớp, 6 giờ kém 15 phút An ăn cơm chiều, 8 giờ 7 phút tối An xem truyền hình, 10 giờ kém 5 phút đêm An đang ngủ.

Giải Bài 2 trang 126 SGK Toán lớp 3 Tập 2

Vào buổi chiều hoặc buổi tối hai đồng hồ nào chỉ cùng thời gian?



Lời giải:

Đồng hồ H và đồng hồ B

Đồng hồ I và đồng hồ A

Đồng hồ K và đồng hồ C

Đồng hồ L và đồng hồ G


Đồng hồ M và đồng hồ D


Đồng hồ N và đồng hồ E

Giải Bài 3 trang 126 SGK Toán lớp 3 Tập 2

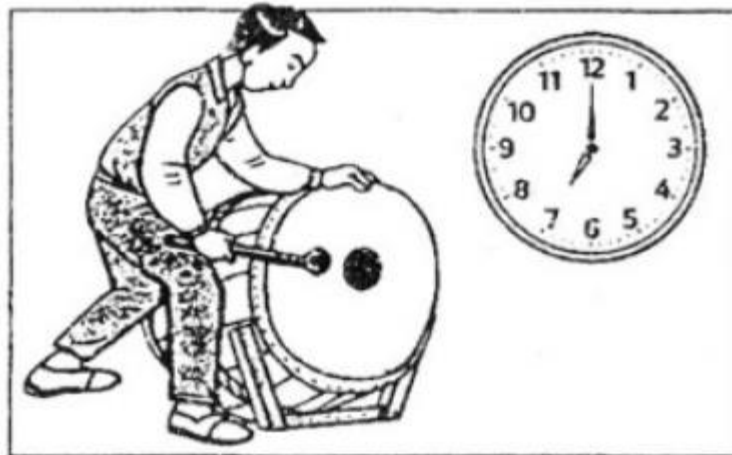

Trả lời các câu hỏi sau:

- Hà đánh răng và rửa mặt trong bao nhiêu phút?
- Từ 7 giờ kém 5 phút đến 7 giờ là bao nhiêu phút?
- Chương trình phim hoạt hình kéo dài trong bao nhiêu phút?







b)



c)



Lời giải:

a) Hà bắt đầu đánh răng và rửa mặt lúc 6 giờ sáng và xong lúc 6 giờ 10 phút. Vậy Hà đánh răng và rửa mặt trong 10 phút

b) Cậu bé đi học lúc 7 giờ kém 5 phút, vào học lúc 7 giờ. Từ 7 giờ kém 5 phút, vào học lúc 7 giờ. Từ 7 giờ kém 5 phút đến 7 giờ là 5 phút.

c) Chương trình phim Mời các em học sinh cùng quý phụ huynh tham khảo ngay hướng dẫn giải các bài tập Toán trang 128 sách giáo khoa Toán lớp 3 Tập 2 Bài toán liên quan đến rút về đơn vị được chúng tôi trình bày chi tiết, dễ hiểu dưới đây.

Giải Bài 1 trang 128 SGK Toán lớp 3 Tập 2

Có 24 viên thuốc chứa đều trong 4 vỉ. hỏi 3 vỉ thuốc có bao nhiêu viên thuốc?

Tóm tắt :

4 vỉ: 24 viên thuốc

3 vỉ: ...viên thuốc?

Lời giải:

Số viên thuốc trong mỗi vỉ là:

$$24 : 4 = 6 \text{ (viên thuốc)}$$

Số viên thuốc có trong 3 vỉ thuốc là:

$$6 \times 3 = 18 \text{ (viên thuốc)}$$

Đáp số: 18 viên thuốc

Giải Bài 2 trang 128 SGK Toán lớp 3 Tập 2

Có 28 kg gạo đựng đều trong 7 bao. Hỏi 5 bao đó có bao nhiêu kilogram gạo?

Tóm tắt:

7 bao: 28 kg

5 bao : ? kg

Lời giải:

Số gạo có trong mỗi bao là:

$$28 : 7 = 4 \text{ (kg)}$$

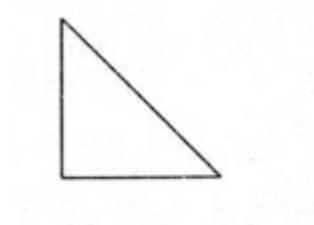
Ố gạo trong 5 bao là:

$$4 \times 5 = 20 \text{ (kg)}$$

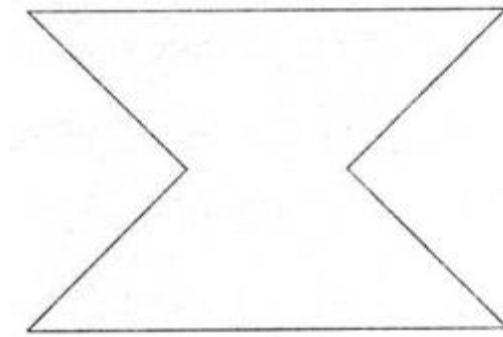
Đáp số: 20 kg gạo

Giải Bài 3 trang 128 SGK Toán lớp 3 Tập 2

Cho 8 hình tam giác. Mỗi hình như sau

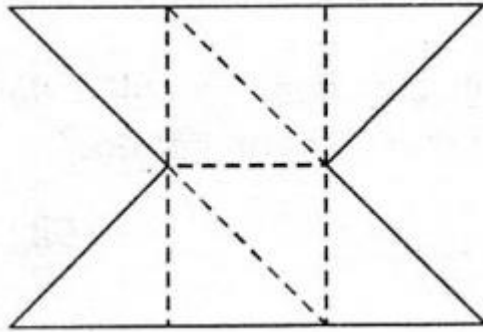


Hãy sắp xếp thành hình dưới đây:



Lời giải:

Có thể xếp hình như sau:



hoạt hình bắt đầu lúc 8 giờ và kết thúc lúc 8 giờ 30 phút. Chương trình phim hoạt hình kéo dài trong 30 phút