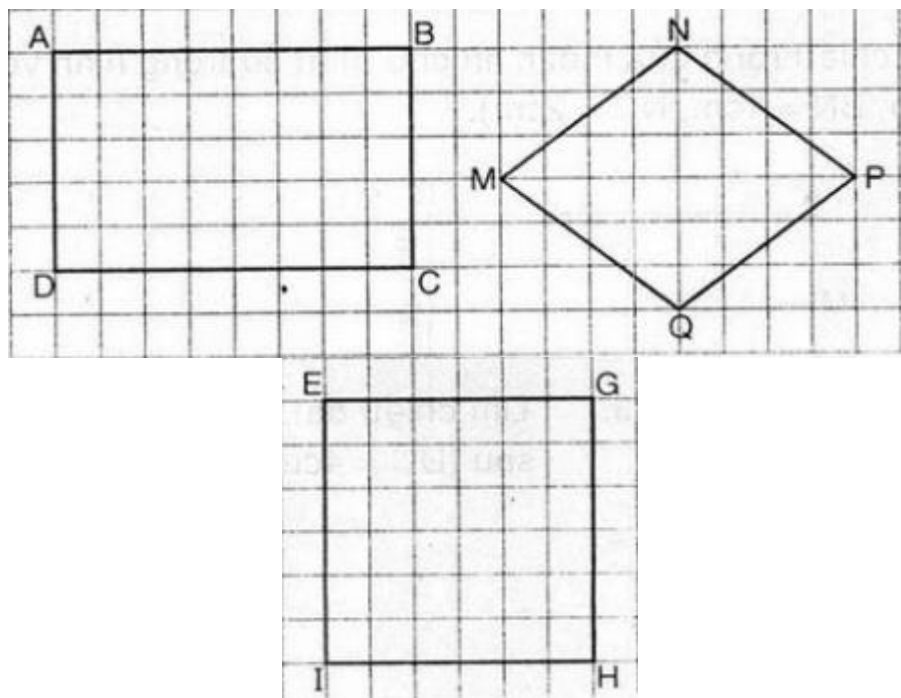


Mời các em học sinh cùng quý phụ huynh tham khảo ngay hướng dẫn giải các bài tập Toán trang 85, 86 sách giáo khoa Toán lớp 3 Tập 1 Hình vuông được chúng tôi trình bày chi tiết, dễ hiểu dưới đây.

Giải Bài 1 trang 85 SGK Toán lớp 3 Tập 1

Trong các hình dưới đây, hình nào là hình vuông?

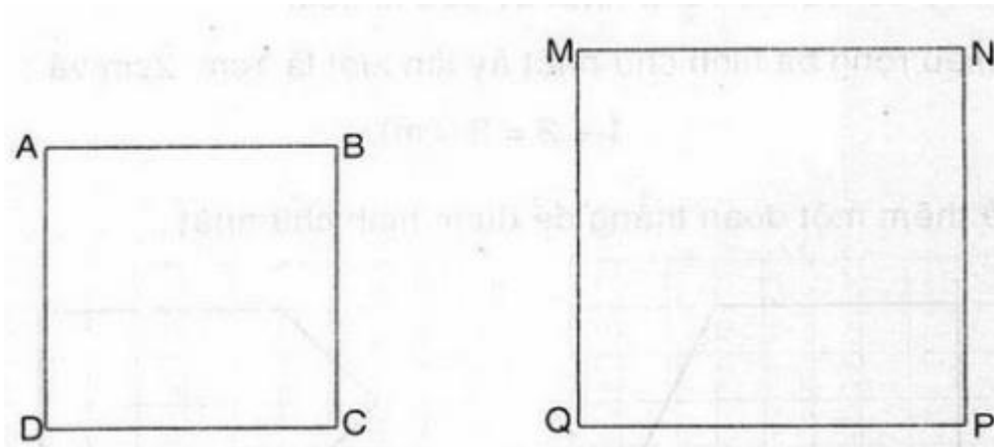


Lời giải:

- * Hình EIGH là hình vuông
- * Hình ABCD và Hình MNPQ không phải là hình vuông

Giải Bài 2 trang 85 SGK Toán lớp 3 Tập 1

Đo rồi cho biết độ dài của mỗi hình vuông sau:



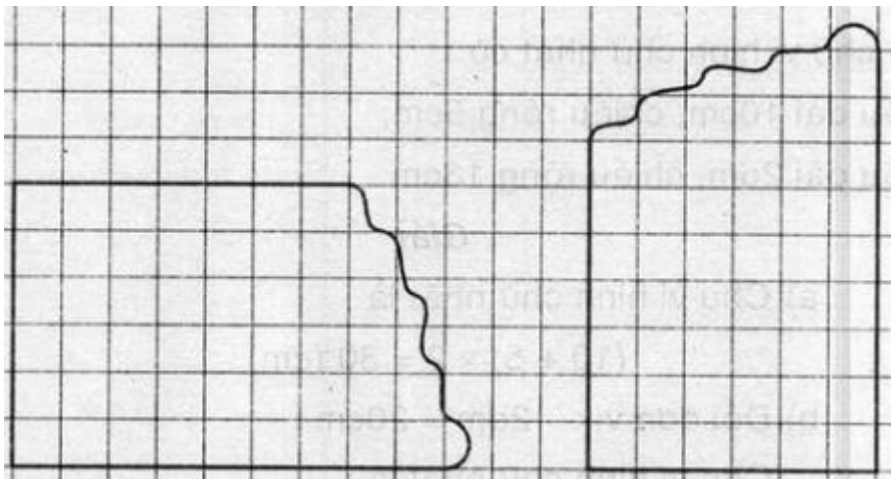
Lời giải:

+ Độ dài cạnh của hình vuông ABCD là 3cm

+ Độ dài cạnh của hình vuông MNPQ là 4cm.

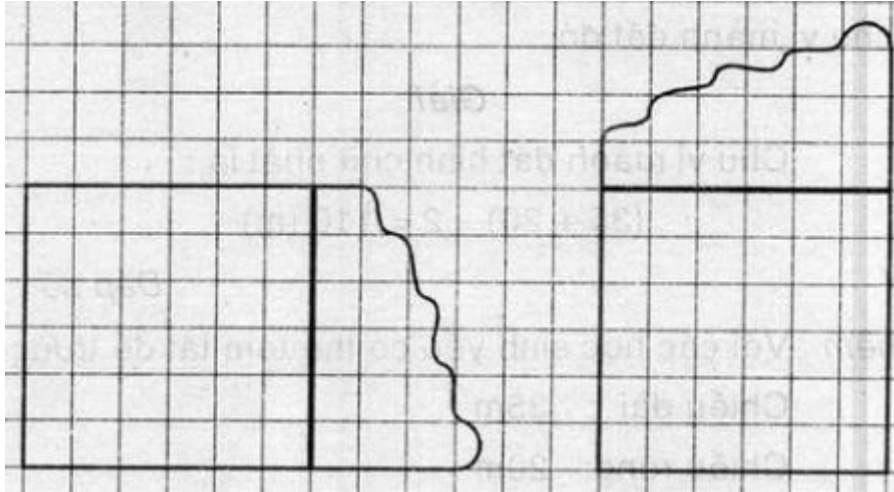
Giải Bài 3 trang 86 SGK Toán lớp 3 Tập 1

Kẻ thêm đoạn thẳng để được hình vuông?



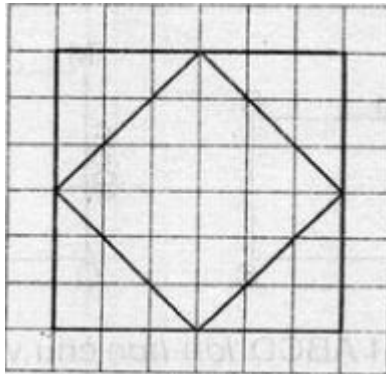
Lời giải:

Có thể kẻ thêm đoạn thẳng như sau:



Giải Bài 4 trang 86 SGK Toán lớp 3 Tập 1

Vẽ theo mẫu:



Lời giải:

Học sinh chấm các điểm mốc để được một hình vuông nhỏ rồi dựa vào các ô trống để vẽ nốt hình vuông còn lại