

Mời các em học sinh cùng quý phụ huynh tham khảo ngay hướng dẫn giải các bài tập Toán trang 71 sách giáo khoa Toán lớp 3 Tập 1 Chia số có hai chữ số cho số có một chữ số được chúng tôi trình bày chi tiết, dễ hiểu dưới đây.

***Giải Bài 1 trang 71 SGK Toán lớp 3 Tập 1***

Tính:

a)  $77 \overline{)2}$      $87 \overline{)2}$      $86 \overline{)6}$      $99 \overline{)4}$   
 b)  $69 \overline{)3}$      $85 \overline{)4}$      $97 \overline{)7}$      $78 \overline{)6}$

**Lời giải:**

a) 
$$\begin{array}{r} 77 \overline{)2} \\ 6 \overline{)38} \\ \underline{17} \\ 16 \\ \underline{1} \end{array}$$
    
$$\begin{array}{r} 87 \overline{)2} \\ 8 \overline{)43} \\ \underline{07} \\ 06 \\ \underline{1} \end{array}$$
    
$$\begin{array}{r} 86 \overline{)6} \\ 6 \overline{)14} \\ \underline{26} \\ 24 \\ \underline{2} \end{array}$$
    
$$\begin{array}{r} 99 \overline{)4} \\ 8 \overline{)24} \\ \underline{19} \\ 16 \\ \underline{3} \end{array}$$
  
 $77 : 2 = 38$  (dư 1)     $87 : 2 = 43$  (dư 1)     $86 : 6 = 14$  (dư 2)     $99 : 4 = 24$  (dư 3)

b) 
$$\begin{array}{r} 69 \overline{)6} \\ 6 \overline{)23} \\ \underline{09} \\ 9 \\ \underline{0} \end{array}$$
    
$$\begin{array}{r} 85 \overline{)3} \\ 8 \overline{)21} \\ \underline{05} \\ 4 \\ \underline{1} \end{array}$$
    
$$\begin{array}{r} 97 \overline{)5} \\ 7 \overline{)13} \\ \underline{27} \\ 21 \\ \underline{6} \end{array}$$
    
$$\begin{array}{r} 78 \overline{)2} \\ 6 \overline{)13} \\ \underline{18} \\ 18 \\ \underline{9} \end{array}$$
  
 $69 : 3 = 23$      $85 : 4 = 21$  (dư 1)     $97 : 7 = 13$  (dư 6)     $78 : 6 = 13$

***Giải Bài 2 trang 71 SGK Toán lớp 3 Tập 1***

Một lớp học có 33 học sinh, phòng học của lớp đó chỉ có loại bàn 2 chỗ ngồi. Hỏi cần ít nhất bao nhiêu bàn học như thế ?

**Lời giải:**

Ta có:  $33 : 2 = 16$  (dư 1)

Số bàn có 2 học sinh ngồi là 16 bàn, còn dư 1 học sinh nên cần thêm 1 bàn nữa

Vậy số bàn cần có ít nhất là:

$$16 + 1 = 17 \text{ (bàn)}$$

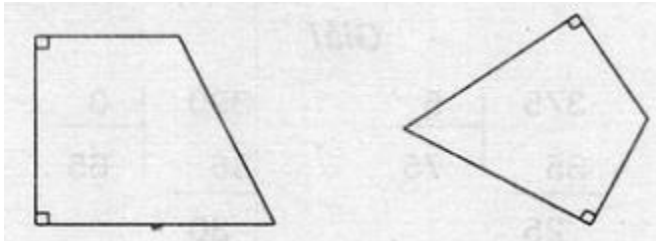
Đáp số: 17 bàn

***Giải Bài 3 trang 71 SGK Toán lớp 3 Tập 1***

Vẽ 1 tứ giác có 2 góc vuông

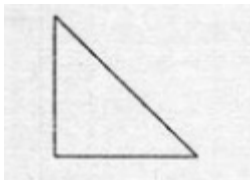
**Lời giải:**

Học sinh dùng ê ke để vẽ góc vuông. Chẳng hạn:

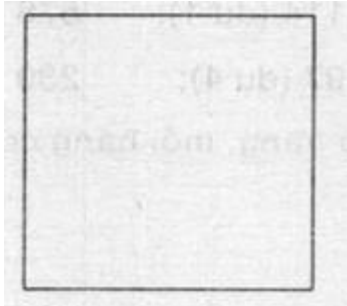


***Giải Bài 4 trang 71 SGK Toán lớp 3 Tập 1***

Cho 8 hình tam giác, mỗi hình như hình bên:



Hãy xếp thành hình vuông



**Lời giải:**

Có thể xếp hình như sau:

