

Mời các em học sinh cùng quý phụ huynh tham khảo ngay hướng dẫn giải các bài tập toán trang 43 sách giáo khoa Toán lớp 3 tập 1 Thực hành nhận biết và vẽ các góc vuông bằng ê ke được chúng tôi trình bày chi tiết, dễ hiểu dưới đây.

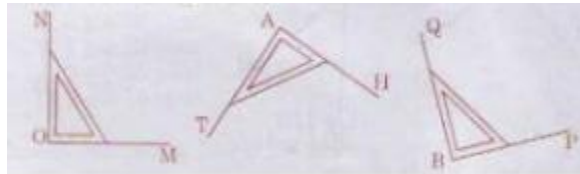
Giải Bài 1 trang 43 SGK Toán lớp 3 tập 1

Dùng ê ke vẽ góc vuông, biết đỉnh và một cạnh cho trước:



Lời giải:

Có thể vẽ góc vuông như sau:

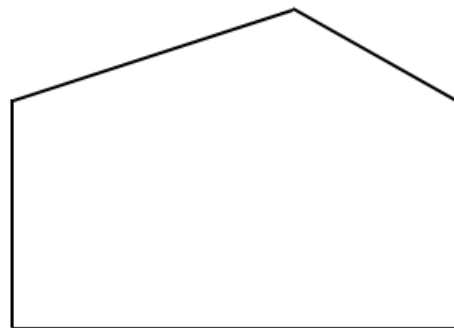


Giải Bài 2 trang 43 SGK Toán lớp 3 tập 1

Dùng ê ke kiểm tra trong mỗi hình sau có mấy góc vuông?



Hình 1



Hình 2

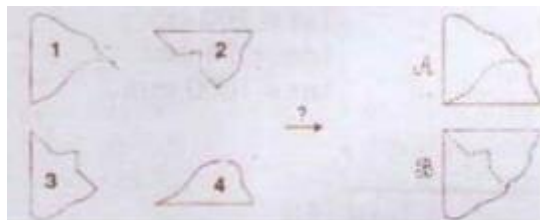
Lời giải:

Hình 1 có 4 góc vuông

Hình 2 có 2 góc vuông.

Giải Bài 3 trang 43 SGK Toán lớp 3 tập 1

Hai miếng bìa nào có thể ghép với nhau được một góc vuông như hình A hoặc hình B.



Lời giải:

Hình A được ghép bởi miếng bìa 1 và miếng bìa 4.

Hình B được ghép bởi miếng bìa 2 và miếng bìa 3.

Giải Bài 4 trang 43 SGK Toán lớp 3 tập 1

Thực hành:

Gấp mảnh giấy theo hình sau để được góc vuông?



Lời giải:

Học sinh lấy tờ giấy bất kì gấp đôi rồi gấp tư như hình vẽ để được góc vuông. Các em có thể lấy góc vuông này thay eke để kiểm tra nhận biết góc vuông.