

**Bộ câu hỏi trắc nghiệm Toán 6 Tập hợp. Phần tử của tập hợp** được chúng tôi sưu tầm và tổng hợp bao gồm những dạng câu hỏi trọng tâm và thường xuất hiện trong bài kiểm tra quan trọng. Mời các em học sinh và quý thầy cô giáo theo dõi chi tiết dưới đây.

**Bộ 12 bài tập trắc nghiệm Toán lớp 6: Tập hợp. Phần tử của tập hợp**

**Câu 1:** Các viết tập hợp nào sau đây đúng?

- A.  $A = [1; 2; 3; 4]$
- B.  $A = (1; 2; 3; 4)$
- C.  $A = 1; 2; 3; 4$
- D.  $A = \{1; 2; 3; 4\}$

**Câu 2:** Cho  $B = \{2; 3; 4; 5\}$ . Chọn đáp án sai trong các đáp án sau?

- A.  $2 \in B$
- B.  $5 \in B$
- C.  $1 \notin B$
- D.  $6 \in B$

**Câu 3:** Viết tập hợp A các số tự nhiên lớn hơn 5 và nhỏ hơn 10.

- A.  $A = \{6; 7; 8; 9\}$
- B.  $A = \{5; 6; 7; 8; 9\}$
- C.  $A = \{6; 7; 8; 9; 10\}$
- D.  $A = \{6; 7; 8\}$

**Câu 4:** Viết tập hợp P các chữ cái khác nhau trong cụm từ: “HOC SINH”

- A.  $P = \{H; O; C; S; I; N; H\}$
- B.  $P = \{H; O; C; S; I; N\}$
- C.  $P = \{H; C; S; I; N\}$
- D.  $P = \{H; O; C; H; I; N\}$

**Câu 5:** Viết tập hợp  $A = \{16; 17; 18; 19\}$  dưới dạng chỉ ra tính chất đặc trưng

- A.  $A = \{x|15 < x < 19\}$
- B.  $A = \{x|15 < x < 20\}$
- C.  $A = \{x|16 < x < 20\}$
- D.  $A = \{x|15 < x \leq 20\}$

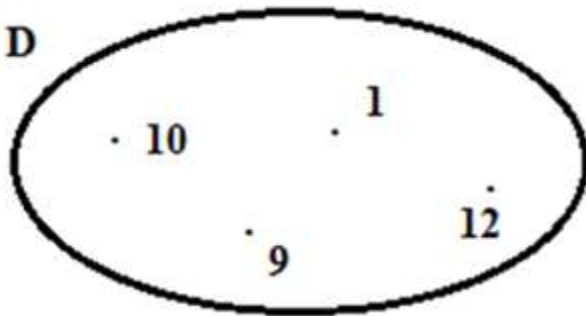
**Câu 6:** Cho tập hợp  $A = \{1; 2; 3; 4\}$  và tập hợp  $B = \{3; 4; 5\}$ . Tập hợp  $C$  gồm các phần tử thuộc tập  $A$  nhưng không thuộc tập hợp  $B$  là?

- A.  $C = \{5\}$
- B.  $C = \{1; 2; 5\}$
- C.  $C = \{1; 2\}$
- D.  $C = \{2; 4\}$

**Câu 7:** Cho tập hợp  $A = \{1; 2; 3; 4\}$  và tập hợp  $B = \{3; 4; 5\}$ . Tập hợp  $C$  gồm các phần tử thuộc tập  $A$  lẫn tập hợp  $B$  là?

- A.  $C = \{3; 4; 5\}$
- B.  $C = \{3\}$
- C.  $C = \{4\}$
- D.  $C = \{3; 4\}$

**Câu 8:** Cho hình vẽ



**Tập hợp D là?**

- A.  $D = \{8; 9; 10; 12\}$
- B.  $D = \{1; 9; 10\}$
- C.  $D = \{9; 10; 12\}$
- D.  $D = \{1; 9; 10; 12\}$

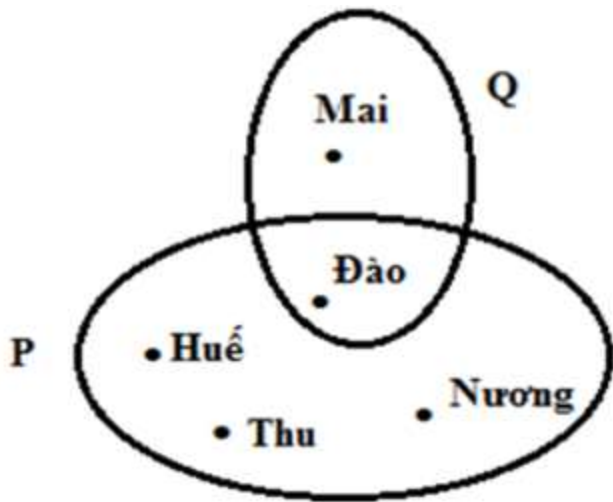
**Câu 9:** Tập hợp  $A = \{x | 22 < x \leq 27\}$  dưới dạng liệt kê các phần tử là?

- A.  $A = \{22; 23; 24; 25; 26\}$
- B.  $A = \{22; 23; 24; 25; 26; 27\}$
- C.  $A = \{23; 24; 25; 26; 27\}$
- D.  $A = \{23; 24; 25; 26\}$

**Câu 10:** Tập hợp P gồm các số tự nhiên lớn hơn 50 và không lớn hơn 57. Kết luận nào sau đây sai?

- A.  $55 \in P$
- B.  $57 \in P$
- C.  $50 \notin P$
- D.  $58 \in P$

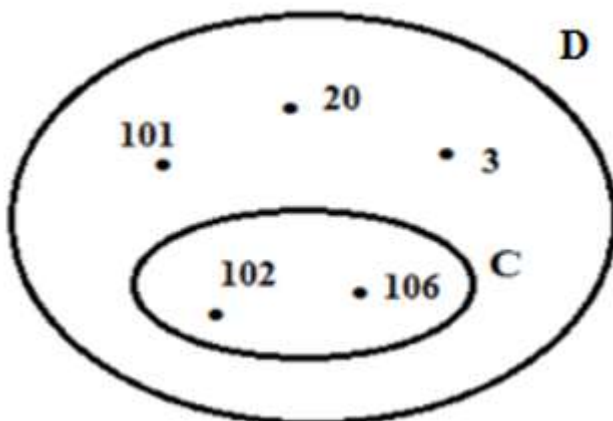
**Câu 11:** Cho hình vẽ sau



Tập hợp P và tập hợp Q gồm?

- A.  $P = \{ Huệ; Thu; Nương \}; Q = \{ Đào; Mai \}$
- B.  $P = \{ Huệ; Thu; Nương; Đào \}; Q = \{ Đào; Mai \}$
- C.  $P = \{ Huệ; Thu; Nương; Đào \}; Q = \{ Mai \}$
- D.  $P = \{ Huệ; Thu; Đào \}; Q = \{ Đào; Mai \}$

**Câu 12:** Cho hình vẽ sau:



**Tập hợp C và tập hợp D gồm?**

- A.  $C = \{102; 106\}$  và  $D = \{20; 101; 102; 106\}$
- B.  $C = \{102; 106\}$  và  $D = \{3; 20; 102; 106\}$
- C.  $C = \{102; 106\}$  và  $D = \{3; 20; 101\}$
- D.  $C = \{102; 106\}$  và  $D = \{3; 20; 101; 102; 106\}$

**Đáp án bộ 12 câu hỏi trắc nghiệm Toán 6 Tập hợp. Phần tử của tập hợp**

**1.D 2.D 3.A 4.B 5.D 6.C 7.D 8.D 9.C 10.D 11.B 12.D**

Bên cạnh đó, các em có thể tham khảo thêm tại ngân hàng câu hỏi, bài tập trắc nghiệm Toán 6 khác được biên soạn đầy đủ tại chuyên trang của chúng tôi.