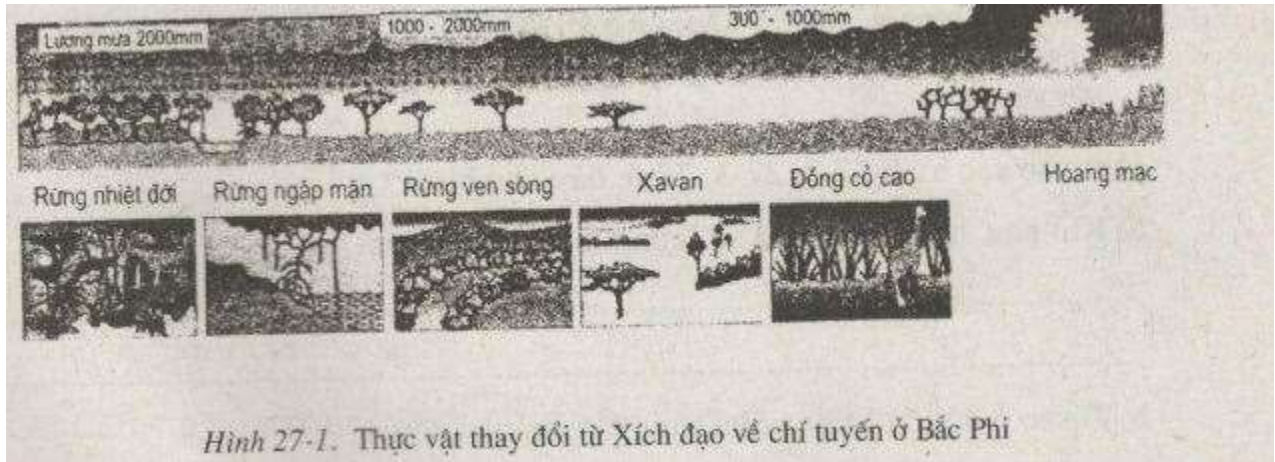


**Bài 27: Lớp vỏ sinh vật. Các nhân tố ảnh hưởng đến sự phân bố thực, động vật trên Trái Đất** có đáp án và lời giải hay cho các câu hỏi trong sách bài tập môn Địa lớp 6. Hỗ trợ học sinh ôn tập, nắm chắc phương pháp giải các dạng bài tập. Nội dung chi tiết học sinh xem tại đây.

**Bài 1 sách bài tập Địa Lý 6**

Quan sát hình 27-1. hãy cho biết



Hình 27-1. Thực vật thay đổi từ Xích đạo về chí tuyến ở Bắc Phi

- a) Ở đây, những yếu tố nào đã ảnh hưởng đến sự phân bố thực vật?
- b) Yếu tố khí hậu đã làm cho thực vật thay đổi như thế nào?

**Trả lời**

- a) Những yếu tố đã ảnh hưởng đến sự phân bố thực vật: Khí hậu, Lượng mưa, Nhiệt độ, Địa hình
- b) Yếu tố khí hậu đã làm thay đổi thực vật:

- Nhiệt độ: Nơi có nhiệt độ thích hợp, sinh vật sẽ phát triển nhanh và thuận lợi hơn.
- Nước và độ ẩm không khí: Những nơi có điều kiện nhiệt, ẩm và nước thuận lợi như các vùng xích đạo, nhiệt đới ẩm, cận nhiệt ẩm, ôn đới ẩm và ẩm là những môi trường tốt để sinh vật phát triển. Trái lại, ở hoang mạc do khô khan nên ít loài sinh vật có thể sinh sống ở đây.
- Ánh sáng quyết định quá trình quang hợp của cây xanh. Những cây ưa sáng thường sống và phát triển tốt ở nơi có đầy đủ ánh sáng. Những cây chịu bóng thường sống trong bóng râm, dưới tán lá của các cây khác.

**Bài 2 sách bài tập Địa Lý 6**

Cho biết các câu dưới đây đúng hay sai

- a) Các lớp nước, không khí và đất đá tạo thành một lớp vỏ mới liên tục quanh Trái Đất gọi là sinh vật.
- b) Đất là yếu tố tự nhiên có ảnh hưởng rõ rệt đến sự phân bố thực vật.

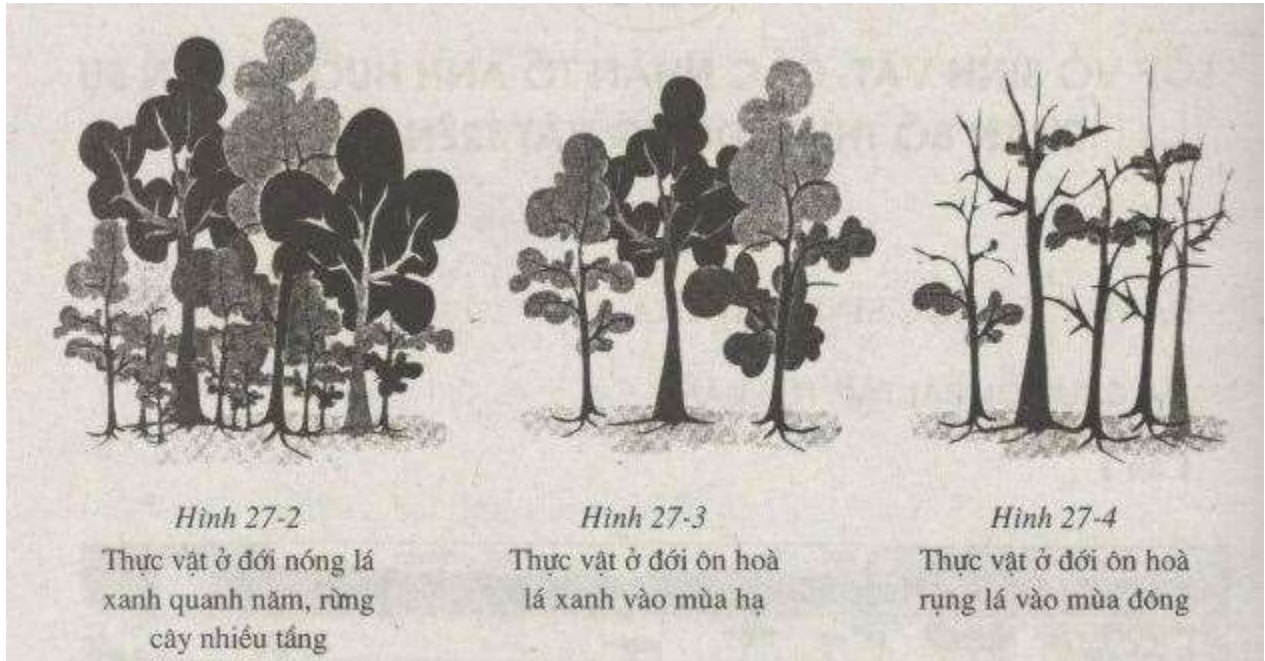
**Trả lời**

a) Đúng

b) Sai

**Bài 3 sách bài tập Địa Lý 6**

Dựa vào các hình 27-2, 27-3, 27-4, hãy cho biết



a) Khí hậu ảnh hưởng đến số lượng thực vật như thế nào?

b) Vì sao ở đới ôn hoà cây lại rụng lá vào mùa đông?

c) Vì sao ở đới nóng cây lại có lá xanh quanh năm?

**Trả lời**

a) Khí hậu ảnh hưởng đến số lượng thực vật

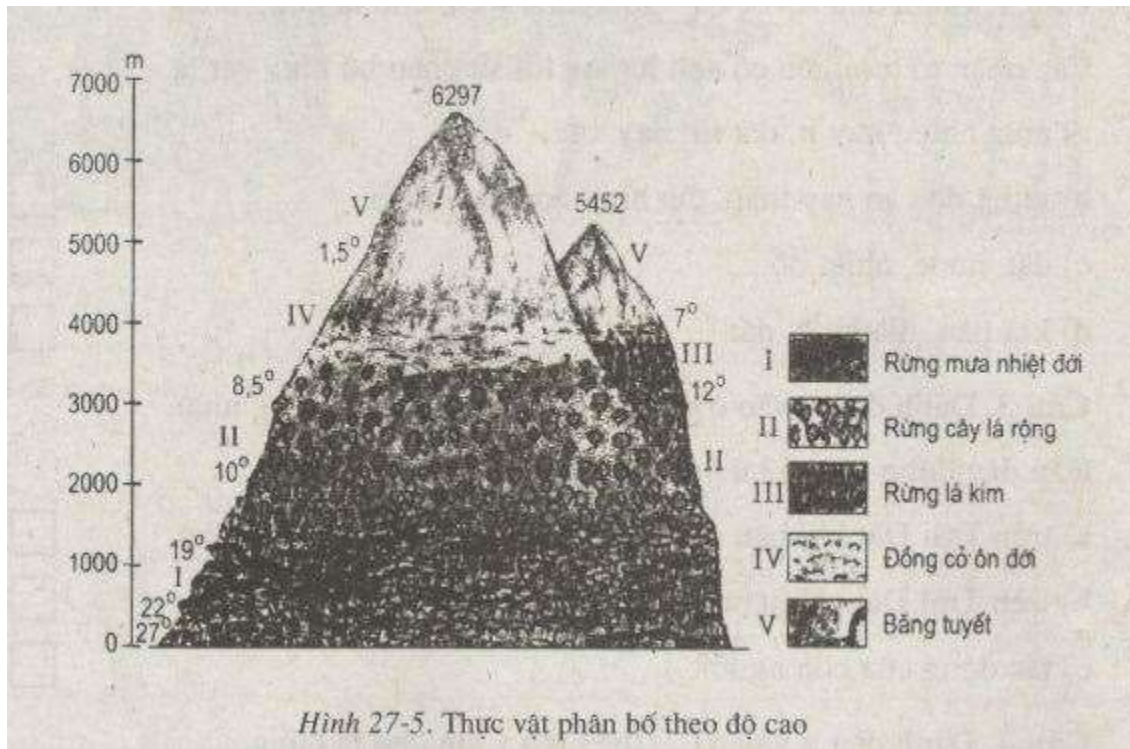
- Khí hậu ở đới nóng: Thực vật nhiều, đa dạng, xanh quanh năm, rừng cây nhiều tầng.
- Khí hậu ở đới ôn hòa: Thực vật thưa thớt.

b) Ở đới ôn hoà cây lại rụng lá vào mùa đông do Mùa đông ở đới ôn hòa lạnh, có tuyết, lượng mưa ít, nhiệt độ thấp làm cho cây cối khó phát triển do đó cây ở đới ôn hoà cây lại rụng lá.

c) Ở đới nóng cây lại có lá xanh quanh năm vì ở đới nóng có lượng mưa dồi dào, nhiệt độ cao, độ ẩm cao là môi trường thuận lợi cho cây phát triển nên cây có lá xanh quanh năm.

**Bài 4 sách bài tập Địa Lý 6**

Quan sát hình 27-5, hãy cho biết



Hình 27-5. Thực vật phân bố theo độ cao

- Nhân tố nào ảnh hưởng đến sự phân bố thực vật?
- Sự phân bố của thực vật thay đổi cụ thể như thế nào?
- Vì sao có sự thay đổi như vậy?

**Trả lời**

- Nhân tố nào ảnh hưởng đến sự phân bố thực vật: *Khí hậu, nhiệt độ, lượng mưa, địa hình*
- Sự phân bố của thực vật thay đổi cụ thể
  - Thực vật chân núi: Rừng lá rộng
  - Thực vật sườn núi: rừng lá hỗn hợp
  - Thực vật sườn cao gần đỉnh: rừng lá kim
- Sở dĩ có sự thay đổi như vậy là do sự thay đổi theo độ cao hay sự thay đổi theo địa hình.
  - Chân núi khí hậu mát mẻ, độ ẩm cao thuận lợi cho thực vật phát triển
  - Càng lên cao, nhiệt độ càng giảm, độ ẩm thấp, nắng nóng, khô hạn gây khó khăn cho sự phát triển của thực vật.

**Bài 5 sách bài tập Địa Lý 6**

Đánh dấu X vào ô vuông thể hiện ý em cho là đúng nhất.

Các nhân tố tự nhiên có ảnh hưởng tới sự phân bố thực vật là

- mưa nhiều hay ít, đất tốt hay xấu.

- b) nhiệt độ cao hay thấp, địa hình dốc hay thoải.
- c) đất, nước, nhiệt độ,
- d) khí hậu, địa hình, đất.

**Trả lời:** Chọn ý d)

### **Bài 6 sách bài tập Địa Lý 6**

Đánh dấu X vào ô vuông thể hiện ý em cho là đúng nhất.

Gần đây động vật có xu hướng giảm nhanh là do

- a) trên Trái Đất khí hậu có xu hướng ngày càng nóng và khô.
- b) trên Trái Đất nhiều nơi xảy ra cháy rừng.
- c) tác động của con người.

**Trả lời:** Chọn ý c)

### **Bài 7 sách bài tập Địa Lý 6**

Đánh dấu X vào ô vuông thể hiện ý em cho là đúng.

Động vật ở một quốc gia (một khu vực) phong phú hay không tùy thuộc vào

- a) khí hậu thuận lợi hay khắc nghiệt.
- b) thực vật (rừng) nhiều hay ít.
- c) con người có ý thức bảo vệ và phát triển chúng hay không
- d) lượng giống loài hiện có.

**Trả lời:** C

### **Bài 8 sách bài tập Địa Lý 6**

Cho biết câu dưới đây đúng hay sai.

Các nhân tố ảnh hưởng đến sự phân bố thực vật là : khí hậu, địa hình, đất đai, bờ biển, mưa, con người,...

**Trả lời:** Đúng