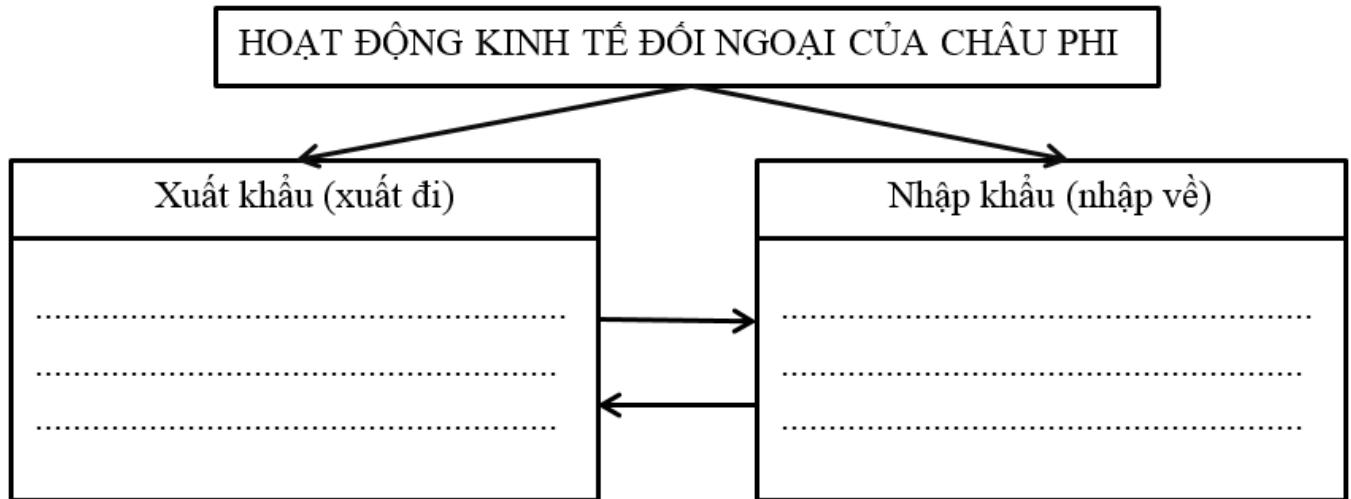
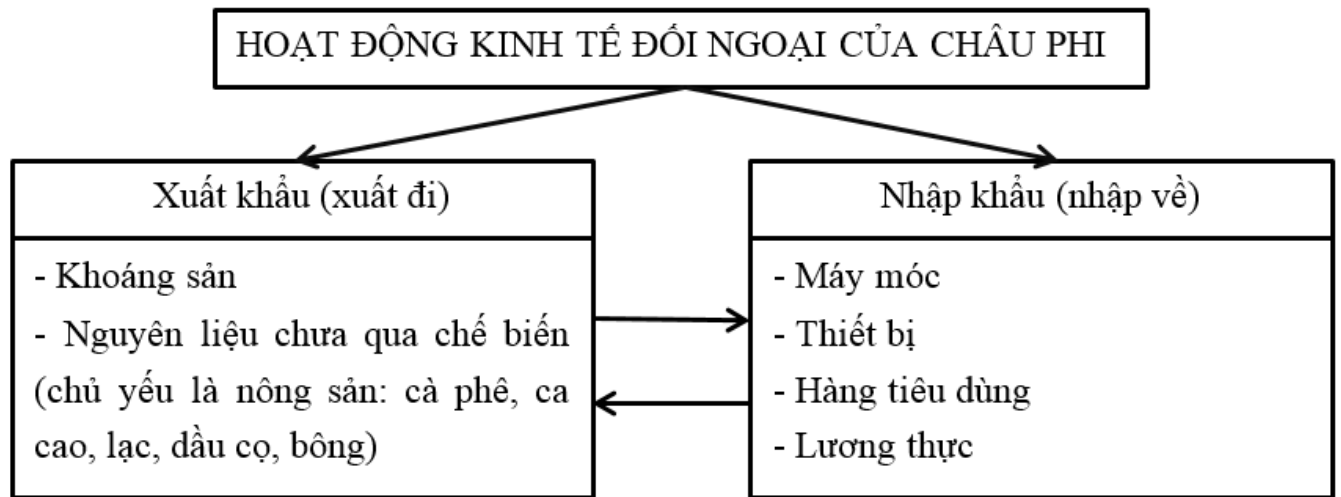


Bài 1 trang 26 Tập bản đồ Địa Lí 7:

Dựa vào nội dung SGK, em hãy điền tiếp nội dung phù hợp vào sơ đồ dưới đây:



Lời giải:



Bài 2 trang 26 Tập bản đồ Địa Lí 7:

Bên cạnh hoạt động xuất, nhập khẩu thì nguồn thu ngoại tệ lớn ở châu Phi là những hoạt động nào?

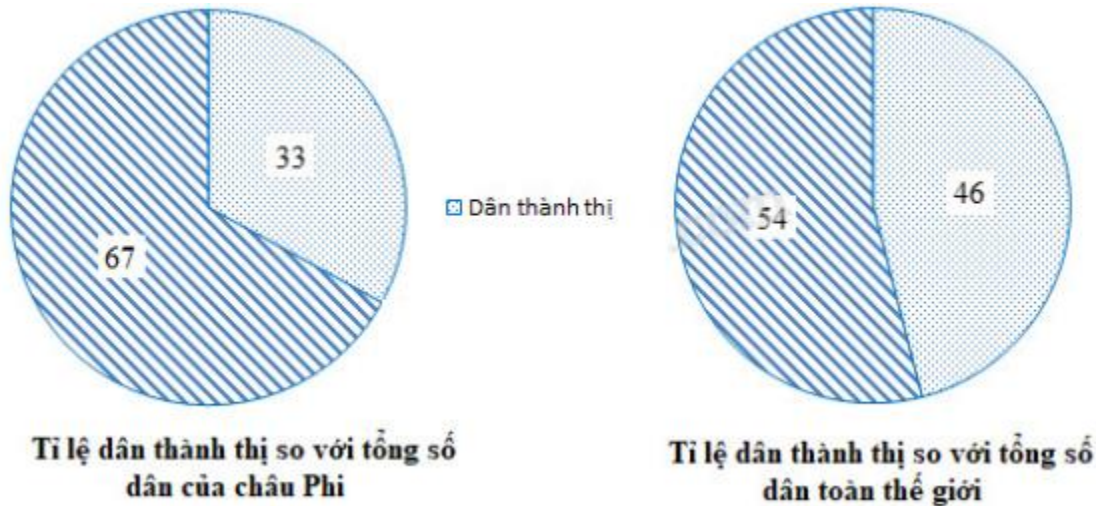
Lời giải:

Bên cạnh hoạt động xuất, nhập khẩu thì nguồn thu ngoại tệ lớn ở châu Phi là: hoạt động du lịch, giao thông vận tải (điển hình là nguồn thu lệ phí đi qua kênh đào Xuy-ê ở Ai Cập).

**Bài 3 trang 26 Tập bản đồ Địa Lí 7:**

Dựa vào số liệu đã cho về tỉ lệ dân thành thị của châu Phi: 33% và của thế giới: 46%, hãy vẽ biểu đồ tròn để thấy rõ tỉ lệ dân thành thị so với tổng số dân.

**Lời giải:**



**Bài 4 trang 26 Tập bản đồ Địa Lí 7:**

Hãy nêu những hậu quả của việc di dân ồ ạt từ nông thôn vào thành phố và tốc độ đô thị hóa quá nhanh ở châu Phi?

**Lời giải:**

Hậu quả của việc di dân ồ ạt từ nông thôn vào thành phố và tốc độ đô thị hóa quá nhanh ở châu Phi:

- Tạo sức ép lớn đối với vấn đề việc làm, môi trường và không gian đô thị:
- + Tỉ lệ thất nghiệp cao
- + Ô nhiễm môi trường đô thị: ô nhiễm không khí, ô nhiễm nước,...
- + Xuất hiện nhiều khu nhà ổ chuột quanh các thành phố, nhiều người vô gia cư.
- Điều kiện sống không đảm bảo: thiếu chỗ ở, thiếu nước sạch,... dễ lây lan dịch bệnh.
- Gia tăng các tệ nạn xã hội

- Trật tự an ninh xã hội không đảm bảo,...