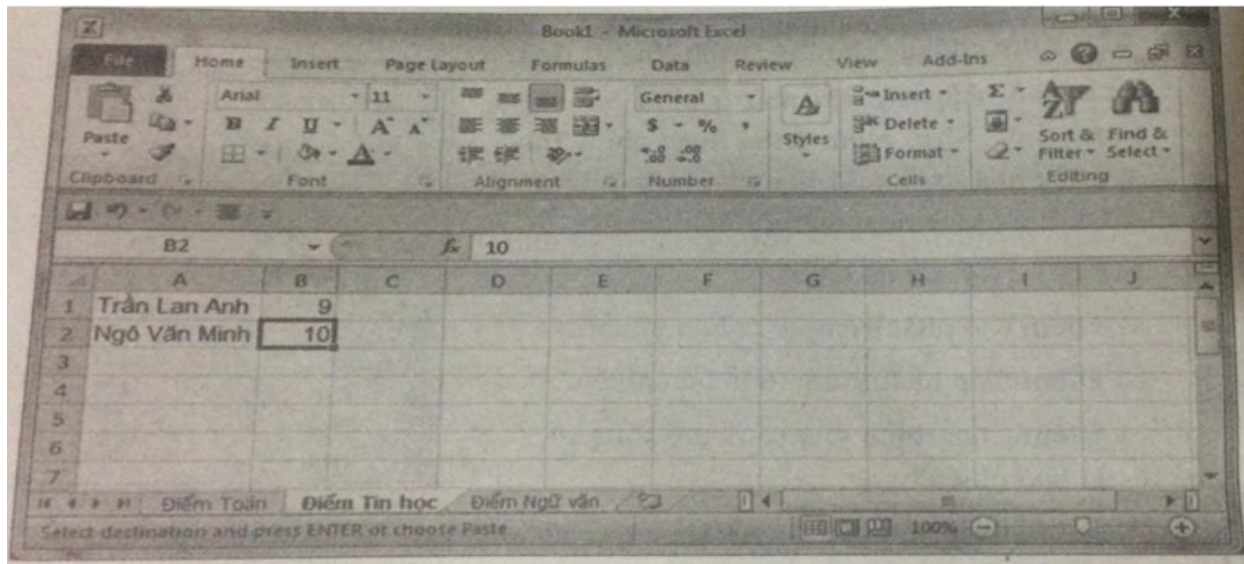


Mời các em học sinh và quý thầy cô tham khảo ngay hướng dẫn giải sách bài tập Tin học lớp 7
 Bài 2: Các thành phần chính và dữ liệu trên trang tính (Quyển 2) đầy đủ và rõ ràng dưới đây.

Bài 1 trang 10 SBT Tin học 7

Bảng tính trên hình 1.5 có những trang tính nào ? Trang tính nào đang được kích hoạt ? Trên trang tính đó , ô nào đang được kích hoạt ?



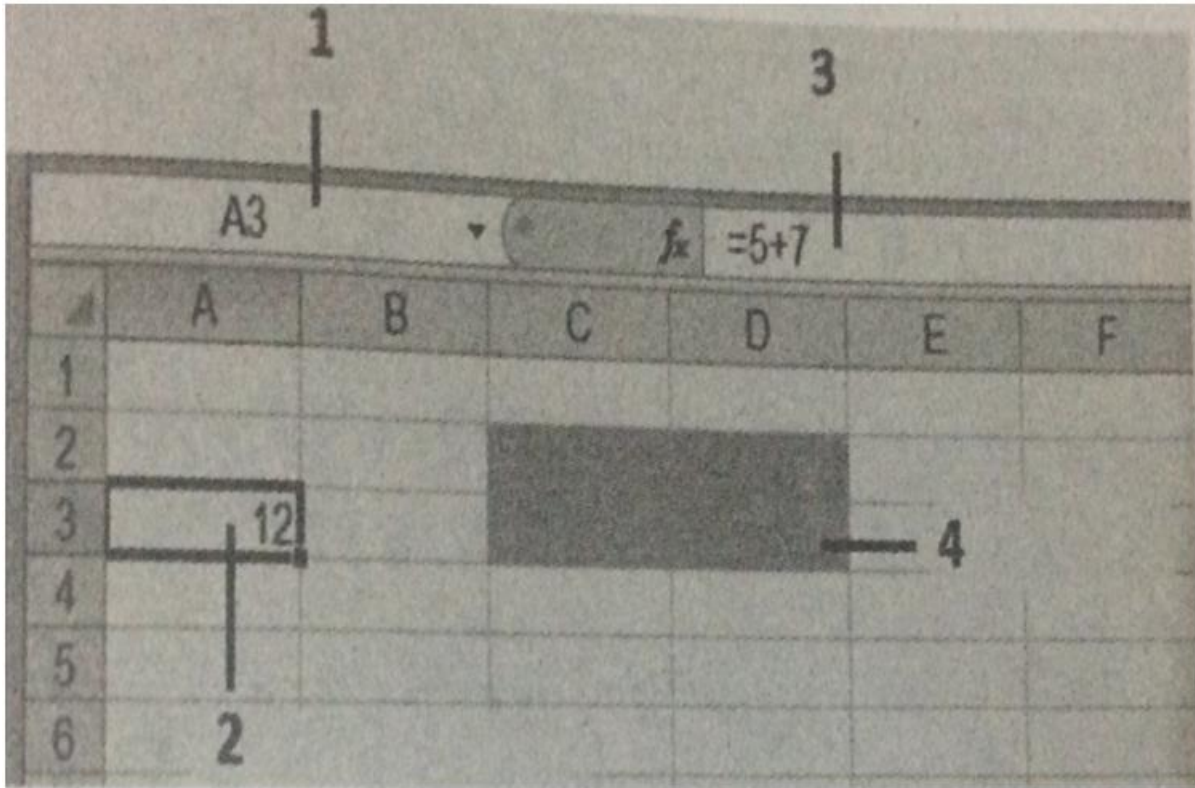
Hình 1.5

Lời giải:

Bảng tính trên hình 1.5 có các trang tính sau: Điểm Toán, Điểm Tin học , Điểm Ngữ văn, trong đó Điểm Tin học là trang tính đang được kích hoạt. Ô tính đang được kích hoạt là ô B2.

Bài 2 trang 11 SBT Tin học 7

Hộp tên là thành phần được đánh số mấy trong hình 1.6 ?



Hình 1.6

Lời giải:

Hộp tên là thành phần được đánh số 1 trên hình.

Bài 3 trang 11 SBT Tin học 7

Giả sử trên màn hình ta không nhìn thấy ô nào đang được kích hoạt (có viền đậm bao quanh).

Em có thể dựa vào thông tin nào khác để biết địa chỉ của ô đang được kích hoạt không ?

Lời giải:

Có. Quan sát hộp tên ở góc trên , bên trái trang tính ta có thể biết được địa chỉ của ô đang được kích hoạt.

Bài 4 trang 11 SBT Tin học 7

Giả sử trong hộp tên có nội dung “F5” (). Điều đó có nghĩa là : (A) Phím chức năng F5; (B)

Phông chữ hiện thời là F5 (C) Ô ở cột F hàng 5 đang được chọn; (D) Ô ở hàng F cột 5 đang được

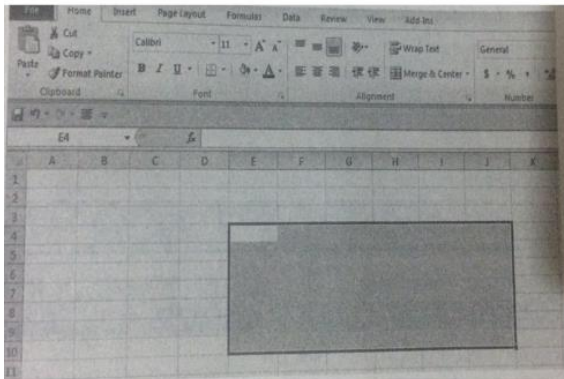
chọn.

Lời giải:

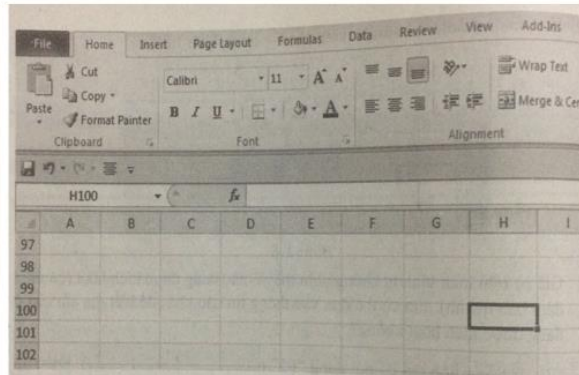
Đáp án: C

Bài 5 trang 11 SBT Tin học 7

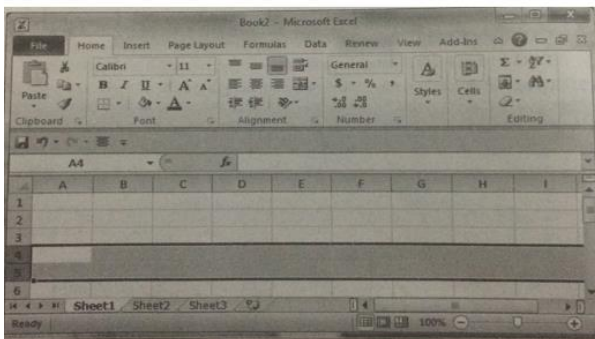
Trong mỗi hình dưới đây các ô tính nào đang được chọn ?



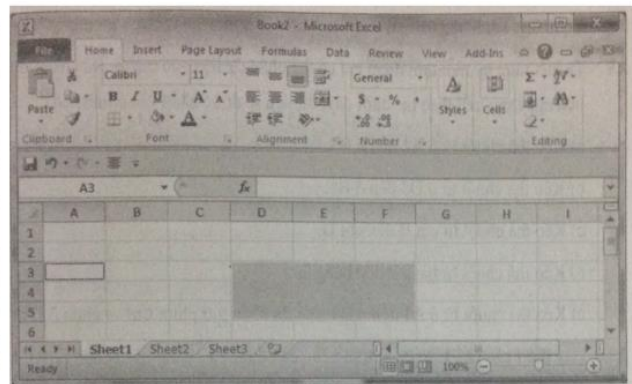
Hình 1.7a



Hình 1.7b



Hình 1.7c



Hình 1.7d

Lời giải:

Hình 1.7a: Khối E4:J10; Hình 1.7b: Ô H100;

Hình 1.7c : các hàng 4 và 5; Hình 1.7d: Ô A3 và khối D3:F5.

Bài 6 trang 13 SBT Tin học 7

Những phát biểu sau đúng hay sai ? Cho biết ý kiến của em bằng cách đánh dấu (x) vào ô (Đúng hay Sai) tương ứng.

Đúng	Sai
-------------	------------

- [] [] a) Khối C6 :D9 khác với khối C9: D6
- [] [] b) Hộp tên cho biết nội dung ô hiện đang được kích hoạt
- [] [] c) Thanh công cụ cho biết nội dung ô hiện đang được kích hoạt .
- [] [] d) Một khối phải có nhiều hơn một ô.

Lời giải:

a) Sai; b) Sai; c) Đúng; d) Sai.

Bài 7 trang 13 SBT Tin học 7

Hãy cho biết các cách để chọn các ô và các khối sau đây (nêu cả cách dùng bàn phím và cách dùng chuột):

Để chọn ô (hoặc các ô)	Dùng chuột	Dùng bàn phím (Gõ vào hộp tên rồi ấn phím Enter)
A1	Nháy đúp chuột vào ô A1	A1
A1,B1		
A1,A2,A3		
A1,B3		
A1,A2,B1,B2		

Lời giải:

Để chọn ô (hoặc các ô)	Dùng chuột	Dùng bàn phím (Gõ vào hộp tên rồi ấn phím Enter)
A1	Nháy đúp chuột vào ô A1	A1
A1,B1	Kéo thả chuột từ ô A1	A1:B1

	đến ô B1	
A1,A2,A3	Kéo thả chuột từ ô A1 đến ô A3	A1:A3
A1,B3	Nháy chuột vào ô A1, nhấn giữ phím Ctrl và nháy chuột vào ô B3	A1,B3
A1,A2,B1,B2	Kéo thả chuột từ ô A1 đến ô B2	A1:B2