
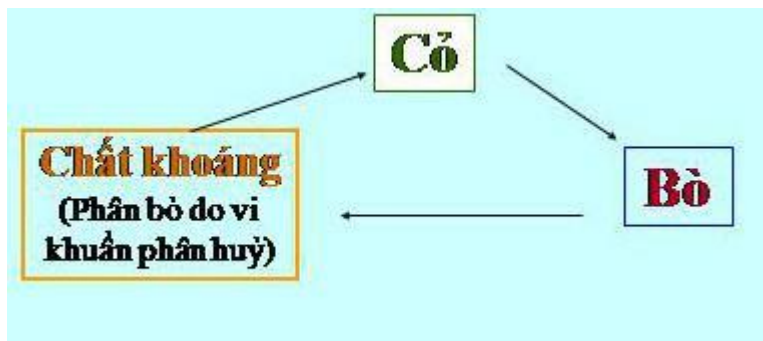


Thực hành (SGK Khoa học 4 tập 2 trang 132)

Dựa vào hình 1 để xây dựng sơ đồ (bằng chữ và mũi tên) chỉ ra mối quan hệ qua lại giữa cỏ và bò trong một bãi chăn thả bò.




Trả lời:

**Quan sát và trả lời (SGK Khoa học 4 tập 2 trang 132)**

- Chỉ ra mối quan hệ về thức ăn trong tự nhiên qua sơ đồ sau

Trả lời:



Cỏ là thức ăn của thỏ, thỏ là thức ăn của cáo, xác chết của cáo được vi khuẩn phân hủy thành chất khoáng, chất khoáng này được rễ cỏ hút để nuôi cây

Liên hệ thực tế và trả lời (SGK Khoa học 4 tập 2 trang 132)

Nêu một số ví dụ khác về chuỗi thức ăn.

Trả lời:

Ví dụ:

