

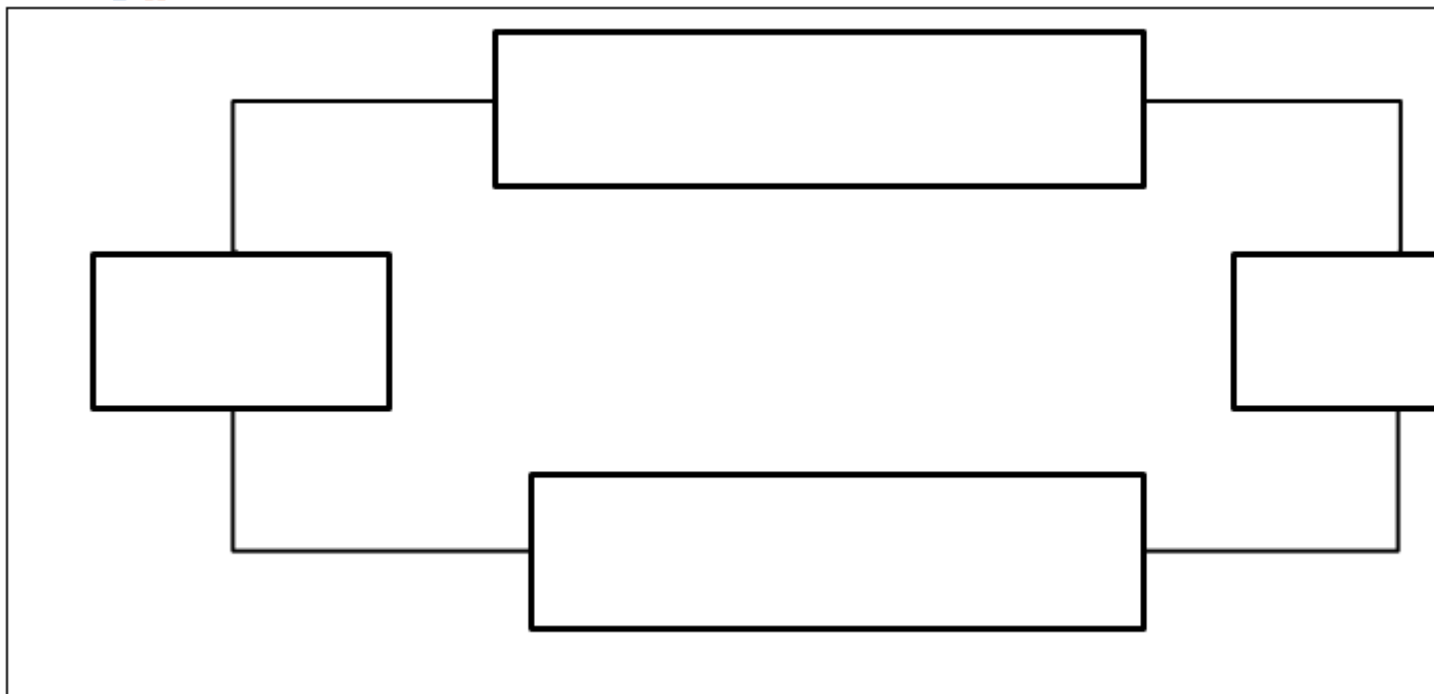
Nội dung bài viết

1. [Bài 1 trang 64 Tập bản đồ Địa Lí 10](#)
2. [Bài 2 trang 64 Tập bản đồ Địa Lí 10](#)
3. [Bài 3 trang 65 Tập bản đồ Địa Lí 10](#)
4. [Bài 4 trang 65 Tập bản đồ Địa Lí 10](#)

Mời các em học sinh tham khảo ngay nội dung hướng dẫn soạn **Tập bản đồ Địa Lí 10 Bài 43: Địa lí ngành thương mại** được bày chi tiết, dễ hiểu nhất dưới đây sẽ giúp bạn đọc hiểu rõ hơn về bài học này, từ đó chuẩn bị tốt cho tiết học sắp tới nhé.

Bài 1 trang 64 Tập bản đồ Địa Lí 10

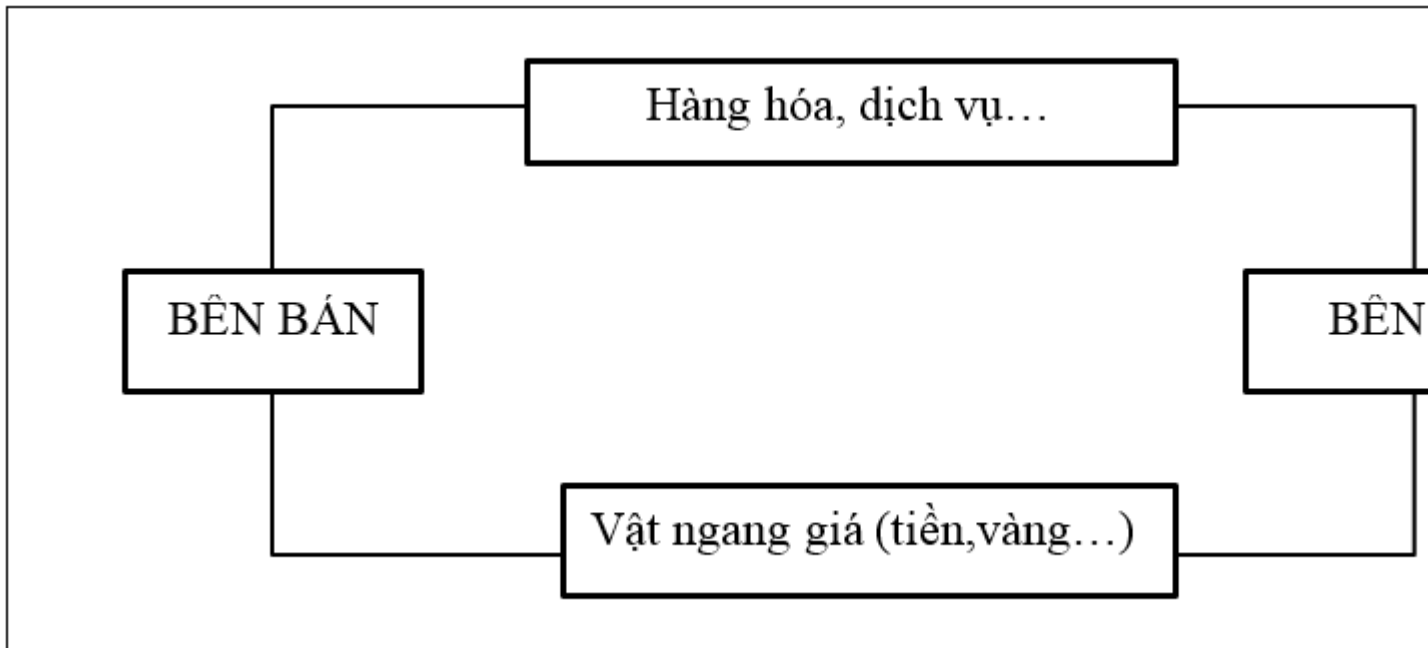
Hoàn thành sơ đồ về hoạt động của thị trường và nêu khái niệm đơn giản về thị trường:



* Khái niệm

Trả lời:

* Sơ đồ



* Khái niệm: Thị trường là nơi gặp gỡ giữa người bán (bên bán) và người mua (người mua).

Bài 2 trang 64 Tập bản đồ Địa Lí 10

Thương mại là gì? Vai trò của thương mại đối với phát triển kinh tế - xã hội của đất nước.

* Khái niệm

* Vai trò

Trả lời:

* Khái niệm: Thương mại là khâu nối giữa sản xuất và tiêu dùng.

* Vai trò:

- Nối liền sản xuất với tiêu dùng
- Điều tiết sản xuất
- Hướng dẫn tiêu dùng

Bài 3 trang 65 Tập bản đồ Địa Lí 10

Phân biệt cán cân xuất nhập khẩu và cơ cấu xuất nhập khẩu.

* Cán cân xuất nhập khẩu:

* Cơ cấu xuất nhập khẩu

Trả lời:

* Cán cân xuất nhập khẩu: Là hiệu số giữa giá trị xuất khẩu và giá trị nhập khẩu.

* Cơ cấu xuất nhập khẩu: Là tỉ trọng giá trị của các mặt hàng xuất, nhập khẩu trong tổng giá trị xuất, nhập khẩu.

Bài 4 trang 65 Tập bản đồ Địa Lí 10

Dựa vào bảng số liệu sau về giá trị xuất khẩu và dân số năm 2008 của Hoa Kỳ, Trung Quốc và Cộng hòa Liên Bang Đức.

Tên nước	Giá trị xuất khẩu (tỉ USD)	Dân số (Triệu người)	Giá trị xuất khẩu bình quân đầu người (USD/người)
Hoa Kỳ	1287,4	304,5	
Trung Quốc	1428,3	1324,7	
CHLB Đức	1461,9	82,2	

* Tính giá trị xuất nhập khẩu bình quân đầu người của 3 nước

* Vẽ biểu đồ hình cột thể hiện giá trị xuất khẩu/người.

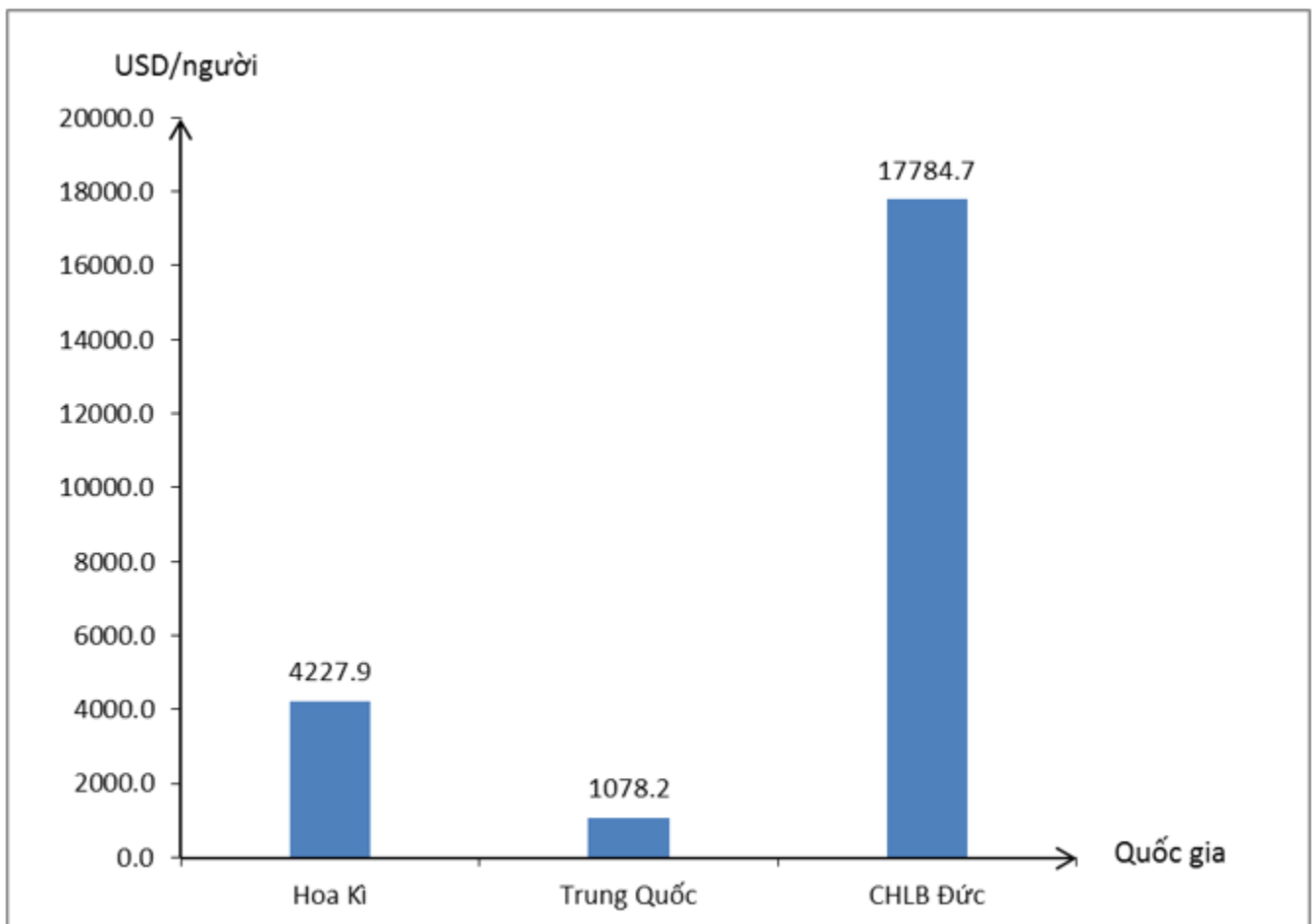
Trả lời:

* Tính giá trị xuất nhập khẩu bình quân đầu người của 3 nước

Tên nước	Giá trị xuất khẩu (tỉ USD)	Dân số (Triệu người)	Giá trị xuất khẩu bình quân đầu người (USD/người)
Hoa Kỳ	1287,4	304,5	
Trung Quốc	1428,3	1324,7	
CHLB Đức	1461,9	82,2	

Hoa Kỳ	1287,4	304,5	4227,9
Trung Quốc	1428,3	1324,7	1078,2
CHLB Đức	1461,9	82,2	17784,7

* Vẽ biểu đồ hình cột thể hiện giá trị xuất khẩu/người.



Biểu đồ giá trị xuất nhập khẩu bình quân đầu người của một số quốc gia

►► **CLICK NGAY** vào đường dẫn dưới đây để **TẢI VỀ** lời giải **Tập bản đồ Địa Lí 10 Bài 43: Địa lí ngành thương mại** lớp 10 chi tiết, đầy đủ nhất file word, file pdf hoàn toàn miễn phí từ chúng tôi, hỗ trợ các em ôn luyện giải đề đạt hiệu quả nhất.

