

Nội dung bài viết

1. [Bài 1 trang 33 Tập bản đồ Lịch Sử 11](#)
2. [Bài 2 trang 33 Tập bản đồ Lịch Sử 11](#)
3. [Bài 3 trang 33 Tập bản đồ Lịch Sử 11](#)
4. [Bài 4 trang 34 Tập bản đồ Lịch Sử 11](#)
5. [Bài 5 trang 34 Tập bản đồ Lịch Sử 11](#)
6. [Bài 6 trang 35 Tập bản đồ Lịch Sử 11](#)
7. [Bài 7 trang 35 Tập bản đồ Lịch Sử 11](#)
8. [Bài 8 trang 35 Tập bản đồ Lịch Sử 11](#)

Mời các em học sinh và quý thầy cô cùng tham khảo hướng dẫn giải **Tập bản đồ Lịch Sử lớp 11 Bài 19: Nhân dân Việt Nam kháng chiến chống Pháp xâm lược (Từ năm 1858 đến trước năm 1873)** được đội ngũ chuyên gia biên soạn chi tiết và rõ ràng tại đây.

### ***Bài 1 trang 33 Tập bản đồ Lịch Sử 11***

Quan sát lược đồ Việt Nam thế kỉ XIX, kết hợp với nội dung bài học trong SGK, em hãy:

- Mô tả tình hình nước ta từ giữa thế kỉ XIX đến trước khi bị thực dân Pháp xâm lược (về chính trị, kinh tế, xã hội)
- Điền tên các thủ lĩnh: Phan Bá Vành, Lê Duy Lương, Lê Văn Khôi, Nông Văn Vân, Cao Bá Quát vào lược đồ bên sao cho đúng nơi nổ ra các cuộc khởi nghĩa.

**Lời giải:**



**Bài 2 trang 33 Tập bản đồ Lịch Sử 11**

Xác định vị trí và ghi tên địa danh Đà Nẵng vào lược đồ trên. Giải thích vì sao quân Pháp và Tây Ban Nha lại chọn đây là mục tiêu tấn công đầu tiên?

**Lời giải:**

Quân Pháp và Tây Ban Nha lại chọn đây là mục tiêu tấn công đầu tiên vì:

- Đà Nẵng có cửa biển rộng lớn, Pháp và Tây Ban Nha có thể dễ dàng đưa chiến thuyền lớn vào.
- Vị trí địa lí quan trọng, gần Kinh thành Huế.

**Bài 3 trang 33 Tập bản đồ Lịch Sử 11**

Dựa vào nội dung SGK, em hãy mô tả ngắn gọn cuộc kháng chiến của quân ta trên mặt trận Đà Nẵng năm 1858.

**Lời giải:**

- 1/09/1858: Liên quân Pháp – Tây Ban Nha bắt đầu tấn công lên bán đảo Sơn Trà, Đà Nẵng.
- Quân dân ta anh dũng chống trả suốt 5 tháng.
- Về sau, quân Tây Ban Nha rút khỏi cuộc xâm lược.

**Bài 4 trang 34 Tập bản đồ Lịch Sử 11**

Hãy cho biết tại sao thực dân Pháp lại thất bại trong âm mưu đánh nhanh thắng nhanh tại mặt trận Đà Nẵng?

**Lời giải:**

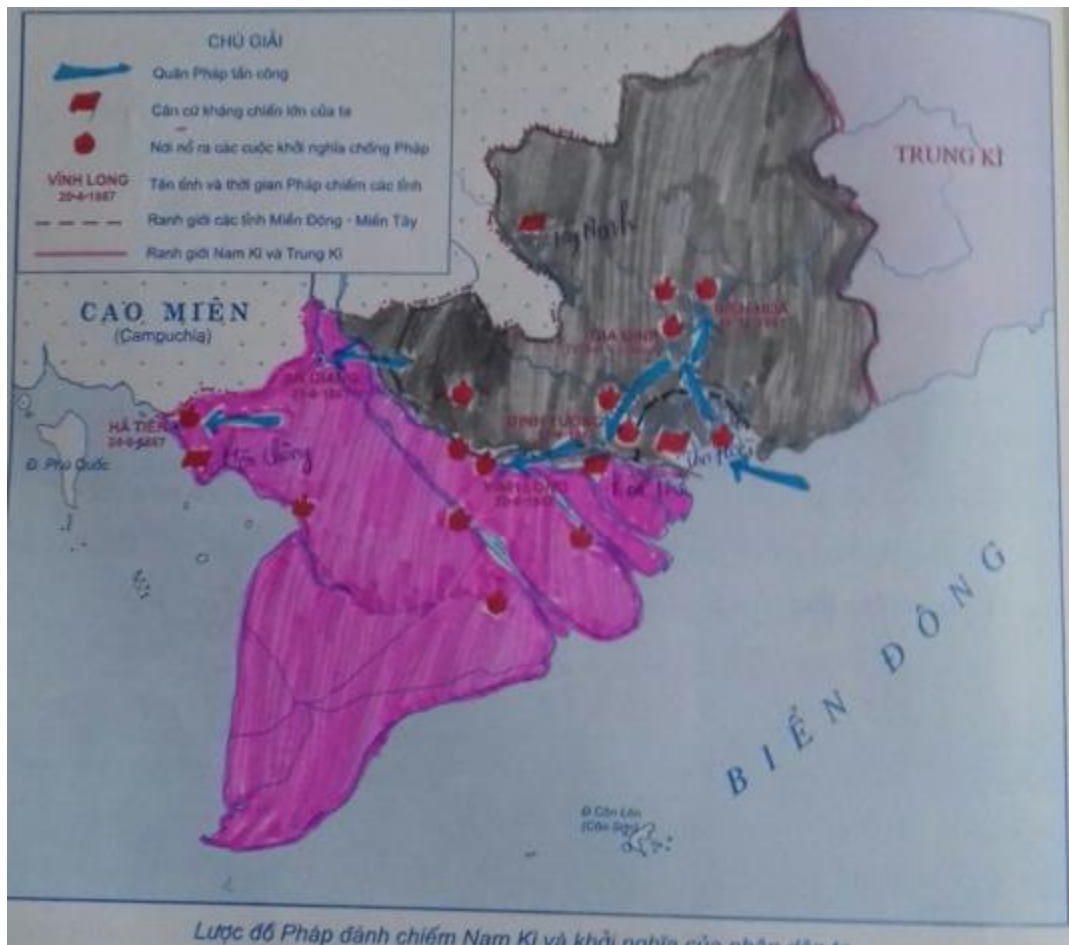
- Do quân dân ta anh dũng chống trả.

**Bài 5 trang 34 Tập bản đồ Lịch Sử 11**

Dựa vào hình 52 trong SGK và nội dung bài học, em hãy dùng bút chì màu hoàn thành lược đồ dưới đây bằng cách:

- Tô màu xanh xẫm vào mũi tên, thể hiện quân Pháp đánh chiếm các tỉnh Nam Kỳ.
- Tô màu đỏ vào lá cờ và ghi địa danh, thể hiện căn cứ kháng chiến của nhân dân ta.
- Tô màu đỏ vào ngọn lửa và ghi tên thủ lĩnh, thể hiện những cuộc khởi nghĩa chống Pháp của nhân dân ta.
- Tô màu nâu và hồng, lần lượt vào các tỉnh miền Đông và các tỉnh miền Tây Nam Kỳ.

**Lời giải:**



**Bài 6 trang 35 Tập bản đồ Lịch Sử 11**

Quan sát bức ảnh bên và kết hợp với nội dung SGK, em hãy:

- Cho biết hình ảnh phản ánh sự kiện lịch sử gì? Vào thời gian nào?

**Lời giải:**

- Sự kiện Trương Định nhận phong soái năm 1862.
- Tường thuật và phân tích ngắn gọn sự kiện lịch sử đó.

**Lời giải:**

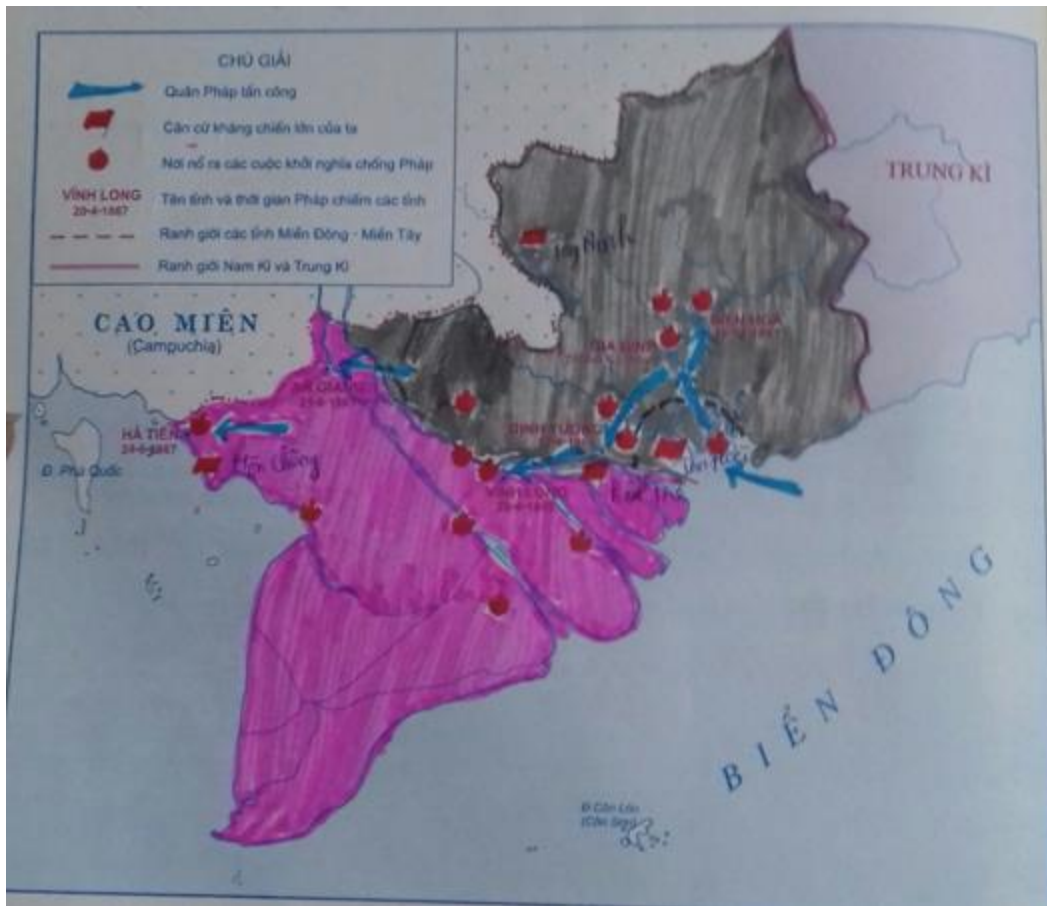
- Được nhân dân phong làm Bình Tây Đại nguyên soái, Trương Định không những không hạ vũ khí theo lệnh triều đình mà hoạt động ngày càng mạnh mẽ.
- Thể hiện tinh thần chiến đấu anh dũng của nhân dân ta để bảo vệ Tổ quốc khi bị xâm lăng.

**Bài 7 trang 35 Tập bản đồ Lịch Sử 11**

Quan sát kĩ hình 52 trong SGK và với kiến thức trong bài học, em hãy:

- Dùng nét trái thể hiện lên lược đồ ở trang trước, cho thấy địa âm hoạt động của nghĩa quân Trương Định.

**Lời giải:**



- Kể những trận đánh lớn của nghĩa quân Trương Định:

**Lời giải:**


Tân Hòa, Tân Phước.

**Bài 8 trang 35 Tập bản đồ Lịch Sử 11**

Quan sát bức chân dung dưới đây và dựa vào nội dung SGK, em hãy:

- Ghi tên nhân vật lịch sử đó vào phía dưới bức chân dung.

**Lời giải:**



- Cho biết vắn tắt thân thế và sự nghiệp của nhân vật.

**Lời giải:**

Nguyễn Hữu Huân đã lãnh đạo phong trào yêu nước của nhân dân 3 tỉnh miền Tây cuối thế kỉ XIX sau khi đi đày ngoài hải đảo. Ông tiếp tục chống Pháp ở Tân An, Mỹ Tho cho đến năm 1857.

►► **CLICK NGAY** vào nút **TẢI VỀ** dưới đây để tải về **Giải Tập bản đồ Lịch sử 11 Bài 19: Nhân dân Việt Nam kháng chiến chống Pháp xâm lược (Từ năm 1858 đến trước năm 1873)** file PDF hoàn toàn miễn phí.