

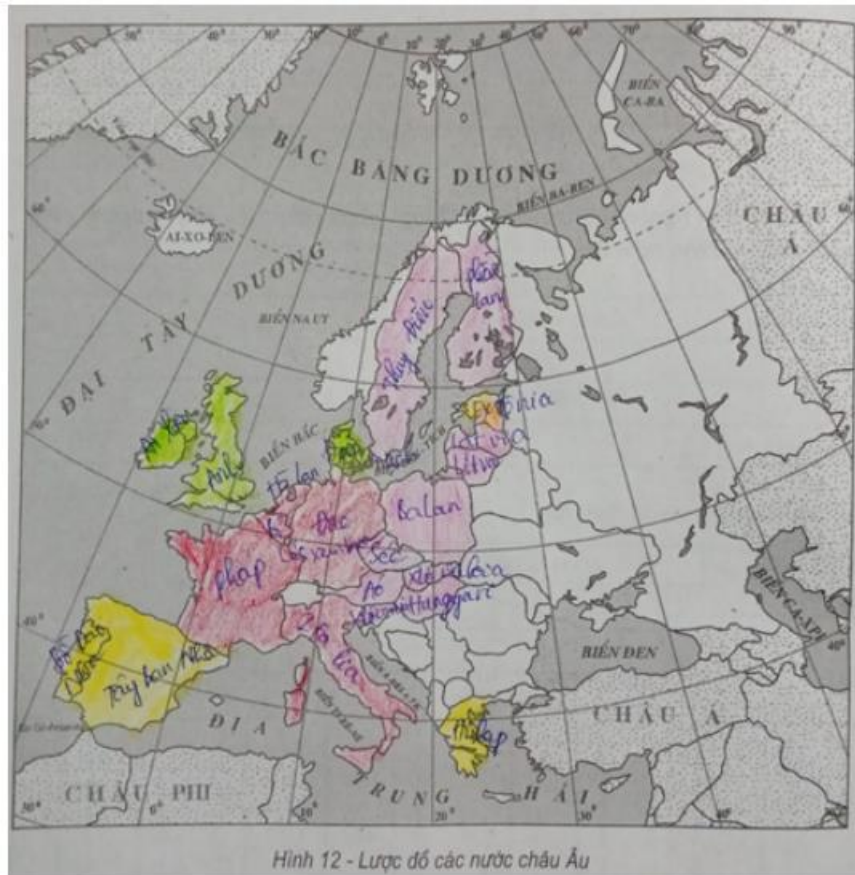
Chúng tôi xin giới thiệu đến học sinh bộ tài liệu giải sách bài tập Địa Lí 7 Bài 60: Liên minh Châu Âu có đáp án và lời giải hay cho các câu hỏi trong sách bài tập môn Địa lớp 7. Hỗ trợ học sinh ôn tập, nắm chắc phương pháp giải các dạng bài tập. Nội dung chi tiết học sinh xem tại đây.

**Bài 1 trang 132 SBT Địa Lí 7**

Dựa vào hình 12 – Lược đồ các nước châu Âu (để trống), em hãy:

- a) Ghi tên các quốc gia thành viên trong Liên minh châu Âu lên lược đồ.
- b) Tô màu đỏ vào 6 nước là thành viên từ năm 1958.
- c) Tô màu xanh vào các nước là thành viên từ năm 1973.
- d) Tô màu vàng vào các nước là thành viên từ năm 1986.
- e) Tô màu hồng vào các nước là thành viên từ năm 1995.

**Lời giải:**

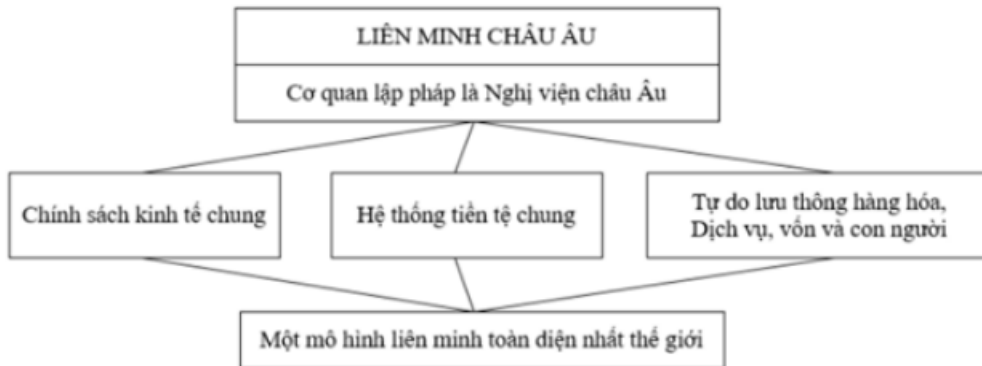


**Bài 2 trang 133 SBT Địa Lí 7**

Dựa vào sơ đồ dưới đây:

Hãy ghi nhận xét của mình về Liên minh châu Âu vào ô trống trong sơ đồ và giải thích cho lời nhận xét đó.

**Lời giải:**



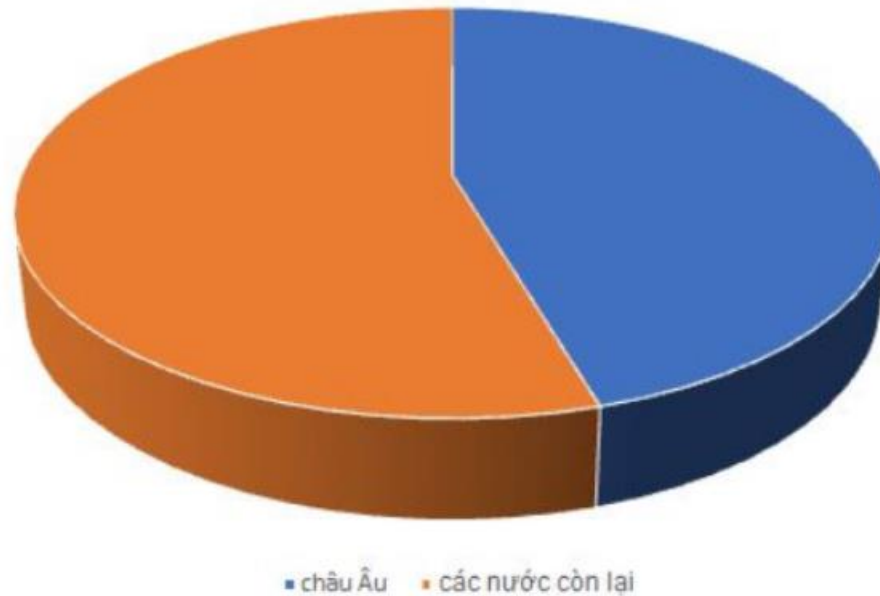
Nhận xét: Liên minh châu Âu – Một mô hình liên minh toàn diện nhất thế giới.

Bởi: Liên minh châu Âu có cơ quan lập pháp và Nghị viện châu Âu, có chính sách kinh tế chung, hệ thống tiền tệ chung, tự do lưu thông hàng hóa, dịch vụ, vốn và con người.

**Bài 3 trang 133 SBT Địa Lí 7**

Hãy hoàn thành biểu đồ để biểu diễn tỉ trọng hoạt động ngoại thương của Liên minh châu Âu so với thế giới.

**Lời giải:**

**Bài 4 trang 133 SBT Địa Lí 7**

Tại sao nói: Liên minh châu Âu là tổ chức thương mại hàng đầu thế giới?

**Lời giải:**

- Đầu tư mạnh vào công nghiệp mới ở các nước châu Á, Trung và Nam Mỹ.
- Liên minh châu Âu chiếm 40% tỉ trọng hoạt động ngoại thương của thế giới.
- Đội ngũ lao động đông đảo, có trình độ văn hóa cao, tay nghề thành thạo và nền khoa học tiên tiến.
- Liên minh châu Âu là khu vực kinh tế lớn của thế giới và không ngừng mở rộng quan hệ kinh tế, văn hóa, xã hội với các nước và tổ chức kinh tế trên thế giới.