

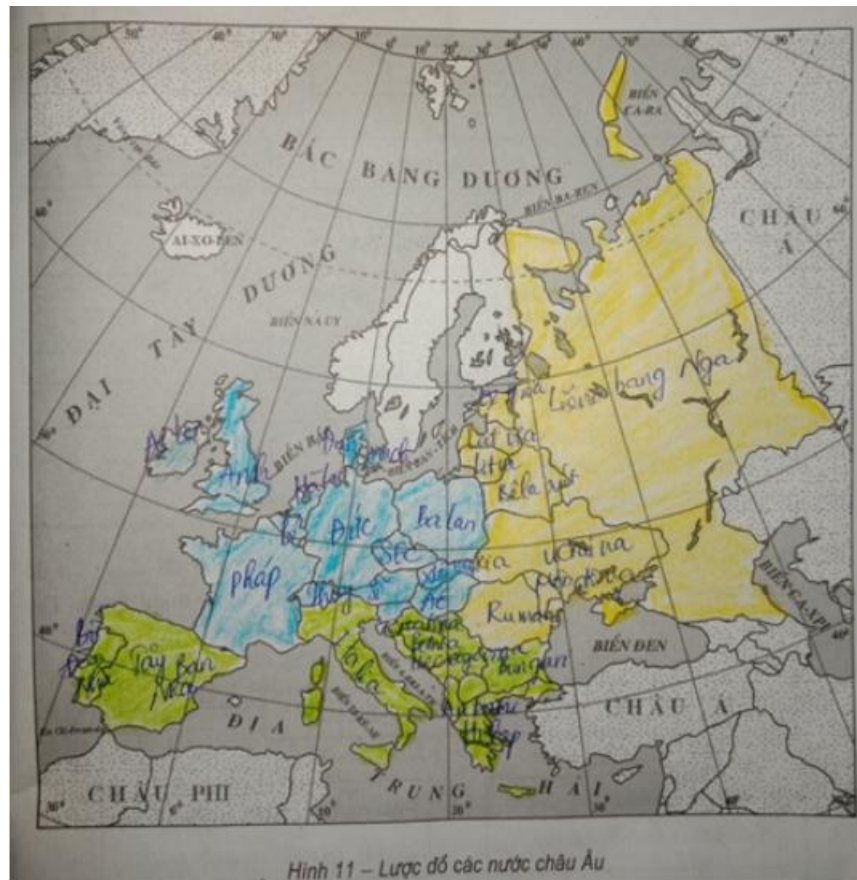
Mời các bạn cùng tham khảo hướng dẫn giải bài tập SBT Địa lý Bài 59: Khu vực Đông Âu lớp 7 được chúng tôi chọn lọc và giới thiệu ngay dưới đây nhằm giúp các em học sinh tiếp thu kiến thức và củng cố bài học của mình và hoàn thành thật tốt các bài kiểm tra, bài thi trong quá trình học tập môn Địa lý.

Bài 1 trang 130 SBT Địa Lí 7

Dựa vào hình 11 (bài 57) em hãy:

- a) Ghi tên các nước ở Đông Âu lên lược đồ.
- b) Tô màu vàng vào các nước này.

Lời giải:



Hình 11 – Lược đồ các nước châu Âu

Bài 2 trang 130 SBT Địa Lí 7

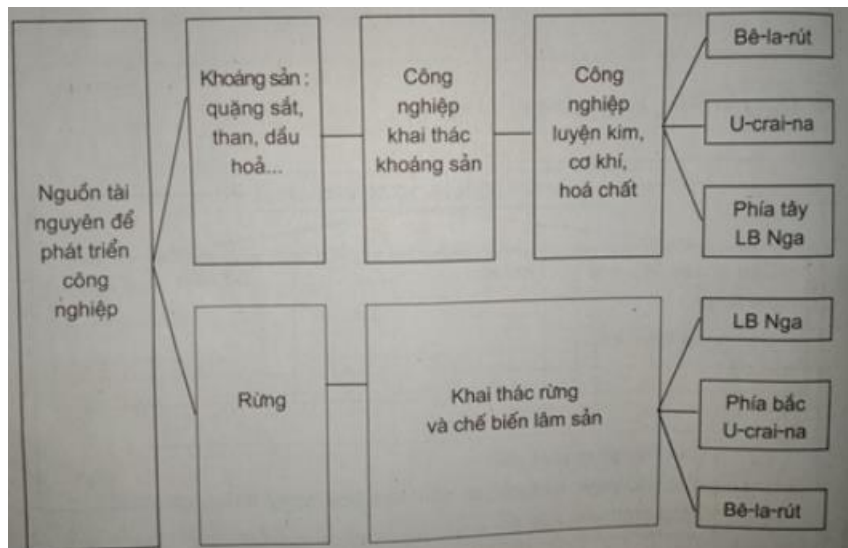
Dựa vào SGK, hoàn thành sơ đồ sau:

Lời giải:



Bài 3 trang 130 SBT Địa Lí 7

Dựa vào sơ đồ dưới đây:



Em hãy:

- Nêu nguồn tài nguyên thiên nhiên để phát triển công nghiệp ở Đông Âu.
- Dựa trên nguồn tài nguyên đó, Đông Âu đã phát triển những ngành công nghiệp nào? Phân bố ở đâu?

Lời giải:

a) Nguồn tài nguyên thiên nhiên để phát triển công nghiệp ở Đông Âu có tài nguyên khoáng sản và tài nguyên rừng.

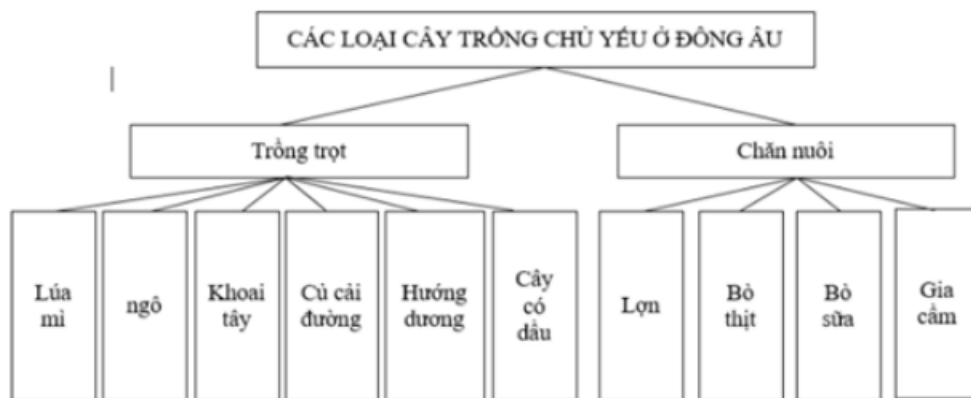
b) - Dựa trên nguồn tài nguyên khoáng sản giàu có về quặng sắt, than, dầu hỏa, đã hình thành các ngành công nghiệp khai khoáng, luyện kim, cơ khí, hóa chất. Các ngành này phân bố ở các nước như: Bê-la-rút, Ucrai-na, phía tây LB Nga.

- Dựa trên nguồn tài nguyên rừng, các nước Đông Âu phát triển ngành khai thác và chế biến lâm sản, phân bố ở các nước như LB Nga, phía bắc Ucrai-na, Bê-la-rút,...

Bài 4 trang 131 SBT Địa Lí 7

Hoàn thành sơ đồ dưới đây:

Lời giải:



Bài 5 trang 131 SBT Địa Lí 7

Cho biết ý kiến của em với câu dưới đây:

- Các con sông lớn ở Đông Âu là: Vôn-ga, Đôn, Đni-ep; chúng có giá trị về giao thông, thủy lợi, đánh cá và khai thác thủy điện.

Lời giải:

Câu trả lời là đúng