

Chúng tôi xin giới thiệu đến học sinh bộ tài liệu giải sách bài tập Địa Lí 7 Bài 57: Khu vực Tây và Trung Âu có đáp án và lời giải hay cho các câu hỏi trong sách bài tập môn Địa lớp 7. Hỗ trợ học sinh ôn tập, nắm chắc phương pháp giải các dạng bài tập. Nội dung chi tiết học sinh xem tại đây.

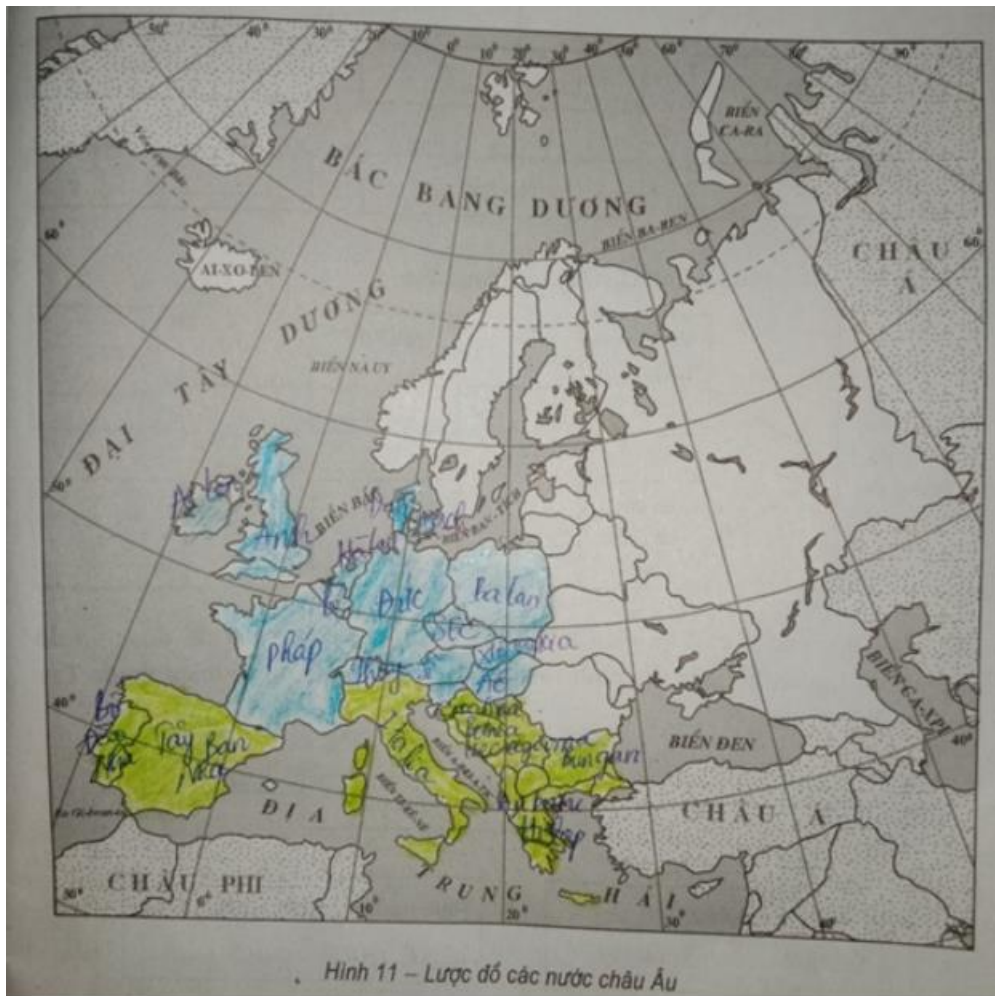
**Bài 1 trang 125 SBT Địa Lí 7**

Dựa vào hình 11 dưới đây:

Em hãy điền tên các nước ở Tây và Trung Âu lên lược đồ.

**Lời giải:**

Các nước Tây và Trung Âu được tô màu xanh dương

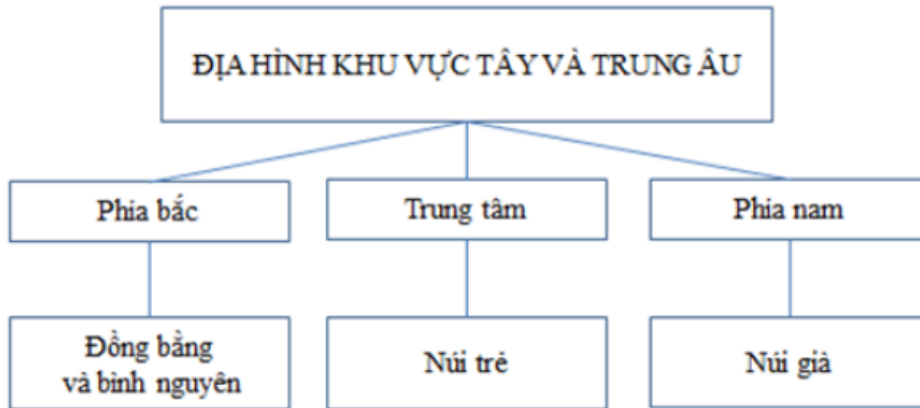


Hình 11 – Lược đồ các nước châu Âu

**Bài 2 trang 126 SBT Địa Lí 7**

Dựa vào SGK, kết hợp với quan sát hình 57.1 – Lược đồ tự nhiên khu vực Tây và Trung Âu, tr. 172 SGK, hoàn thành sơ đồ dưới đây:

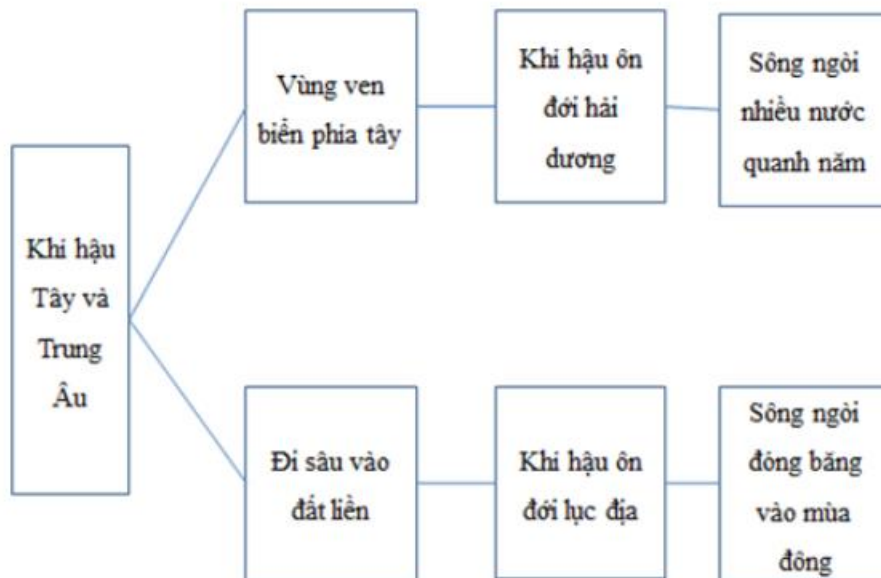
**Lời giải:**



**Bài 3 trang 126 SBT Địa Lí 7**

Hoàn thành sơ đồ: Khí hậu Tây và Trung Âu

**Lời giải:**

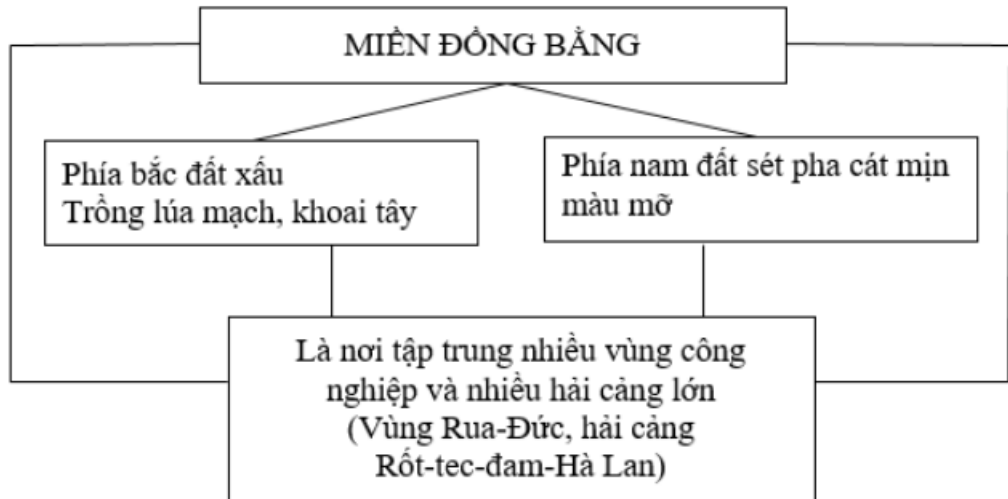


**Bài 4 trang 126 SBT Địa Lí 7**

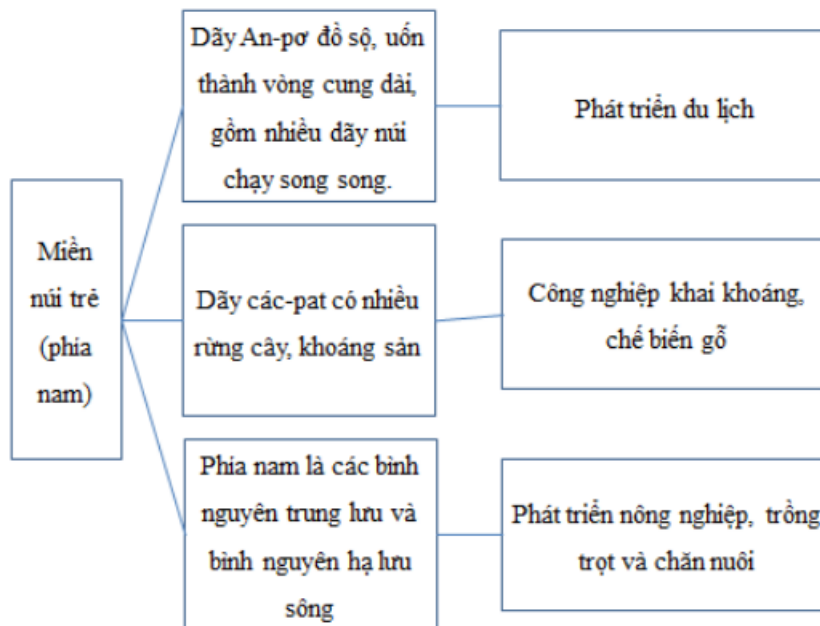
Hãy nối các ô chữ và điền nội dung vào các ô còn trống để được sơ đồ về mối quan hệ giữa địa hình và sự phát triển kinh tế ở các miền thuộc Tây và Trung Âu.

**Lời giải:**

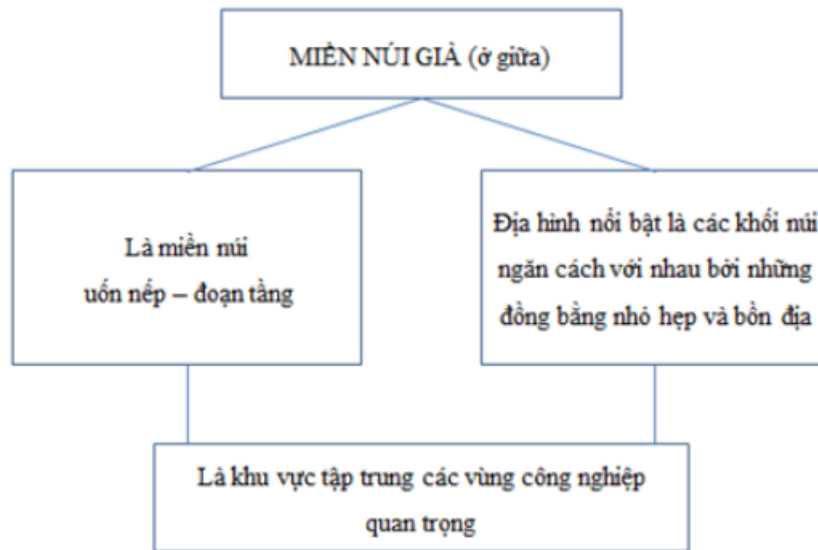
a)



b)



c)



Chúng tôi xin giới thiệu đến học sinh bộ tài liệu giải sách bài tập Địa Lí 7 Bài 57: Khu vực Tây và Trung Âu có đáp án và lời giải hay cho các câu hỏi trong sách bài tập môn Địa lớp 7. Hỗ trợ học sinh ôn tập, nắm chắc phương pháp giải các dạng bài tập. Nội dung chi tiết học sinh xem tại đây.

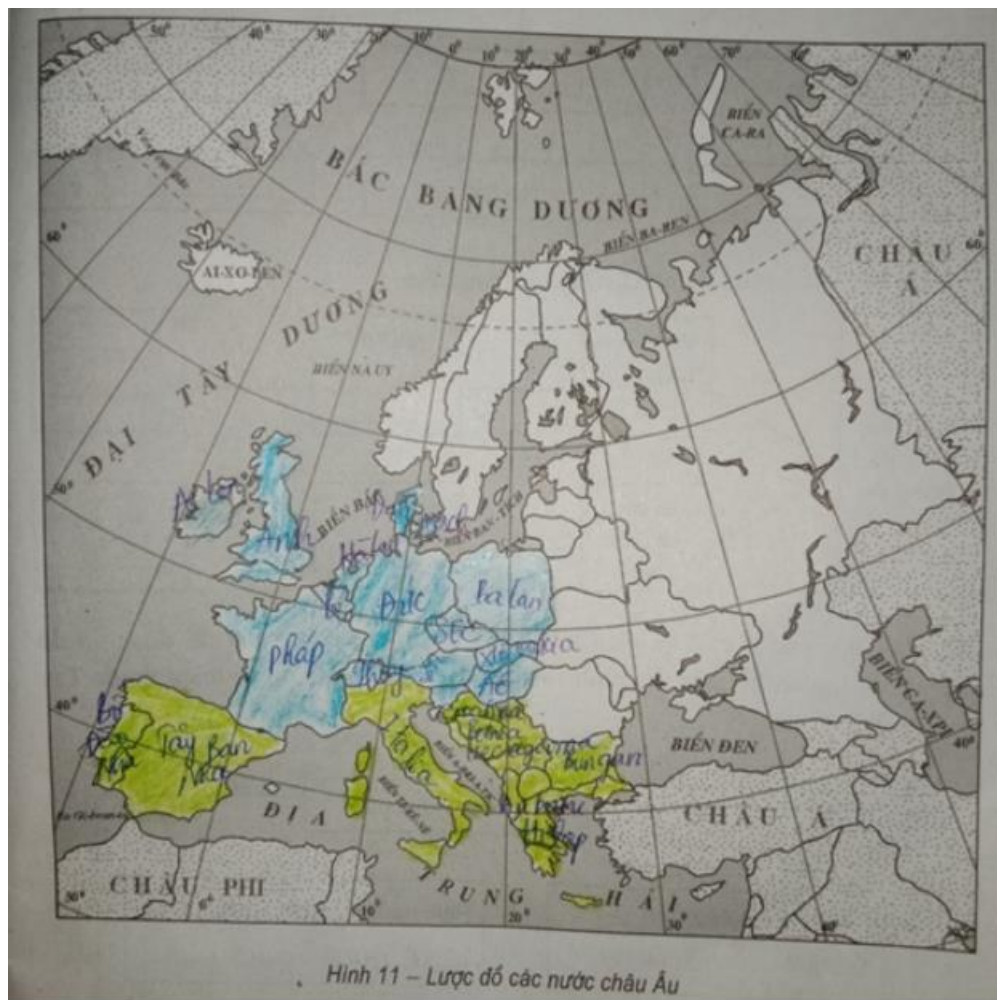
**Bài 1 trang 125 SBT Địa Lí 7**

Dựa vào hình 11 dưới đây:

Em hãy điền tên các nước ở Tây và Trung Âu lên lược đồ.

**Lời giải:**

Các nước Tây và Trung Âu được tô màu xanh dương

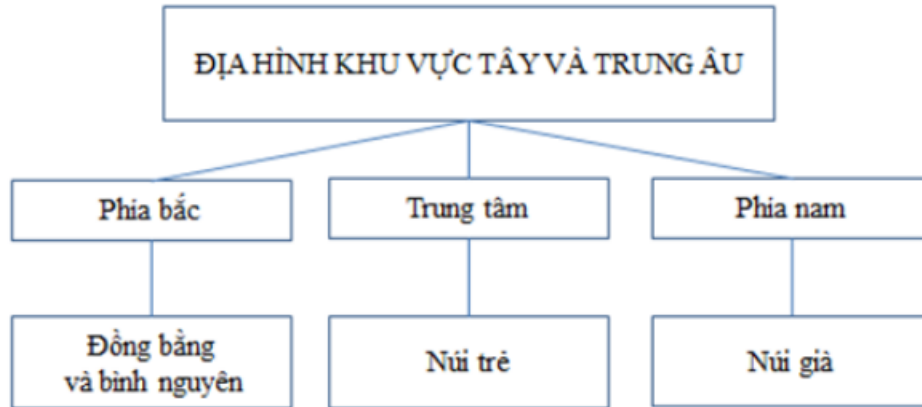


Hình 11 – Lược đồ các nước châu Âu

**Bài 2 trang 126 SBT Địa Lí 7**

Dựa vào SGK, kết hợp với quan sát hình 57.1 – Lược đồ tự nhiên khu vực Tây và Trung Âu, tr. 172 SGK, hoàn thành sơ đồ dưới đây:

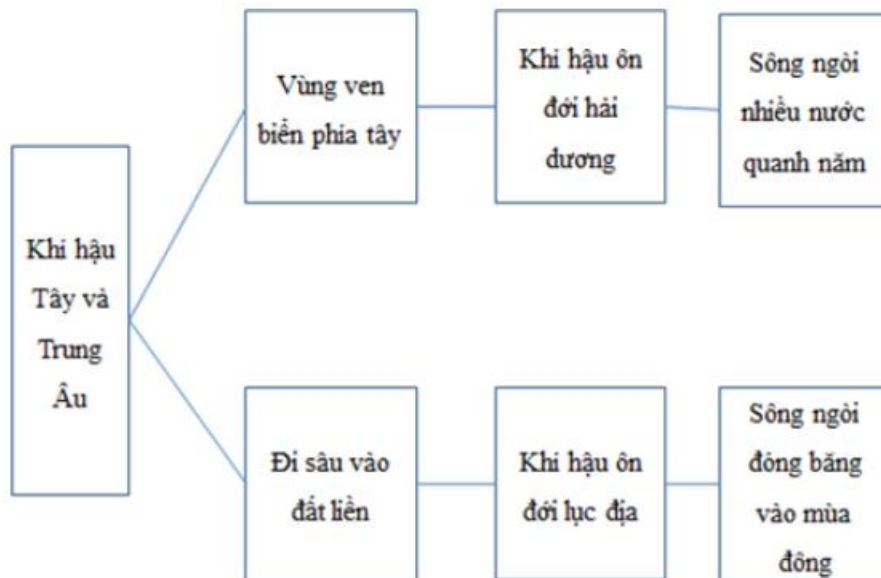
**Lời giải:**



**Bài 3 trang 126 SBT Địa Lí 7**

Hoàn thành sơ đồ: Khí hậu Tây và Trung Âu

**Lời giải:**

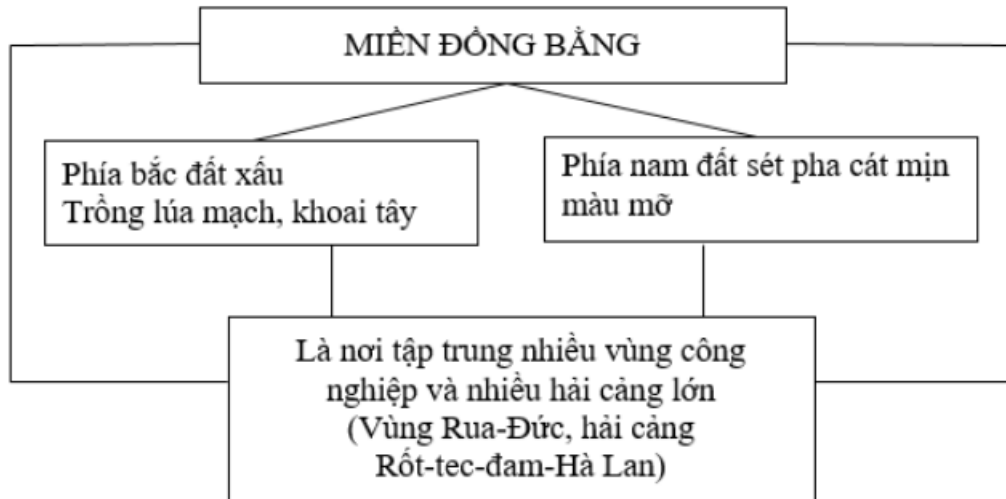


**Bài 4 trang 126 SBT Địa Lí 7**

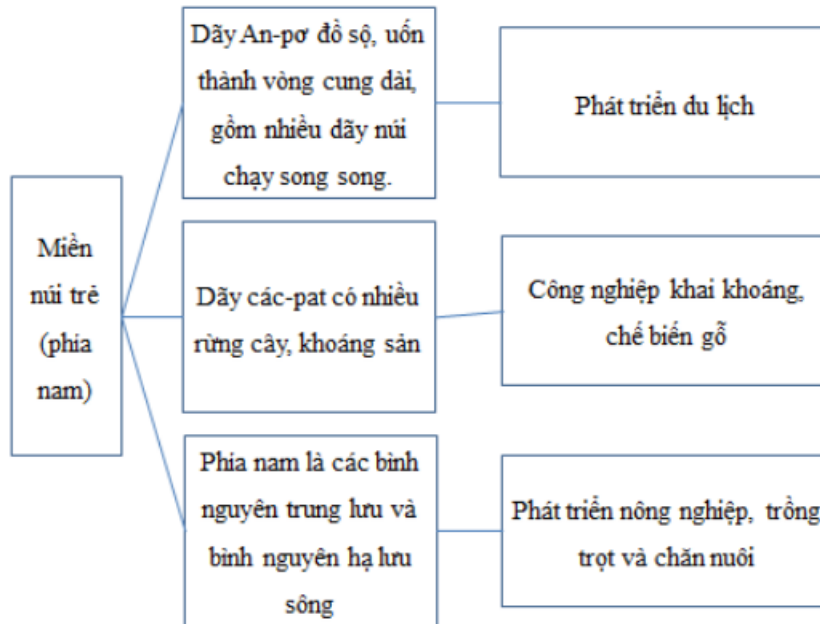
Hãy nối các ô chữ và điền nội dung vào các ô còn trống để được sơ đồ về mối quan hệ giữa địa hình và sự phát triển kinh tế ở các miền thuộc Tây và Trung Âu.

**Lời giải:**

a)



b)



c)

