

Mời các bạn cùng tham khảo hướng dẫn giải bài tập SBT Địa lý Bài 56: Khu vực Bắc Âu lớp 7 được chúng tôi chọn lọc và giới thiệu ngay dưới đây nhằm giúp các em học sinh tiếp thu kiến thức và củng cố bài học của mình và hoàn thành thật tốt các bài kiểm tra, bài thi trong quá trình học tập môn Địa lý.

Bài 1 trang 123 SBT Địa Lí 7

Quan sát hình 56.1 – Lược đồ các nước khu vực Bắc Âu, tr. 168 SGK và vốn hiểu biết, hãy hoàn thành bảng sau:

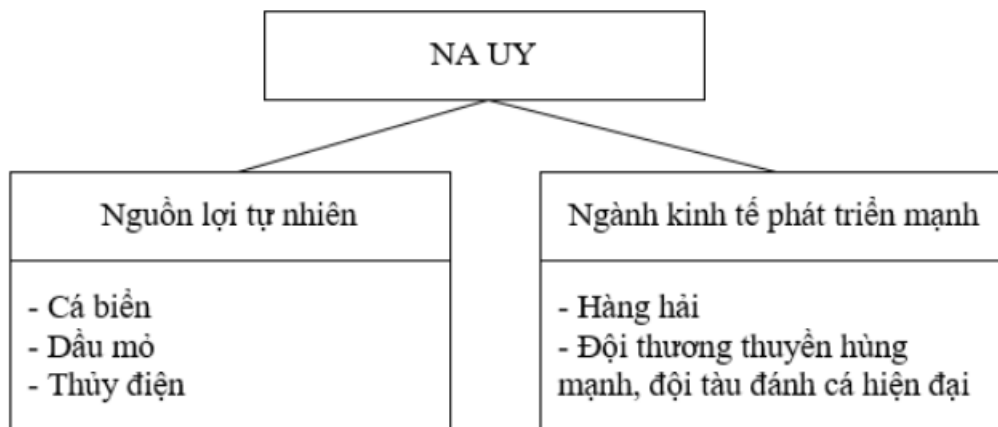
Lời giải:

CÁC NƯỚC BẮC ÂU

Tên nước	Diện tích	Thủ đô	Đặc điểm khí hậu, địa hình nổi bật
- Na Uy - Thụy Điển - Phần Lan - Ai-xơ-len	Thuộc vùng khí hậu đới lạnh.	- Hen-xi-ki - Xtoc-khom - Ô-xto - Rê-ki-a-vic	- Địa hình băng hà là phổ biến - Khí hậu lạnh giá, đông băng về mùa đông, mát mẻ về mùa hạ.

Bài 2 trang 123 SBT Địa Lí 7

Dựa vào sơ đồ dưới đây:



Kết hợp với câu 1, hãy trình bày về nước Na Uy.

Lời giải:

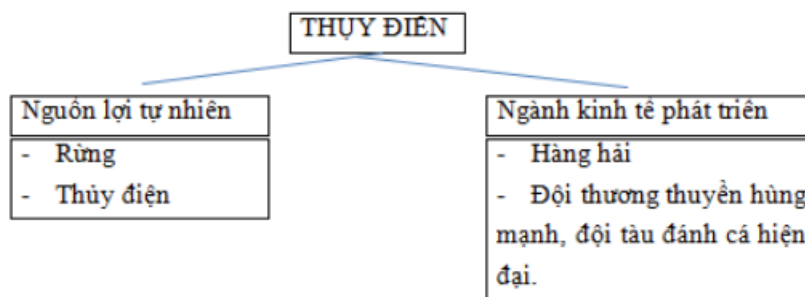
- Na Uy có thủ đô là Hen-xi-ki thuộc vùng khí hậu đới lạnh.
- Khí hậu đới lạnh, lạnh giá quanh năm, bị đóng băng về mùa đông, mùa hè mát mẻ.
- Nguồn lợi tự nhiên của Na Uy chủ yếu là cá biển, dầu mỏ, thủy điện.
- Các ngành kinh tế chủ yếu ở Na Uy là ngành hàng hải với đội thương thuyền tàu cá hiện đại.

Bài 3 trang 124 SBT Địa Lí 7

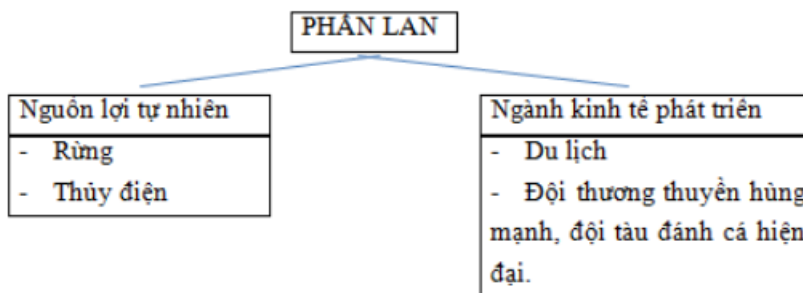
Dựa vào SGK và bài giảng của thầy cô giáo, hãy hoàn thành các sơ đồ dưới đây:

Lời giải:

a)



b)



c)

