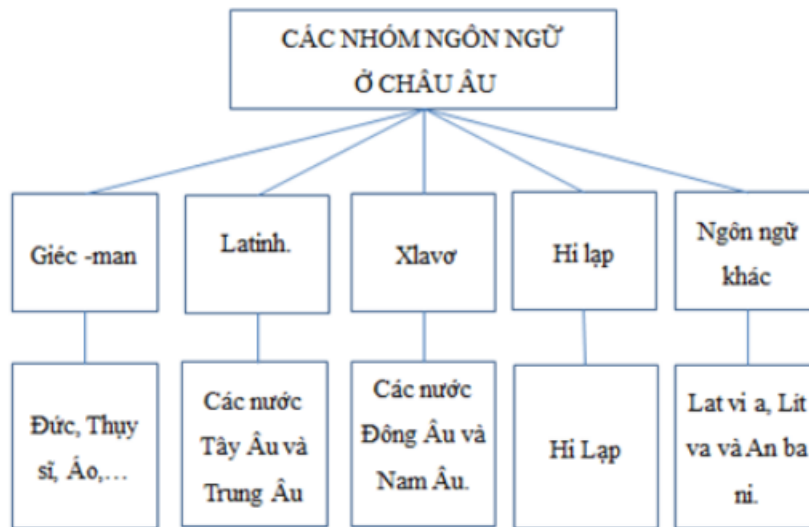


Mời các bạn cùng tham khảo hướng dẫn giải bài tập SBT Địa lý Bài 54: Dân cư xã hội châu Âu lớp 7 được chúng tôi chọn lọc và giới thiệu ngay dưới đây nhằm giúp các em học sinh tiếp thu kiến thức và củng cố bài học của mình và hoàn thành thật tốt các bài kiểm tra, bài thi trong quá trình học tập môn Địa lý.

**Bài 1 trang 118 SBT Địa Lí 7**

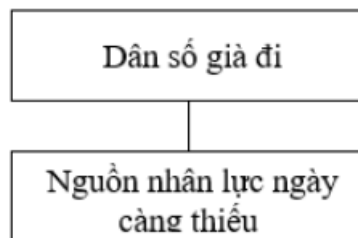
Dựa vào hình 54.1 tr. 160 SGK, hoàn thành sơ đồ sau:

**Lời giải:**

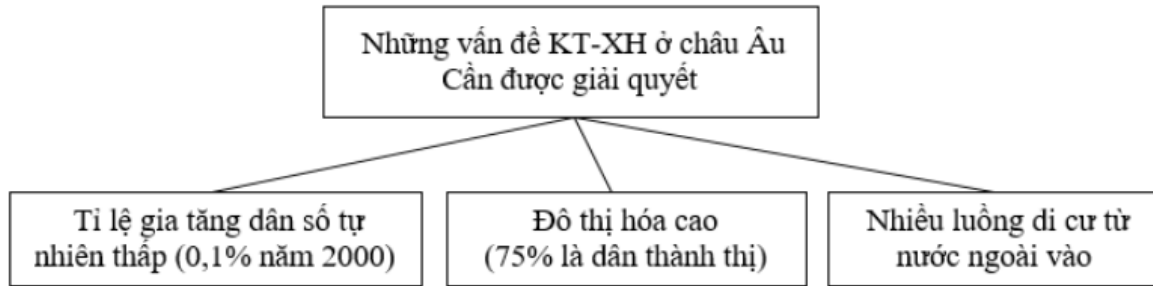


**Bài 2 trang 119 SBT Địa Lí 7**

Cho 2 ô chữ :



Em có thể nối hai ô chữ trên với ô chữ nào trong sơ đồ dưới đây :



**Lời giải:**

“Dân số già đi – nguồn nhân lực trẻ ngày càng thiếu” nối với ô “Tỉ lệ gia tăng dân số tự nhiên thấp (0,1% năm 2000)”.

**Bài 3 trang 119 SBT Địa Lí 7**

3. Dựa vào những câu dưới đây:

- Tây Âu và Trung Âu có nhiều vùng có mật độ dân số cao (các đồng bằng, các thung lũng lớn, các vùng duyên hải) trên 125 người/km<sup>2</sup>.

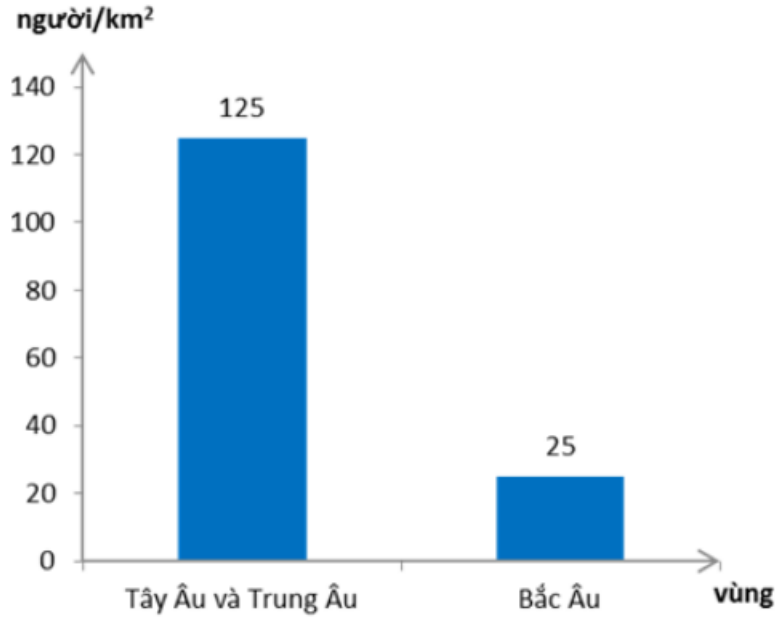
- Bắc Âu và những vùng núi cao, dân cư thưa thớt khoảng 25 người/km<sup>2</sup>.

a) Vẽ biểu đồ so sánh mật độ dân số giữa các vùng trên ở châu Âu:

b) Kết hợp với quan sát hình 54.3, tr. 162 SGK, nêu nhận xét về tình hình phân bố dân cư ở châu Âu.

**Lời giải:**

a)



b) + Các vùng có mật độ dân số cao thuộc các nước Tây Âu và Trung Âu.

+ Các vùng có mật độ dân số thấp thuộc phía đông bắc của châu Âu gồm Nga, bán đảo Xcan – đi – na – vi và Ai xơ len.

**Bài 4 trang 120 SBT Địa Lí 7**

Dựa vào hình 54.3 tr. 162 SGK, hoàn thành bảng dưới đây:

**CÁC ĐÔ THỊ LỚN Ở CHÂU ÂU**

Từ 1 đến 3 triệu dân	Từ 3 đến 5 triệu dân	Trên 5 triệu dân
- .....	- Béc-lin (LB Đức)	- Luân Đôn (Anh)
- .....	- .....	- .....
- .....	- .....	- .....
- .....	- .....	- .....
- .....	- .....	- .....
v.v	v.v	v.v

**Lời giải:**

**CÁC ĐÔ THỊ LỚN Ở CHÂU ÂU**

Từ 1 đến 3 triệu dân	Từ 3 đến 5 triệu dân	Trên 5 triệu dân
- I-rắc-li-ông - Pa-lec-mô - Vac-na - La-ri-xa - Ô-xlo v.v	- Béc-lin (LB Đức) - Ki-ep - Bu-đa-pet - Vac-xa-va - Ma-drit v.v	- Luân Đôn (Anh) - Pa-ri - Xanh-pê-tec-pua - Mat-xco-va