

Mời các bạn cùng tham khảo hướng dẫn giải bài tập SBT Địa lý Bài 53: Thực hành: Đọc, phân tích lược đồ, biểu đồ nhiệt độ và lượng mưa châu Âu lớp 7 được chúng tôi chọn lọc và giới thiệu ngay dưới đây nhằm giúp các em học sinh tiếp thu kiến thức và củng cố bài học của mình và hoàn thành thật tốt các bài kiểm tra, bài thi trong quá trình học tập môn Địa lý.

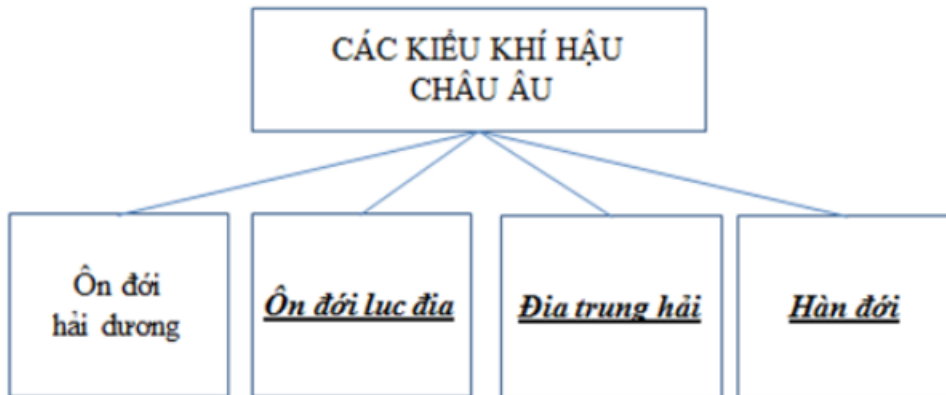
Bài 1 trang 115 SBT Địa Lí 7

Quan sát hình 51.2 – Lược đồ khí hậu châu Âu, tr. 155 SGK, em hãy:

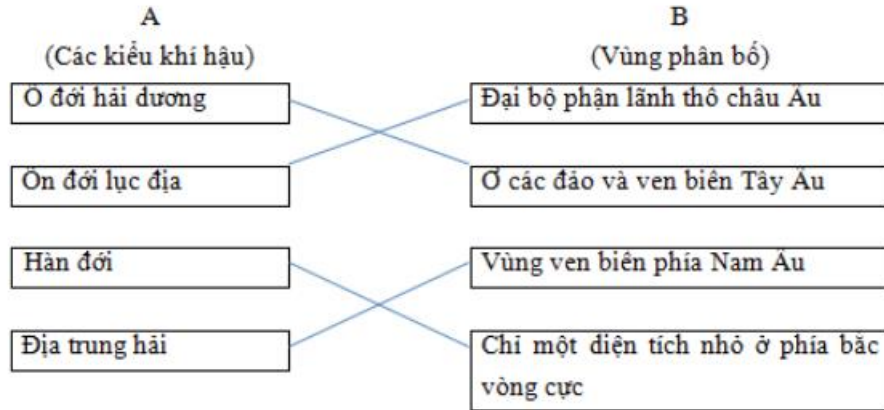
- a) Hoàn thành sơ đồ:
- b) Nối ô chữ ở cột A với ô chữ ở cột B để nêu đúng sự phân bố của các kiểu khí hậu.
- c) Quan sát các đường đẳng nhiệt tháng giêng, nhận xét về nhiệt độ của châu Âu vào mùa đông.
- d) Nối ô chữ ở cột A với ô chữ ở cột B để nêu đúng đặc điểm khí hậu của từng miền:

Lời giải:

a)



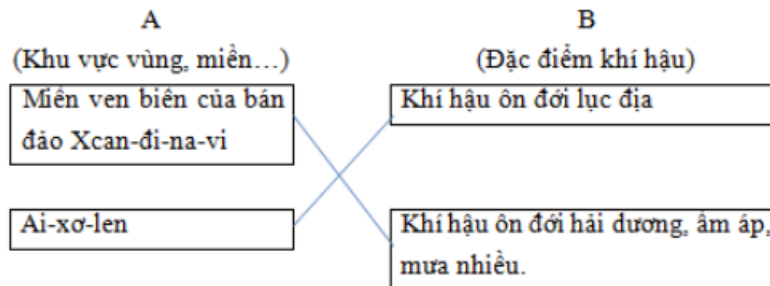
b)



c) Nhiệt độ của châu Âu về mùa đông giảm dần từ tây sang đông.

Càng vào sâu lục địa, nhiệt độ càng thấp, nhiệt độ dưới 0oC chiếm diện tích lớn.

d)



Ai-xơ-len và miền ven biển Tây Âu tuy nằm cùng vĩ độ nhưng chế độ nhiệt lại khác nhau vì:

- Do dòng biển nóng Bắc Đại Tây Dương chảy qua ven bờ của bán đảo Xcan – đi – na – vi nên có khí hậu ẩm ẩm hơn. Đảo Ai - xơ - len có dòng biển lạnh Gron – len chảy từ cực Bắc xuống phía nam khiến cho Ai – xơ - len lạnh và khô hơn.

Bài 2 trang 117 SBT Địa Lí 7

Quan sát hình 53.1 – Biểu đồ nhiệt độ và lượng mưa và sơ đồ thảm thực vật ở một số vùng của châu Âu, tr. 159 SGK, em hãy nêu nhận xét về nhiệt độ và lượng mưa theo gợi ý cụ thể sau:

Lời giải:

a) Nhận xét trạm A

- Về nhiệt độ: Nhiệt độ trung bình tháng 1 khoảng -5°C , tháng 7 là gần 20°C . Biên độ nhiệt lớn khoảng 25°C . Nhiệt độ thay đổi theo mùa, có 3 tháng nhiệt độ xuống dưới 0°C .
- Về lượng mưa: Các tháng mưa nhiều từ tháng 5 đến tháng 10, mùa đông mưa ít hơn nhưng lượng mưa khá đều, mưa quanh năm.
- Kết luận chung: Trạm A thuộc kiểu khí hậu ôn đới lục địa. Do biên độ nhiệt năm rất lớn, có 3 tháng mùa đông nhiệt độ dưới 0°C .

b) Nhận xét trạm B

- Về nhiệt độ: Nhiệt độ tháng 1 là khoảng 8°C , tháng 7 là gần 20°C . Biên độ nhiệt không lớn khoảng 12°C . Nhiệt độ mùa đông ấm mùa hạ nóng.
- Về lượng mưa: Các tháng mưa nhiều từ tháng 9 đến tháng 1, mưa quanh năm nhưng tập trung vào thu đông.
- Kết luận chung: Trạm B thuộc kiểu khí hậu địa trung hải. Do mưa tập trung chủ yếu vào thu đông.

c) Nhận xét trạm C

- Về nhiệt độ: Nhiệt độ trung bình tháng 1 khoảng 5°C , tháng 7 là gần 17°C . Biên độ nhiệt không lớn khoảng 12°C . Nhiệt độ mùa đông ấm, mùa hạ mát.
- Về lượng mưa: Lượng mưa lớn và mưa quanh năm.
- Kết luận chung: Trạm C thuộc kiểu khí hậu ôn đới hải dương. Do khí hậu ẩm và mưa nhiều quanh năm.

Bài 3 trang 118 SBT Địa Lí 7

Sắp xếp các biểu đồ nhiệt độ và lượng mưa (A, B, C) với lát cắt các thảm thực vật (D, E, F) thành từng cặp sao cho phù hợp.

Lời giải:

