

Chúng tôi xin giới thiệu đến học sinh bộ tài liệu giải sách bài tập Địa Lí 7 Bài 49: Dân cư và kinh tế châu Đại Dương có đáp án và lời giải hay cho các câu hỏi trong sách bài tập môn Địa lớp 7. Hỗ trợ học sinh ôn tập, nắm chắc phương pháp giải các dạng bài tập. Nội dung chi tiết học sinh xem tại đây.

Bài 1 trang 107 SBT Địa Lí 7

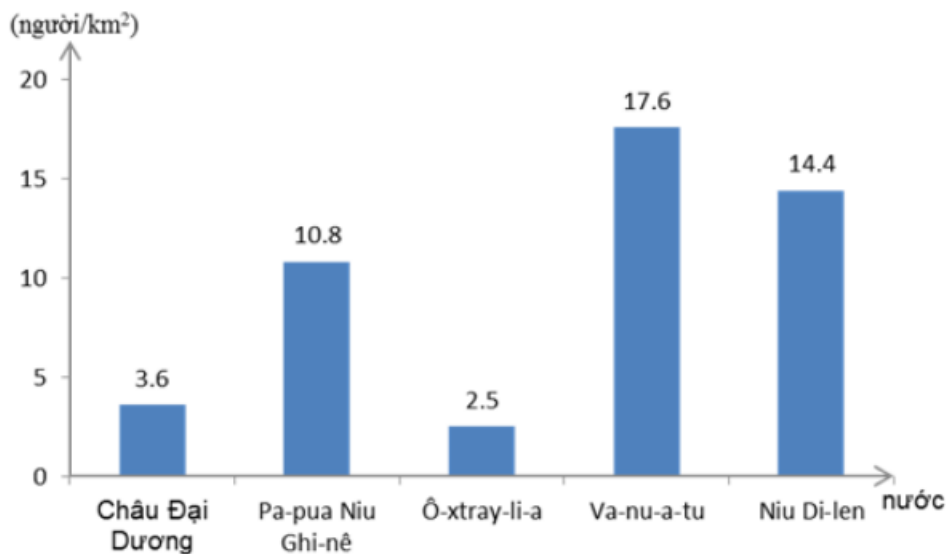
1. Căn cứ vào bảng số liệu tr. 147 SGK, em hãy:

Vẽ biểu đồ mật độ dân số của toàn châu lục và của các quốc gia trong bảng.

Qua biểu đồ và kết hợp vốn hiểu biết, nêu nhận xét về mật độ dân số của châu lục (mật độ dân số trung bình toàn thế giới 46 người/km²).

Lời giải:

Biểu đồ thể hiện mật độ dân số của toàn châu lục và của các quốc gia thuộc châu Đại Dương năm 2001



Nhận xét:

- + Cả châu lục có mật độ rất thấp chỉ 3,6 người/km².
- + Mật độ dân số cao nhất ở Va – nu – a – tu và thấp nhất là Ô – xtrây – li – a.
- + Các nước có mật độ dân số cao là Pa – pua Niu Ghi – nê và Niu Di – len.

Bài 2 trang 108 SBT Địa Lí 7

Cho biết ý kiến của em về câu dưới đây:

Phần lớn dân cư châu Đại Dương sống tập trung ở dải đất hẹp phía đông và đông nam Ô-xtray-li-a, ở bắc Niu Di-len và ở Pa-pua Niu Ghi-nê.

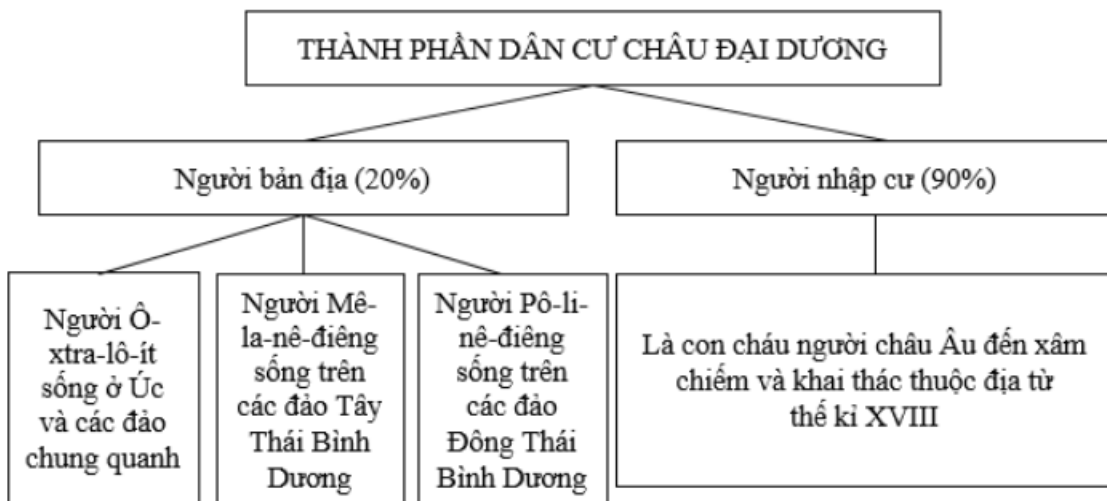
Lời giải:

Câu trả lời là đúng

Bài 3 trang 108 SBT Địa Lí 7

Hoàn thành sơ đồ dưới đây:

Lời giải:



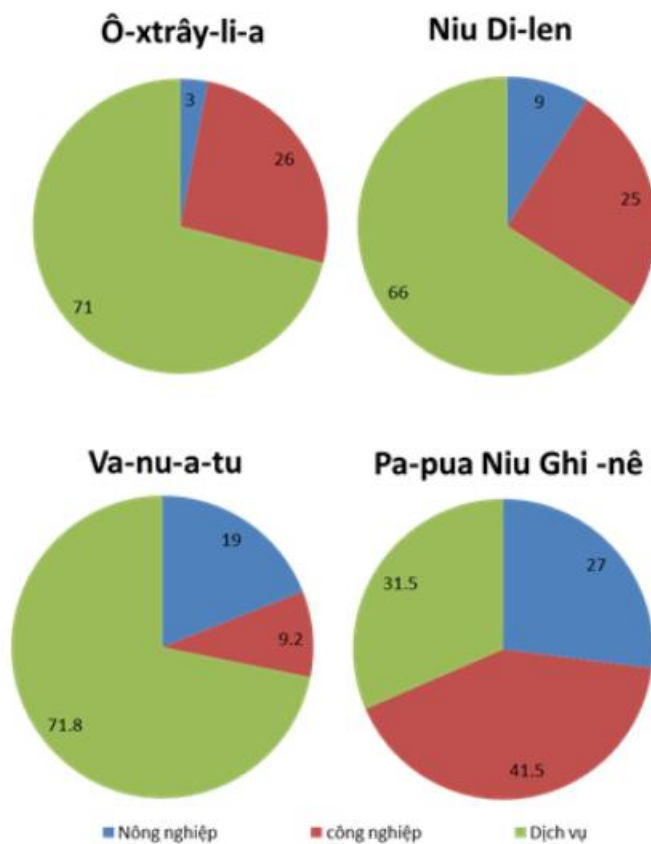
Bài 4 trang 108 SBT Địa Lí 7

Dựa vào bảng số liệu thống kê tr. 148 SGK, em hãy:

- a) Vẽ biểu đồ cơ cấu thu nhập quốc dân của các nước trong bảng.
- b) Kết hợp với vốn hiểu biết, nêu nhận xét về trình độ phát triển kinh tế của các quốc gia nêu trong bảng.

Lời giải:

- a) Biểu đồ cơ cấu thu nhập quốc dân của các nước châu Đại Dương năm 2000 (đơn vị %).



b) - Các nước châu Đại dương có trình độ phát triển kinh tế không đều.

- Ô – xtrây – li – a là quốc gia có GDP bình quân đầu người cao nhất.

- Pa – pua Niu Ghi – nê là quốc gia có GDP bình quân đầu người thấp nhất.