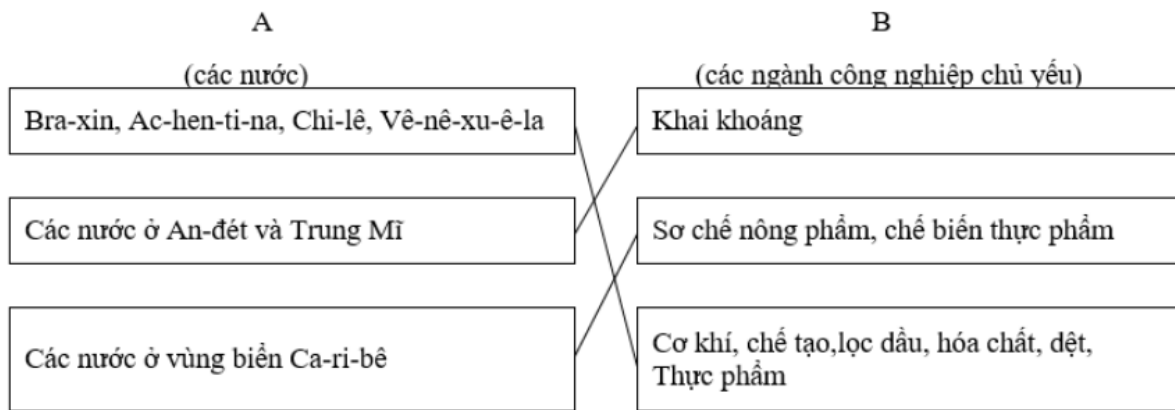


Mời các bạn cùng tham khảo hướng dẫn giải bài tập SBT Địa lý Bài 45: Kinh tế Trung và Nam Mỹ (tiếp theo) lớp 7 được chúng tôi chọn lọc và giới thiệu ngay dưới đây nhằm giúp các em học sinh tiếp thu kiến thức và củng cố bài học của mình và hoàn thành thật tốt các bài kiểm tra, bài thi trong quá trình học tập môn Địa lý.

**Bài 1 trang 100 SBT Địa Lí 7**

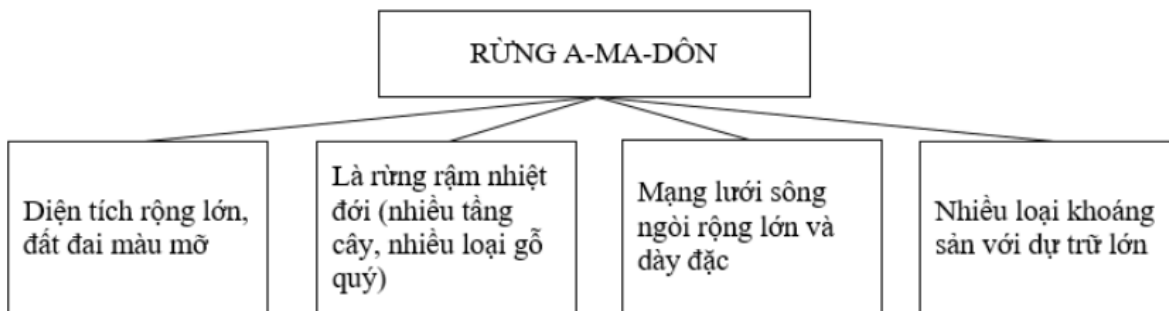
Hãy nối các ô chữ ở cột A với các ô chữ ở cột B sao cho đúng:

**Lời giải:**



**Bài 2 trang 100 SBT Địa Lí 7**

Dựa vào sơ đồ dưới đây:



- a) Hãy phân tích giá trị kinh tế của vùng rừng A – ma – đôn.
- b) Kết hợp với SGK và kiến thức đã học, giải thích tại sao vùng rừng A – ma – đôn cần được bảo vệ.

**Lời giải:**

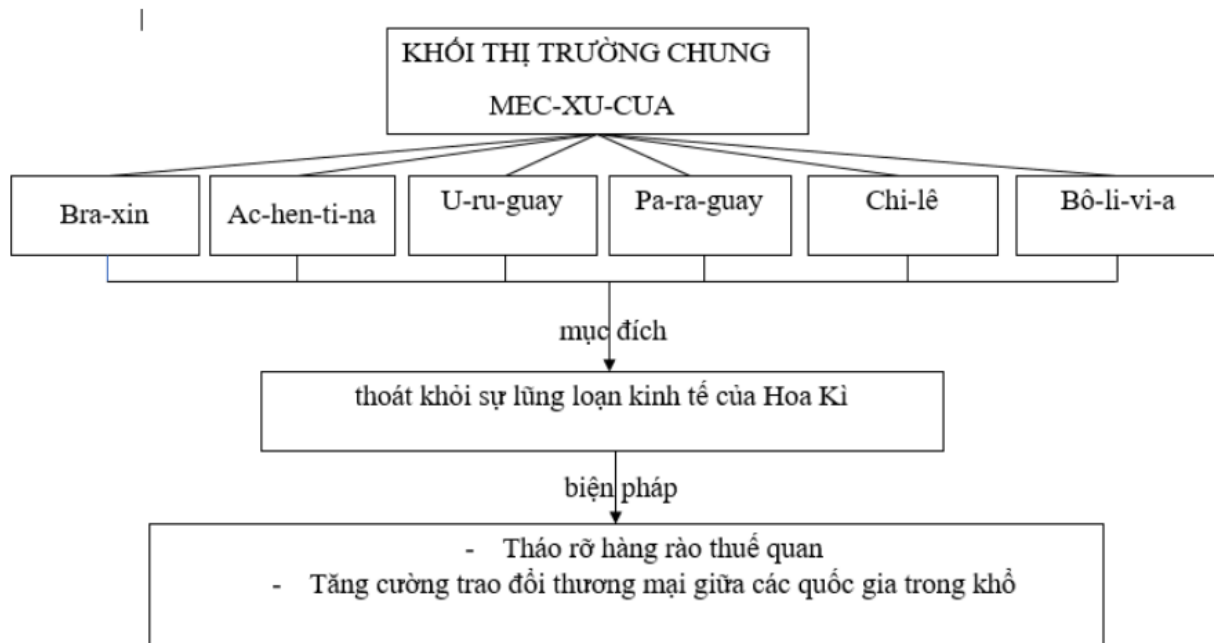
- a) - Đất đai rộng lớn, màu mỡ thuận lợi cho phát triển nông nghiệp.
- Diện tích rừng lớn, dự trữ nguồn gen quý, là nguồn tài nguyên vô giá, lá phổi xanh của thế giới.
  - Mạng lưới sông ngòi dày đặc thuận lợi cho phát triển giao thông đường thủy, nuôi trồng thủy sản, du lịch và là nguồn nước tưới cho nông nghiệp và sinh hoạt.
  - Nhiều loại khoáng sản có trữ lượng lớn tạo điều kiện cho phát triển công nghiệp khai khoáng, xuất khẩu kim loại.
- b) - Rừng A – ma – đôn có diện tích lớn, là một vùng dự trữ sinh quyển khổng lồ, được coi là lá phổi xanh của thế giới.
- Nếu con người không có ý thức giữ gìn, làm giảm diện tích và chất lượng rừng, sẽ khiến cho môi trường rừng bị hủy hoại kéo theo ảnh hưởng đến khí hậu toàn cầu.

**Bài 3 trang 101 SBT Địa Lí 7**

Hoàn thành sơ đồ dưới đây:

Dựa vào sơ đồ trên, kết hợp với vốn hiểu biết, em hãy phân tích nguyên nhân ra đời của khối thị trường chung Mec-co-xua.

**Lời giải:**



Nguyên nhân ra đời của môi trường chung Mec-co-xua :

- Nhằm tăng cường trao đổi thương mại giữa các quốc gia trong khối, thoát khỏi sự lũng loạn của Hoa Kỳ
- Tháo gỡ hàng rào thuế quan

**Bài 4 trang 101 SBT Địa Lí 7**

Hoàn thành sơ đồ dưới đây :

**Lời giải:**



**Bài 5 trang 102 SBT Địa Lí 7**

Bằng vốn hiểu biết của mình, hãy nêu những nguyên nhân gây ô nhiễm môi trường trong các siêu đô thị ở Trung và Nam Mỹ.

**Lời giải:**

Nước xả thải của nhà máy, khu công nghiệp, các siêu đô thị

- Khí thải từ nhà máy, khu công nghiệp, từ các phương tiện giao thông
- Chặt phá rừng ô-ma-dôn



