


Nội dung bài viết

1. [Câu 1 trang 113 vở bài tập Khoa học 5](#)
2. [Câu 2 trang 113 vở bài tập Khoa học 5](#)
3. [Câu 3 trang 114 vở bài tập Khoa học 5](#)

Câu 1 trang 113 Vở bài tập Khoa học 5

Quan sát các hình trang 134 SGK và nối khung chữ ở cột A với khung chữ ở cột B cho phù hợp.



①



②



③



④

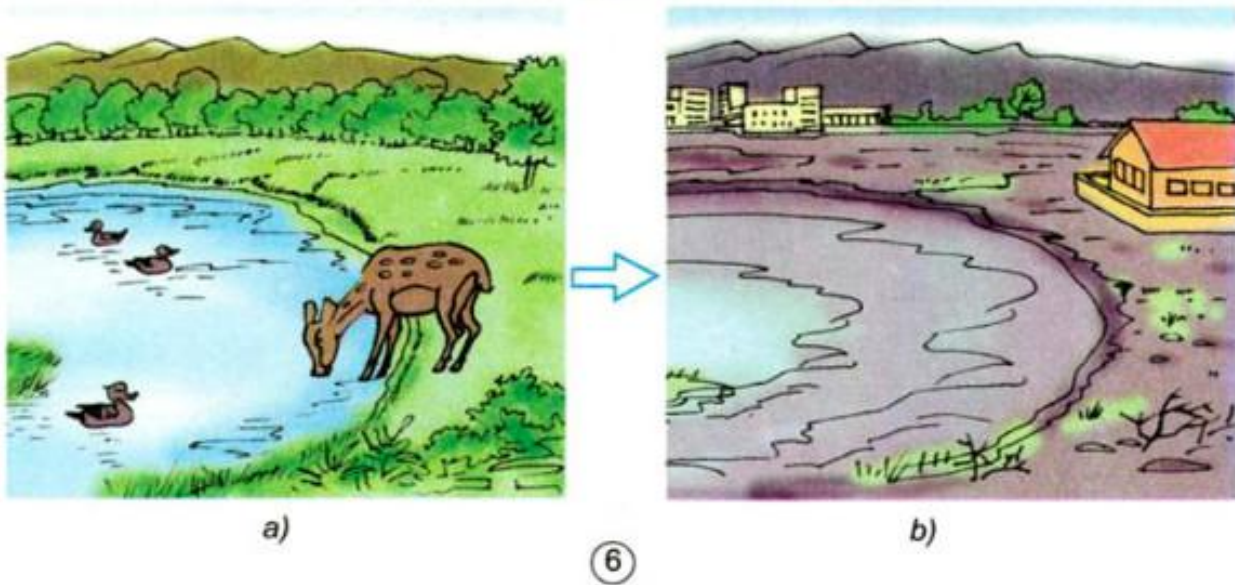

A	B
Hình 1	Con người phá rừng để lấy chất đốt (làm củi, đốt than).
Hình 2	Con người phá rừng để lấy đất canh tác, trồng các cây lương thực hoặc cây ăn quả.
Hình 3	Con người phá rừng để lấy gỗ làm nhà.
Hình 4	Rừng bị tàn phá do cháy rừng.

Trả lời:

A	B
Hình 1	Con người phá rừng để lấy chất đốt (làm củi, đốt than).
Hình 2	Con người phá rừng để lấy đất canh tác, trồng các cây lương thực hoặc cây ăn quả.
Hình 3	Con người phá rừng để lấy gỗ làm nhà.
Hình 4	Rừng bị tàn phá do cháy rừng.

Câu 2 trang 113 vở bài tập Khoa học 5

Quan sát các hình trang 135 SGK và hoàn thành bảng sau:



Hình Hậu quả của việc phá rừng

Hình 5

Hình 6

Trả lời:

Hình Hậu quả của việc phá rừng

Hình 5 Đất bị xói mòn trở nên bạc màu, mực nước ngầm hạ thấp.

- Mất môi trường sống của nhiều loài động vật. Động vật và thực vật quý hiếm giảm dần, một số loài đã bị tuyệt chủng hoặc đứng trước nguy cơ bị tuyệt chủng.

6

- Khí hậu thay đổi; lũ lụt, hạn hán xảy ra.

Câu 3 trang 114 vở bài tập Khoa học 5

Khoanh vào chữ cái trước câu trả lời đúng nhất.

Việc phá rừng dẫn đến hậu quả gì?

a. Khí hậu bị thay đổi; lũ lụt, hạn hán xảy ra thường xuyên.

b. Đất bị xói mòn trở nên bạc màu.

c. Động vật và thực vật quý hiếm giảm dần, một số loài đã bị tuyệt chủng và một số loài có nguy cơ bị tuyệt chủng.

d. Tất cả các ý trên.

Trả lời:

Chọn d.