


Nội dung bài viết

1. [Câu 1 trang 120 Vở bài tập Khoa học 5](#)
2. [Câu 2 trang 121 Vở bài tập Khoa học 5](#)
3. [Câu 3 trang 122 Vở bài tập Khoa học 5](#)
4. [Câu 4 trang 122 Vở bài tập Khoa học 5](#)
5. [Câu 5 trang 122 Vở bài tập Khoa học 5](#)
6. [Câu 6 trang 123 Vở bài tập Khoa học 5](#)
7. [Câu 7 trang 123 Vở bài tập Khoa học 5](#)
8. [Câu 8 trang 123 Vở bài tập Khoa học 5](#)
9. [Câu 9 trang 123 Vở bài tập Khoa học 5](#)

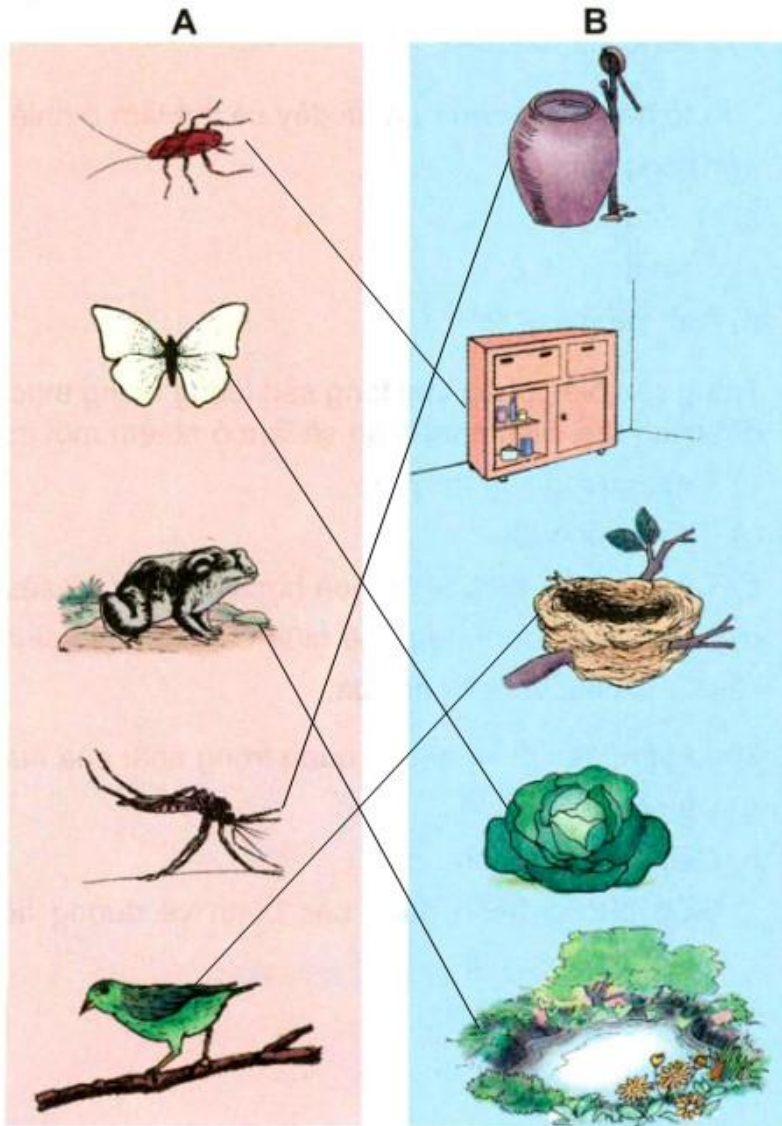
Câu 1 trang 120 Vở bài tập Khoa học 5

Quan sát những hình vẽ dưới đây và thực hiện các yêu cầu sau:

1.1. Nối con vật ở cột A với nơi chúng có thể đẻ trứng ở cột B cho phù hợp.



Trả lời:



1.2. Khoanh vào chữ cái trước câu trả lời đúng.

a) Bạn có thể làm gì để diệt trừ gián ngay từ trứng của nó?

a. Đậy nắp chum, vại.

b. Giữ vệ sinh nhà cửa sạch sẽ.

b) Bạn có thể làm gì để diệt trừ muỗi ngay từ trứng của nó?

a. Đậy nắp chum, vại.

b. Giữ vệ sinh nhà cửa sạch sẽ.

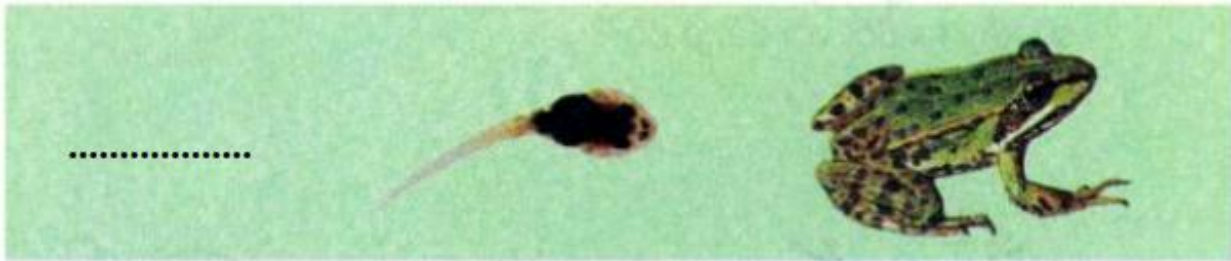

Trả lời:

Câu hỏi a) b)

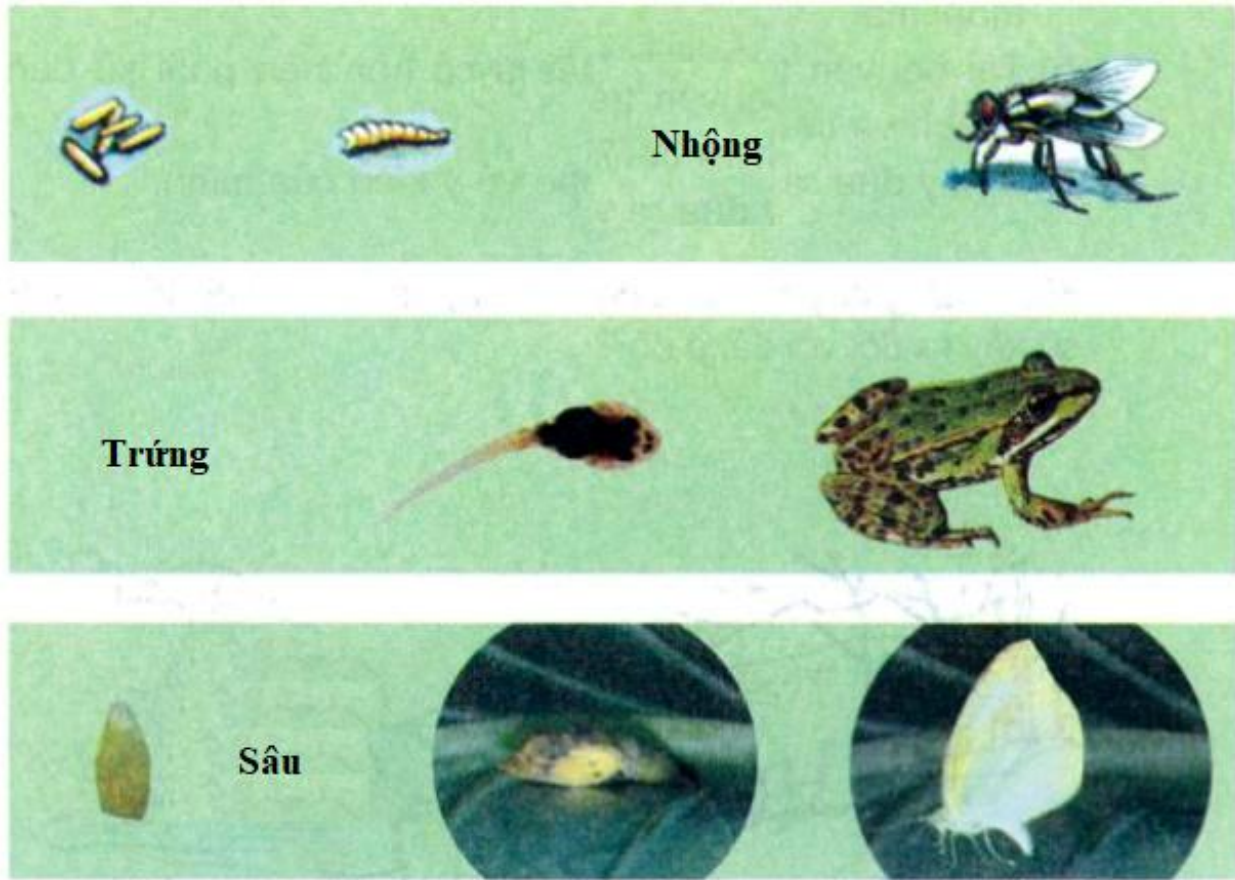
Đáp án b a

Câu 2 trang 121 vở bài tập Khoa học 5

Viết tên giai đoạn còn thiếu vào chỗ ... trong quá trình phát triển mỗi con vật dưới đây cho phù hợp.



Trả lời:



Câu 3 trang 122 vở bài tập Khoa học 5

Khoanh vào chữ cái trước câu trả lời đúng.

Loài vật nào dưới đây đẻ nhiều con nhất trong một lứa?

- a. Mèo.
- b. Voi.
- c. Chó.
- d. Ngựa.
- e. Trâu.
- g. Lợn.

Trả lời:

Chọn g. Lợn.

Câu 4 trang 122 vở bài tập Khoa học 5

Nối tên tài nguyên thiên nhiên ở cột A với vị trí của tài nguyên đó ở cột B cho phù hợp.

A
Tài nguyên thiên nhiên

Không khí

Các loại khoáng sản

Sinh vật, đất trồng, nước

B
Vị trí

Dưới lòng đất

Trên mặt đất

Bao quanh Trái Đất

Trả lời:

A
Tài nguyên thiên nhiên

Không khí

Các loại khoáng sản

Sinh vật, đất trồng, nước

B
Vị trí

Dưới lòng đất

Trên mặt đất

Bao quanh Trái Đất

Câu 5 trang 122 vở bài tập Khoa học 5

Viết chữ Đ vào trước ý kiến đúng, chữ S vào trước ý kiến sai.

Tài nguyên trên Trái Đất là vô tận, con người cứ việc sử dụng thoải mái.

Tài nguyên trên Trái Đất là có hạn nên phải sử dụng có kế hoạch và tiết kiệm.


Trả lời:

S Tài nguyên trên Trái Đất là vô tận, con người cứ việc sử dụng thoải mái.

Đ Tài nguyên trên Trái Đất là có hạn nên phải sử dụng có kế hoạch và tiết kiệm.

Câu 6 trang 123 vở bài tập Khoa học 5

Quan sát các hình 4, 5 trang 146, 147 SGK và trả lời câu hỏi dưới đây:



④



⑤

Điều gì sẽ xảy ra đối với đất ở đó?

Trả lời:

Đất ở đó bị xói mòn, bạc màu.

Câu 7 trang 123 vở bài tập Khoa học 5

Tại sao lũ lụt hay xảy ra khi rừng đầu nguồn bị phá hủy?

Trả lời:

Khi rừng đầu nguồn bị phá hủy, không còn cây cối giữ nước, nước thoát nhanh, gây lũ lụt.

Câu 8 trang 123 Vở bài tập Khoa học 5

Khoanh vào chữ cái trước câu trả lời đúng.

Trong các nguồn năng lượng dưới đây, nguồn năng lượng nào không phải là năng lượng sạch (khi sử dụng năng lượng đó sẽ tạo ra khí thải gây ô nhiễm môi trường)?

- a. Năng lượng mặt trời.
- b. Năng lượng gió.
- c. Năng lượng nước chảy.
- d. Năng lượng từ than đá, xăng dầu, khí đốt,...

Trả lời:

Chọn d.

Câu 9 trang 123 Vở bài tập Khoa học 5

Kể tên các nguồn năng lượng sạch hiện đang được sử dụng ở nước ta.

Trả lời:

Năng lượng sạch hiện đang được sử dụng ở nước ta: năng lượng mặt trời, gió, nước chảy.