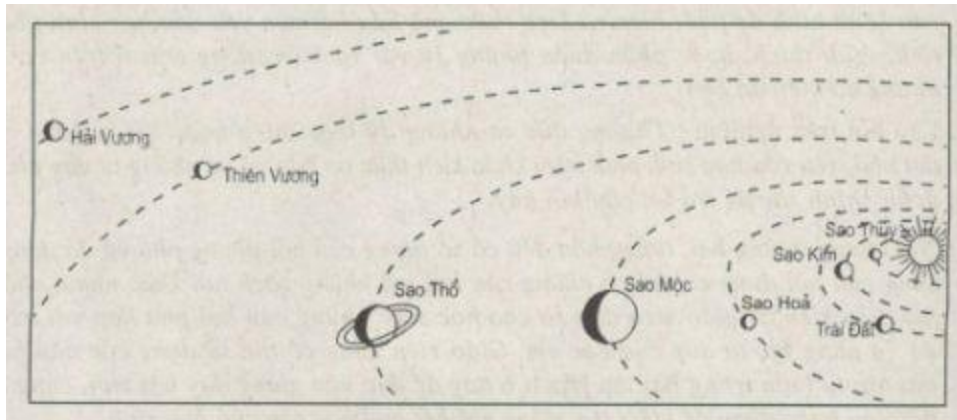


Chúng tôi xin giới thiệu đến học sinh bộ tài liệu giải sách bài tập **Địa Lí 6 Bài 1: Vị trí, hình dạng và kích thước của Trái Đất** có đáp án và lời giải hay cho các câu hỏi trong sách bài tập môn Địa lớp 6. Hỗ trợ học sinh ôn tập, nắm chắc phương pháp giải các dạng bài tập. Nội dung chi tiết học sinh xem tại đây.

Bài 1 sách bài tập Địa Lý 6

Dựa vào hình 1-1 hãy cho biết:



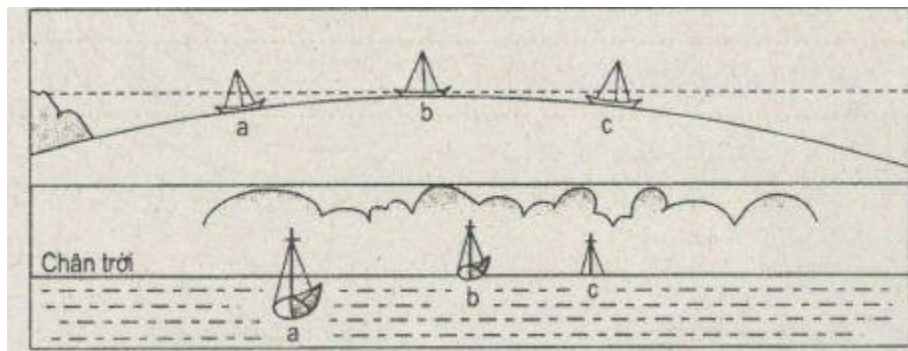
- Hệ Mặt Trời có mấy hành tinh, kể tên các hành tinh theo thứ tự xa dần Mặt Trời
- Trái Đất nằm ở vị trí thứ mấy trong các hành tinh theo thứ tự xa dần Mặt Trời.

Trả lời:

- Hệ Mặt Trời có 8 hành tinh. Sao Thủy, Sao Kim, Trái Đất, Sao Hỏa, Sao Mộc, Sao Thổ, Thiên Vương, Hải Vương.
- Trái Đất nằm ở vị trí thứ 3 trong các hành tinh theo thứ tự xa dần Mặt Trời.

Bài 2 sách bài tập Địa Lý 6

Dựa vào hình 1-2, hãy cho biết: Vì sao ban đầu chỉ nhìn thấy một phần cánh buồm, sau đó thấy toàn bộ cánh buồm và cuối cùng là thấy được cả thân con thuyền.

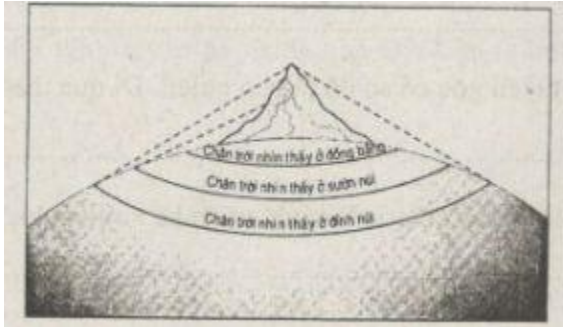


Trả lời:

Vì ban đầu, thuyền nằm ở ngoài đường chân trời nên chỉ thấy một phần cánh buồm; sau đó, thuyền nằm trên khoảng đường chân trời nên thấy toàn bộ cánh buồm và cuối cùng, thuyền nằm trước đường chân trời, gần về phía bờ nên nhìn thấy cả thân con thuyền.

Bài 3 sách bài tập Địa Lý 6

Dựa vào hình 1-3, hãy cho biết: Vì sao ta thấy đường chân trời khác nhau phụ thuộc vào chỗ đứng nhìn cao hay thấp?

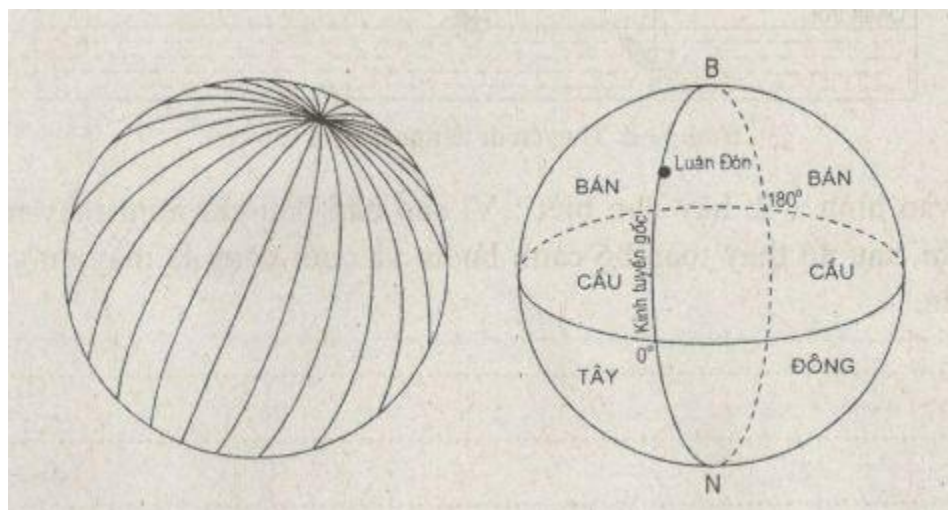


Trả lời:

Do Trái Đất hình cầu nên sự uốn cong bề mặt của nó đã ngăn không cho chúng ta nhìn xa quá 1 khoảng cách nhất định. Cũng vì lý do đó cho nên khi càng lên cao, tầm quan sát của mắt người càng lớn. Vì vậy đường chân trời phụ thuộc vào chỗ đứng nhìn cao hay thấp.

Bài 4 sách bài tập Địa Lý 6

Dựa vào các hình vẽ 1-4 và 1-5, hãy cho biết:



- Các nửa vòng tròn chạy dọc nối liền 2 cực là đường gì.

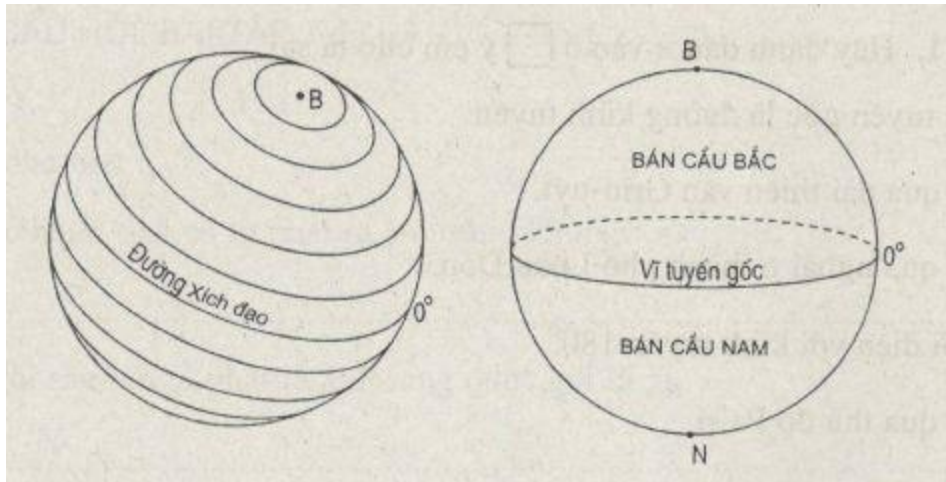
- -Đường kinh tuyến gốc có số độ là bao nhiêu. Đi qua thành phố nào.
- Đối diện với kinh tuyến gốc là kinh tuyến bao nhiêu độ.

Trả lời:

- Các nửa vòng tròn chạy dọc nối liền 2 cực là đường kinh tuyến.
- Đường kinh tuyến gốc: kinh tuyến 0 độ. Là đường đi qua đài thiên văn Grin-uyt ở ngoại ô thành phố Luân Đôn (nước Anh).
- Đối diện với kinh tuyến gốc là kinh tuyến 180 độ.

Bài 5 sách bài tập Địa Lý 6

Dựa vào các hình 1-6 và 1-7, hãy cho biết:



Các vòng tròn chạy ngang nhỏ dần về 2 cực là đường gì.

Vĩ tuyến gốc có số độ là bao nhiêu. Chiều dài của vĩ tuyến gốc so với các vĩ tuyến khác như thế nào?

Vĩ tuyến gốc còn có tên gọi là gì.

Trả lời:

- Các vòng tròn chạy ngang nhỏ dần về 2 cực là đường vĩ tuyến.
- Vĩ tuyến gốc có số độ là 0 độ. Chiều dài của vĩ tuyến gốc là dài nhất so với các vĩ tuyến khác.
- Vĩ tuyến gốc hay còn gọi là xích đạo.

Bài 6 sách bài tập Địa Lý 6

Những đường kinh tuyến nào chia quả Địa Cầu thành bán cầu Đông và bán cầu Tây.

Vĩ tuyến nào chia quả Địa Cầu thành bán cầu Bắc và bán cầu Nam.

Trả lời:

- Đường kinh tuyến chia quả Địa Cầu thành bán cầu Đông và bán cầu Tây là: Đường kinh tuyến gốc.
- Vĩ tuyến chia quả Địa Cầu thành bán cầu Bắc và bán cầu Nam là: Vĩ tuyến gốc hay còn gọi là xích đạo.