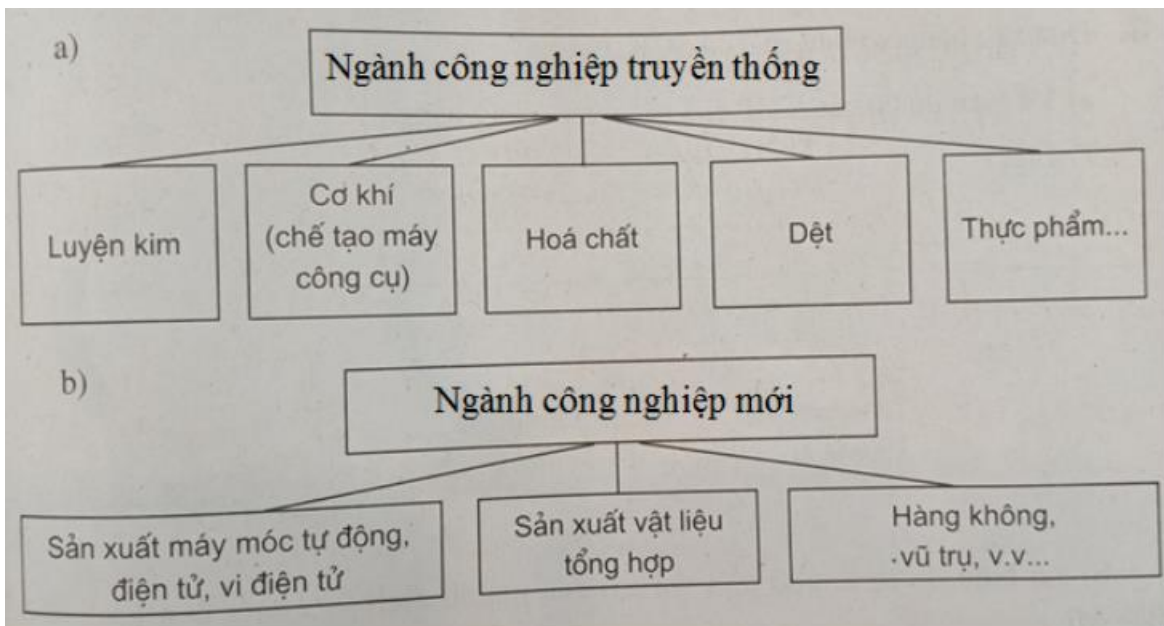


Chúng tôi xin giới thiệu đến học sinh bộ tài liệu giải sách bài tập Địa Lí 7 Bài 39: Kinh tế Bắc Mĩ (tiếp theo) có đáp án và lời giải hay cho các câu hỏi trong sách bài tập môn Địa lớp 7. Hỗ trợ học sinh ôn tập, nắm chắc phương pháp giải các dạng bài tập. Nội dung chi tiết học sinh xem tại đây.

**Bài 1 trang 89 SBT Địa Lí 7**

1. Hãy chọn các cụm từ: các ngành công nghiệp truyền thống, các ngành công nghiệp mới ghi vào ô trống trong các sơ đồ về các ngành công nghiệp ở Bắc Mĩ dưới đây sao cho chính xác:

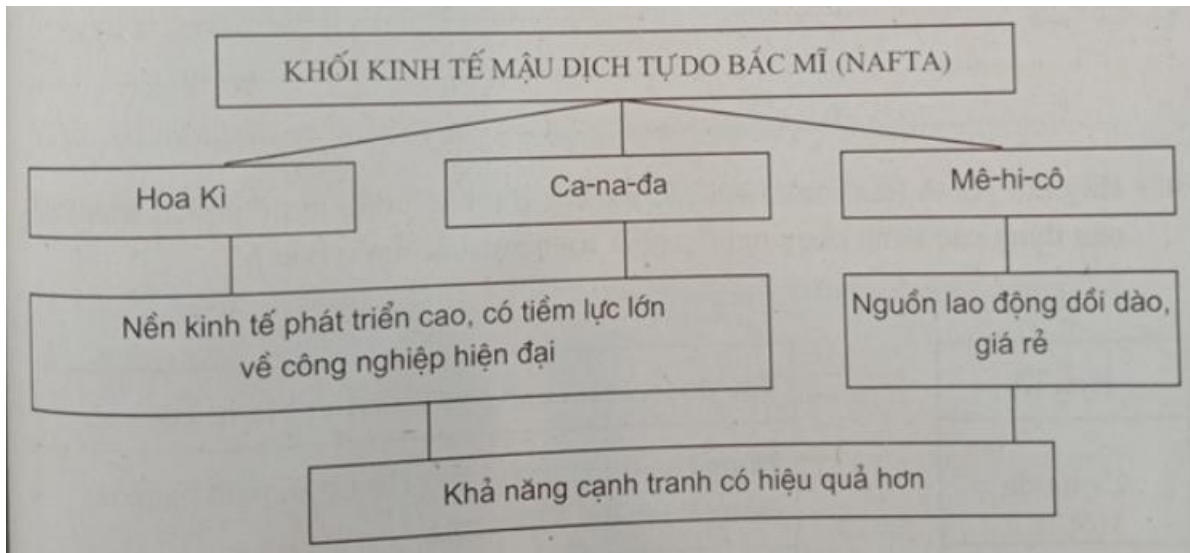
**Lời giải:**



**Bài 2 trang 89 SBT Địa Lí 7**

Qua sơ đồ dưới đây:

Em hãy: Phân tích khả năng cạnh tranh của khối kinh tế này.



**Lời giải:**

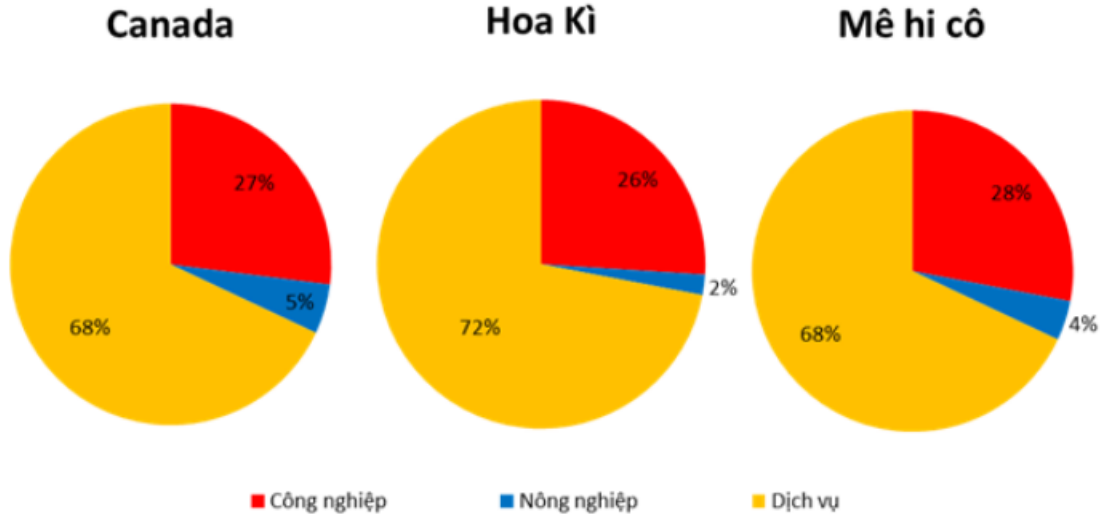
- Khối kinh tế mậu dịch tự do Bắc Mỹ được thành lập là thế mạnh của ba nước, tạo ra một thị trường chung rộng lớn, có sức cạnh tranh trên thị trường thế giới.
- Hoa Kỳ và Canada là hai nước có nền kinh tế phát triển cao, công nghệ hiện đại, Mê hi cô có nguồn lao động dồi dào, giá rẻ.
- Sự kết hợp của ba nước đã tạo ra sức mạnh tổng hợp để cạnh tranh thị trường thế giới, tạo điều kiện cho việc chuyển giao công nghệ từ Hoa Kỳ và Canada sang Mê hi cô, tận dụng được nguyên liệu và lao động của Mê hi cô, mở rộng thị trường nội địa.

**Bài 3 trang 90 SBT Địa Lí 7**

3. Dựa vào bảng số liệu tr. 124 SGK, em hãy:

- a. Vẽ biểu đồ cơ cấu GDP của các nước trong bảng.
- b. Từ biểu đồ trên, cho biết vai trò của ngành dịch vụ trong nền kinh tế ở Bắc Mỹ.

**Lời giải:**



Biểu đồ thể hiện cơ cấu GDP của các nước Bắc Mỹ năm 2001

Ngành dịch vụ luôn chiếm tỉ trọng cao nhất trong cơ cấu GDP của các nước Bắc Mỹ.

**Bài 4 trang 90 SBT Địa Lí 7**

4. Hãy nối cột A (tên nước) với các ý ở cột B (vùng công nghiệp phát triển) để nêu đúng các vùng công nghiệp phát triển của các nước Bắc Mỹ.

**Lời giải:**

