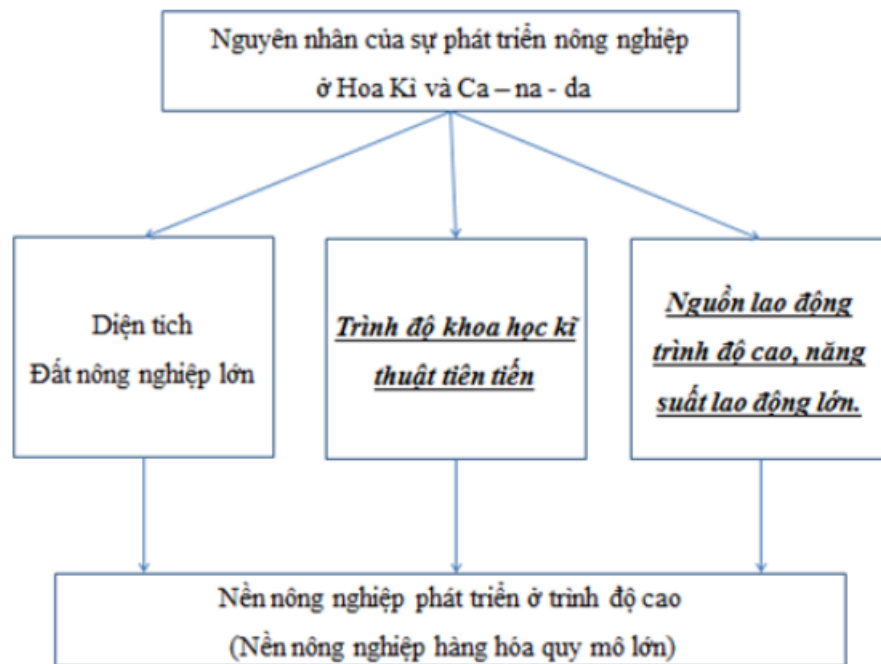


Chúng tôi xin giới thiệu đến học sinh bộ tài liệu giải sách bài tập Địa Lí 7 Bài 38: Kinh tế Bắc Mỹ có đáp án và lời giải hay cho các câu hỏi trong sách bài tập môn Địa lớp 7. Hỗ trợ học sinh ôn tập, nắm chắc phương pháp giải các dạng bài tập. Nội dung chi tiết học sinh xem tại đây.

Bài 1 trang 87 SBT Địa Lí 7

Hoàn thành sơ đồ dưới đây để nêu rõ điều kiện và nguyên nhân làm cho nền nông nghiệp Hoa Kỳ và Ca – na – da phát triển ở trình độ cao:

Lời giải:



Bài 2 trang 87 SBT Địa Lí 7

Dựa vào bảng thống kê dưới đây (năm 2001):

Tên nước	Dân số (triệu người)	Lương thực có hạt (triệu tấn)	Bình quân lương thực có hạt/đầu người (kg/người).
Ca – na – da	31	44,25	
Hoa Kỳ	288	325,31	
Mê – hi - cô	100,5	29,73	

Em hãy:

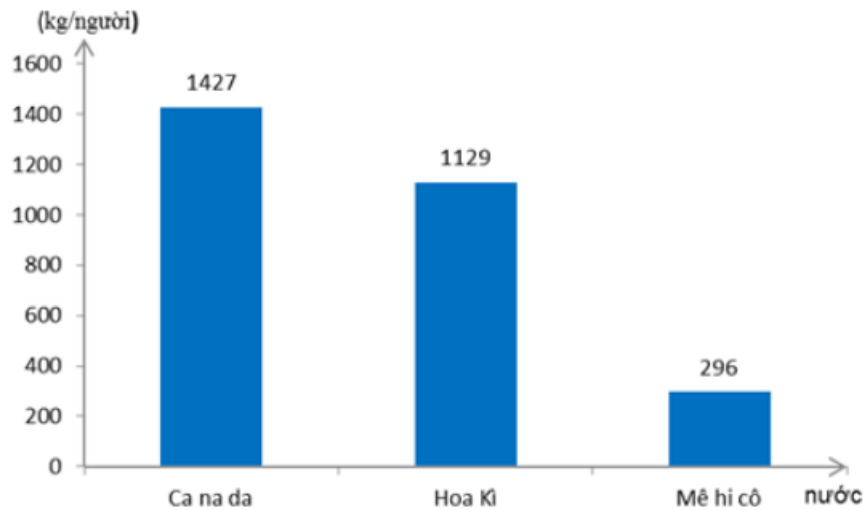
- a) Tính sản lượng lương thực có hạt bình quân đầu người của ba nước và ghi vào cột 4 ở bảng trên.
- b) Vẽ biểu đồ so sánh bình quân lương thực có hạt/người của ba nước.
- c) Từ biểu đồ trên, em rút ra nhận xét gì?

Lời giải:

a)

Tên nước	Dân số (triệu người)	Lương thực có hạt (triệu tấn)	Bình quân lương thực có hạt/đầu người (kg/người).
Ca - na - đa	31	44,25	1427
Hoa Kì	288	325,31	1129
Mê - hi - cô	100,5	29,73	296

b) Biểu đồ thể hiện bình quân lương thực có hạt/người của ba nước năm 2001



c) - Nhìn chung, các nước Bắc Mỹ có bình quân lương thực khá cao, Ca na đa có bình quân lương thực/người cao nhất. Hoa Kì có bình quân lương thực/người cao thứ 2, và thấp nhất là Mê hi cô.

- Sản lượng lương thực của Ca na da thấp hơn Hoa Kỳ, nhưng dân số của Ca na da ít hơn nên có bình quân lương thực/người cao hơn.
- Mê hi cô có sản lượng lương thực thấp và dân số đông nên bình quân lương thực/người thấp.

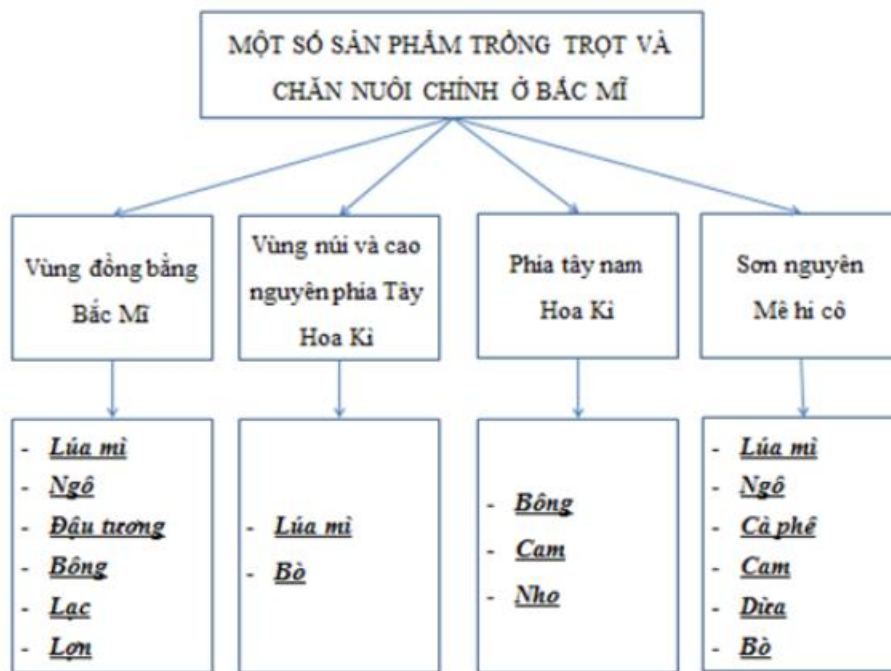
Bài 3 trang 88 SBT Địa Lí 7

Quan sát hình 38.2 – Lược đồ nông nghiệp Bắc Mỹ, tr. 20 SGK, em hãy:

- Hoàn thành sơ đồ dưới đây:
- Kết hợp với SGK, nêu nhận xét về sự phân bố sản xuất nông nghiệp ở Bắc Mỹ.

Lời giải:

a)



b) - Vùng đồng bằng trung tâm Bắc Mỹ trước đây sản xuất chuyên canh thành các vành đai nông nghiệp.

- Hiện nay sản xuất trở nên đa canh, tuy nhiên các sản phẩm chính phân bố vẫn khá tập trung.

+ Lúa mì tập trung ở vùng phía nam Ca na da, phía bắc Hoa Kỳ và phía nam Mê hi cô.

+ Ngô: phía đông Hoa Kỳ và phía nam Mê hi cô.

+ Bò: vùng Cooc – đi – e và vùng trung tâm Bắc Mỹ.

Bài 4 trang 88 SBT Địa Lí 7

Cho biết ý kiến của em về câu dưới đây:

Một hạn chế của sản xuất nông nghiệp ở Bắc Mỹ là nhiều nông sản có giá thành cao nên bị cạnh tranh mạnh trên thị trường.

Lời giải:

Câu trên đúng