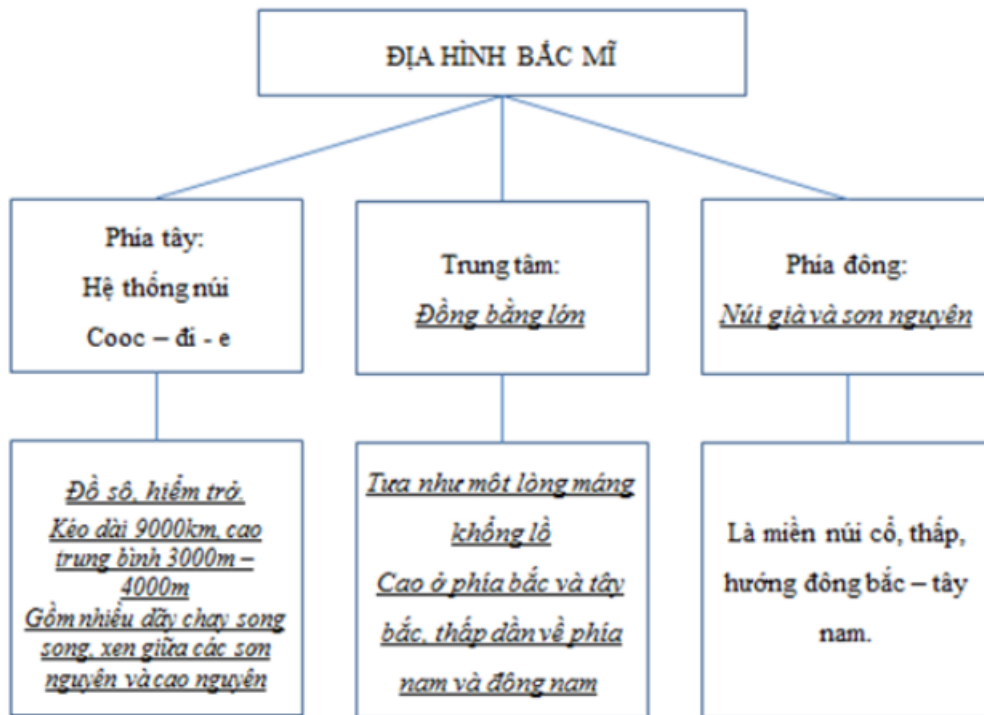


Chúng tôi xin giới thiệu đến học sinh bộ tài liệu giải sách bài tập Địa Lí 7 Bài 36: Thiên nhiên Bắc Mĩ có đáp án và lời giải hay cho các câu hỏi trong sách bài tập môn Địa lớp 7. Hỗ trợ học sinh ôn tập, nắm chắc phương pháp giải các dạng bài tập. Nội dung chi tiết học sinh xem tại đây.

**Bài 1 trang 83 SBT Địa Lí 7**

Dựa vào SGK và bài giảng của thầy cô giáo, hãy hoàn thành sơ đồ dưới đây:

**Lời giải:**



**Bài 2 trang 84 SBT Địa Lí 7**

Qua sơ đồ em vừa hoàn thành ở câu 1, hãy cho biết tại miền núi Cooc – đi – e và miền núi A – pa – lat ở Bắc Mĩ có thể phát triển được những ngành kinh tế nào?

**Lời giải:**

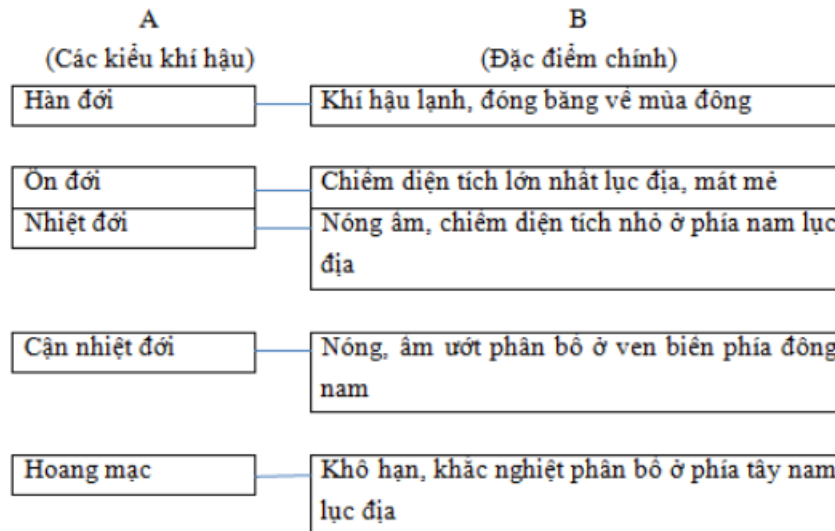
- Ngành công nghiệp thủy điện.
- Công nghiệp khai thác khoáng sản.
- Ngành lâm nghiệp.

**Bài 3 trang 84 SBT Địa Lí 7**

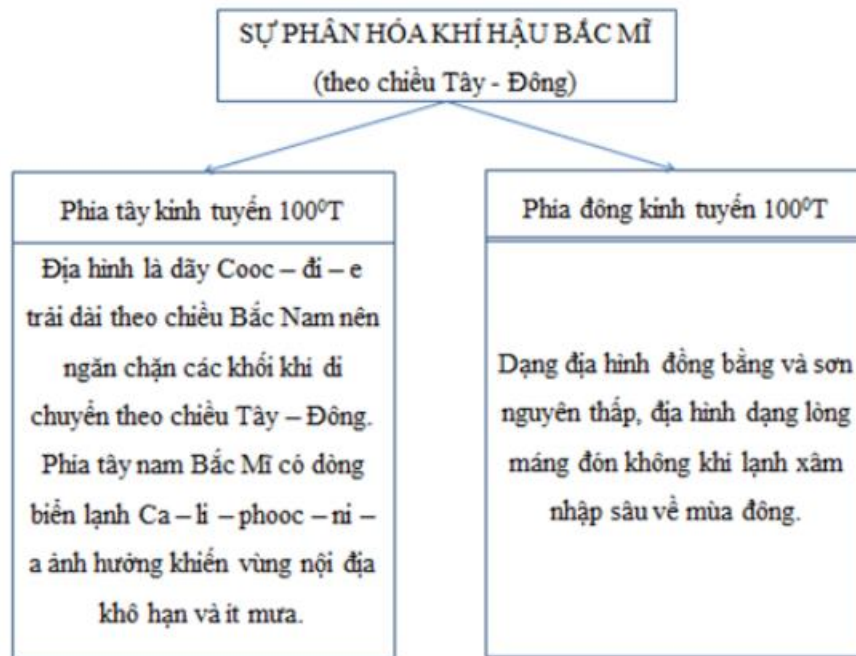
Quan sát hình 36.3 – Lược đồ các kiểu khí hậu Bắc Mỹ, tr. 115 SGK và dựa vào SGK, vốn hiểu biết, hãy hoàn thành sơ đồ dưới đây:

**Lời giải:**

a) Sự phân hóa khí hậu Bắc Mỹ (theo chiều Bắc Nam)



b)



Bài 4 trang 85 SBT Địa Lí 7

Quan sát hình 36.2 và 36.3 tr. 114, 115 SGK, nêu tên và sự phân bố các kiểu rừng ở Bắc Mỹ.

**Lời giải:**

- Rừng lá kim: phân bố ở phía bắc lục địa Bắc Mỹ, đất nước Ca – na – da.
- Rừng lá rộng: phân bố ở phía đông Hoa Kỳ.
- Rừng cận nhiệt đới: phân bố ở duyên hải phía tây Hoa Kỳ.
- Xa van: phía đông Mê – hi – cô.
- Rừng nhiệt đới ẩm: phân bố ở Trung Mỹ.